



По каким траекториям Вы можете продолжить движение?

1. По любой траектории.
2. Только по траекториям I или II.
3. Только по траекториям II и III.
4. Только по траектории I и III.



Разрешается ли водителю выполнить разворот в данной ситуации?

1. Разрешается, после проезда знака 3.31 «Конец зоны всех ограничений».
2. Запрещается.
3. Разрешается.



Ваши действия при повороте направо:

1. Повернуть, уступив дорогу легковому автомобилю.
2. Остановиться, и дождаться включения основного сигнала светофора.
3. Повернуть, не уступая легковому автомобилю.



Ваши действия в данной ситуации?

1. Включить правый указатель поворота.
2. Включение указателя поворота не требуется.
3. Включить правый указатель поворота только при наличии движущихся сзади транспортных средств.



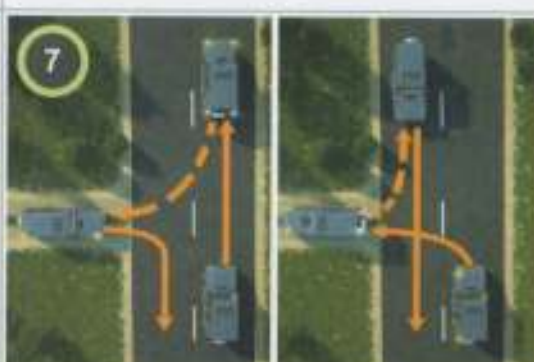
Разрешается ли Вам остановиться в данном месте?

1. Разрешается.
2. Запрещается.




Что Вы сделаете при движении прямо, на данном перекрестке?

1. Проедете, не уступая встречному автомобилю.
2. Уступите автомобилю, уже находящемуся на перекрестке.



Выберите рисунок, на котором указан безопасный способ разворота с использованием примыкающей полевой дороги с левой стороны?

1. На левом рисунке.
2. На правом рисунке.



Начинать сердечно-легочную реанимацию, если пострадавший потерял сознание, следует:

1. Независимо от наличия пульса.
2. При отсутствии пульса на сонной артерии.



Кто из водителей нарушает Правила, двигаясь со скоростью 40 км/ч., в данной ситуации?

1. Водитель автомобиля желтого цвета.
2. Водитель автомобиля красного цвета.
3. Оба нарушают.
4. Оба не нарушают.



Уступите ли Вы дорогу грузовому автомобилю?

1. Да.
2. Нет.
3. Да, так как грузовой автомобиль приближается справа.



Что означает данный дорожный знак?

1. Движение через мост запрещено.
2. Требуется уступить дорогу встречному транспортному средству.
3. Предупреждает о наличии узкого участка.
4. Дает преимущество в движении перед встречным транспортным средством.



Кому из пешеходов Вы уступите дорогу в данной ситуации?

1. Только пешеходу, идущему к стоящему трамваю со стороны дверей.
2. Только пешеходу, идущему от стоящего трамвая со стороны дверей.
3. Обойм пешеходам.
4. Никому из пешеходов.



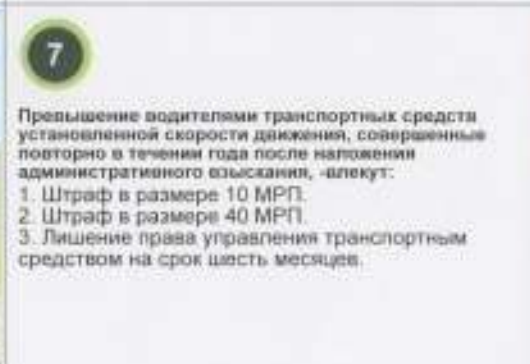
Каковы Ваши действия при проезде железнодорожного переезда в данной ситуации?

1. Проехать переезд, руководствуясь разрешающим положением шлагбаума.
2. Остановиться перед переездом, так как включен запрещающий сигнал светофора.
3. Проехать переезд, если отсутствует приближающийся поезд.



Разрешается ли Вам выполнить обгон грузового автомобиля в зоне действия данного дорожного знака, управляя легковым автомобилем?

1. Разрешается.
2. Запрещается.
3. Разрешается, только, если скорость грузового автомобиля менее 30 км/ч.
4. Разрешается, если скорость автомобиля 30 км/ч.



Превышение водителями транспортных средств установленной скорости движения, совершенные повторно в течение года после наложения административного взыскания, влекут:

1. Штраф в размере 10 МРО.
2. Штраф в размере 40 МРО.
3. Лишение права управления транспортным средством на срок шесть месяцев.



С какой скоростью Вы обязаны двигаться после проезда данных дорожных знаков при движении по этой полосе вне населенного пункта, управляя легковым автомобилем?

1. Не более 50 км/ч.
2. Не менее 50 км/ч., но не более 140 км/ч.
3. Не менее 50 км/ч., но не более 100 км/ч.
4. Не менее 50 км/ч., максимальная скорость не ограничена.



Что требуют от Вас данные дорожные знаки?

1. Требуют двигаться со скоростью не более 40 км/ч.
2. Требуют двигаться со скоростью не менее 40 км/ч.
3. В данных условиях ничего не требуют.



Что обозначают прерывистые линии горизонтальной разметки на перекрестке?

1. Границы полос движения в пределах перекрестка.
2. Обязательное направление движения на перекрестке.
3. Обязательное направление движения на перекрестке, разворот не запрещен.



Ваши действия при повороте налево:

1. Проедете перекресток первым.
2. Уступите дорогу трамваю.
3. В данной ситуации поворот налево запрещен.



Как должен поступить водитель легкового автомобиля при перестроении на правую полосу?

1. Уступит дорогу мотоциклу справа.
2. Перестроится, не уступая дорогу мотоциклу.



Разрешается ли Вам остановка или стоянка в указанном месте?

1. Разрешается только остановка.
2. Разрешается только стоянка.
3. Разрешаются остановка и стоянка.
4. Остановка и стоянка запрещаются.



Ваши действия при повороте налево?

1. Уступите дорогу транспортному средству, приближающемуся справа.
2. Уступите дорогу транспортному средству, приближающемуся слева.
3. Уступите дорогу обоим транспортным средствам.
4. Никому не уступите дорогу.



Путь, пройденный автомобилем с момента обнаружения Вами опасности и до нажатия на педаль тормоза, называется:

1. Тормозной путь.
2. Остановочный путь.
3. Путь, пройденный за время Вашей реакции.
4. Путь, пройденный за время срабатывания тормозного привода.



Какое положение необходимо придать пострадавшему, при повреждении позвоночника.

1. Уложить пострадавшего на спину, на мягкую поверхность.
2. Уложить пострадавшего на спину, на ровную и твердую поверхность.
3. Уложить пострадавшего на живот, голову повернуть на бок.



После проезда, каких из указанных дорожных знаков Вы обязаны двигаться со скоростью, не более, указанной на знаке?

1. После знаков I и II.
2. После знаков II и III.
3. После знаков I и III.
4. После всех из указанных знаков.



Данная, вертикальная разметка, нанесенная на ограждении дороги, обозначает:

1. Боковые поверхности ограждений дорог на закруглениях малого радиуса.
2. Боковые поверхности дорог на других участках.
3. Запрещенный для обгона участок дороги.



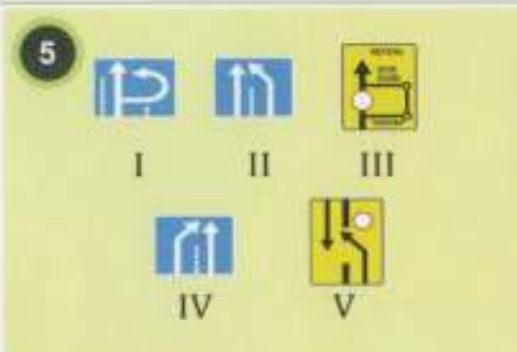
Разрешается ли Вам обгон в данной ситуации?

1. Разрешается.
2. Запрещается.
3. Разрешается, если скорость грузового автомобиля менее 30 км/ч.



В какой очередности водители этих транспортных средств выполнят одновременное перестроение?

1. Водитель автомобиля, затем, водитель мотоцикла.
2. Водитель мотоцикла, затем, водитель автомобиля.
3. Водителям запрещается выполнять одновременное перестроение.




Какой из указанных дорожных знаков называется «Предварительный указатель перестроения на другую проезжую часть»?

1. Знак I.
2. Знак II.
3. Знак III.
4. Знак IV.
5. Знак V.



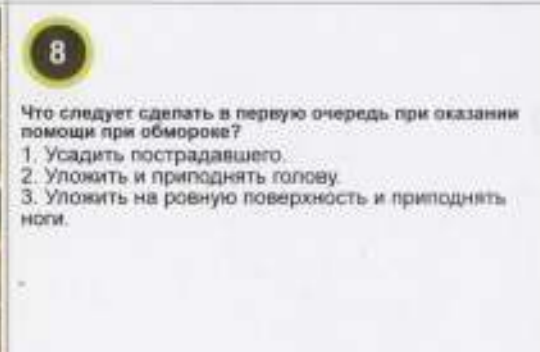
В каком из указанных мест Вам разрешена стоянка?

1. В указанном месте I.
2. В указанном месте II.
3. В любом из указанных мест.



На каком рисунке водитель выполняет правый поворот по траектории, обеспечивающей наибольшую безопасность движения?

1. На верхнем.
2. На нижнем.



Что следует сделать в первую очередь при оказании помощи при обмороке?

1. Усадить пострадавшего.
2. Уложить и приподнять голову.
3. Уложить на ровную поверхность и приподнять ноги.



1
Разрешено ли Вам осуществить посадку или высадку пассажира на остановочной площадке?

1. Разрешено осуществить посадку и высадку пассажира.
2. Разрешено осуществить посадку и высадку пассажира, если не будет создано помех маршрутным транспортным средствам.
3. Разрешено осуществить только посадку пассажира.
4. Разрешено осуществить только высадку пассажира.
5. Запрещено осуществить посадку и высадку пассажира.



2
Кому Вы уступите дорогу при повороте налево?

1. Автобусу.
2. Мотоциклу.
3. Обоим транспортным средствам.
4. Никому.



3
Эксплуатация транспортного средства запрещается, если:
1. Увеличенном, свободном ходе педали тормоза.
2. Нарушении герметичности гидравлического тормозного привода.
3. Включении контрольной лампы ABS.



4
Разрешено ли Вам выполнить поворот одновременно с автобусом?

1. Разрешено.
2. Запрещено.
3. Разрешено, но не создавая помех автобусу.



5
Разрешается ли Вам выполнить разворот в технологическом разрыве разделительной полосы?

1. Разрешается.
2. Разрешается, но только в светлое время суток.
3. Запрещается.



6
При утомлении или сонном состоянии, в момент, когда Вы управляете автомобилем, Вам необходимо:

1. Остановить автомобиль и отдохнуть.
2. Завести разговор с пассажиром.
3. Понизить скорость движения.
4. Двигаться с переменной скоростью.



7
Выезд на сторону проезжей части дороги, предназначенной для встречного движения, в случаях, если это запрещено правилами дорожного движения, -влечет:

1. Штраф в размере 20 МРП.
2. Лишение права управления транспортным средством на срок шесть месяцев.
3. Лишение права управления транспортным средством на один год.



8
В каких направлениях Вам разрешено продолжить движение, управляя легковым автомобилем?

1. Только налево или в обратном направлении.
2. Во всех направлениях.
3. Только прямо и направо.
4. Только направо, налево и в обратном направлении.



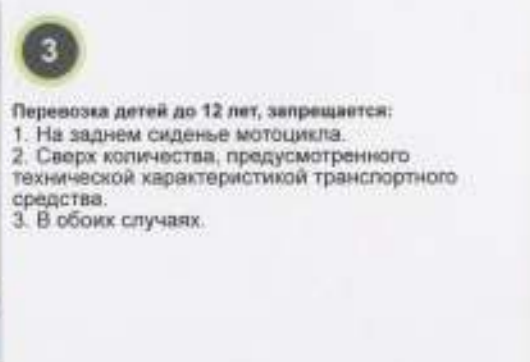
По каким из указанных траекторий водителю легкового автомобиля разрешается продолжить движение?

1. По траектории III.
2. По траекториям I и II.
3. По всем указанным траекториям разрешается.
4. По всем указанным траекториям запрещается.



Разрешается ли Вам проехать железнодорожный переезд в данной ситуации?

1. Разрешается, так как дежурный по переезду запрещает движение только встречному автомобилю.
2. Запрещается.
3. Разрешается, убедившись в отсутствии приближающегося железнодорожного состава.



Перевозка детей до 12 лет, запрещается:

1. На заднем сиденье мотоцикла.
2. Сверх количества, предусмотренного технической характеристикой транспортного средства.
3. В обоих случаях.



В каком направлении разрешается движение автомобиля с включенным проблесковым маячком?

1. Только налево и направо.
2. Только направо.
3. В любом направлении.



Разрешен ли Вам обгон на перекрестке в данной ситуации?

1. Разрешен.
2. Запрещен.



Как влияет Ваше утомление на внимание и реакцию?

1. Ваше внимание и реакция повышается.
2. Ваше внимание и реакция снижается.
3. На Ваше внимание и реакцию, утомление никак влияет.



В каких направлениях Вы можете продолжить движение, на перекрестке, управляя легковым автомобилем?

1. Только прямо.
2. Только налево или направо.
3. Только налево, направо и в обратном направлении.
4. В любых направлениях.



Разрешена ли Вам остановка в указанном месте при управлении легковым автомобилем?

1. Запрещена.
2. Разрешена.
3. Разрешена с заездом на тротуар при условии, что это не будет препятствовать движению пешеходов.



Разрешается ли Вам проехать мост первым?

1. Разрешается.
2. Запрещается.



Данная вертикальная разметка:

1. Информировует о наличие двух полос для движения.
2. Указывает наличие направляющих столбиков, надолб, опор ограждения и тому подобное.
3. Обозначает элементы дорожных сооружений, представляющие опасность для движущихся транспортных средств.



Разрешается ли Вам совершить обгон в данной ситуации?

1. Запрещается.
2. Разрешается.
3. Разрешается, если скорость трактора менее 30км/ч.



В каких направлениях Вам разрешается продолжить движение, находясь на средней полосе движения?

1. Только прямо, налево или в обратном направлении.
2. Только прямо или налево.
3. Только прямо.



Разрешается ли Вам остановка в указанном месте?

1. Разрешается.
2. Запрещается.



Кому Вы уступите дорогу при повороте налево?

1. Только пешеходам.
2. Грузовому автомобилю и пешеходам.
3. Только грузовому автомобилю.
4. Никому.



Что Вы должны учитывать при выборе скорости движения, в данной ситуации?

1. Пешеход может перейти дорогу, не меняя своего темпа движения или наоборот ускориться.
2. Пешеход может внезапно остановиться или отступить назад.
3. Пешеход может внезапно упасть, спотынувшись или поскользнувшись.
4. Необходимо учитывать все вышеперечисленное.



Когда необходимо закончить затяжку жгута, при кровотечении из конечности?

1. При болезненном реагировании пострадавшего.
2. С начала вдавливания жгута в тело.
3. В момент прекращения кровотечения.

1

Эксплуатация транспортного средства запрещается, если:

1. Рулевое колесо не регулируется по высоте.
2. Неисправен или отсутствует предусмотренный конструкцией усилитель руля.
3. Рулевое колесо установлено криво.



Сколько полос для движения имеет данная дорога?

1. Одну
2. Две.
3. Три.

3



Разрешается ли Вам остановка в указанном месте?

1. Разрешается.
2. Разрешается, но только в светлое время суток.
3. Разрешается, при вынужденной остановке.
4. Запрещается.

4



В данной ситуации приближаясь к остановившемуся транспортному средству, Вы:

1. Продолжите движение с соблюдением мер предосторожности.
2. Снизите скорость, при необходимости остановитесь и пропустите детей.
3. Продолжите движение, подав звуковой сигнал.

5



Разрешается ли Вам проехать железнодорожный переезд в данной ситуации?

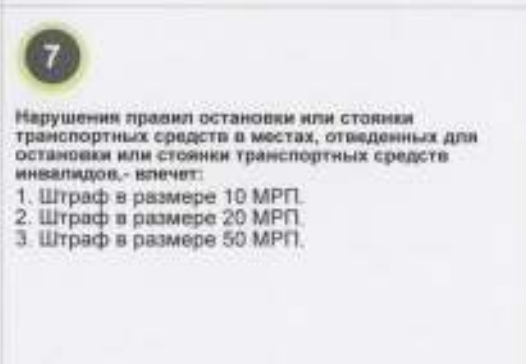
1. Разрешается.
2. Запрещается.
3. Разрешается, при отсутствии приближающегося железнодорожного состава (локомотива, дрезины).

6

В каком случае, разрешается перевозить детей до 12 лет на переднем сиденье?

1. При наличии специального детского удерживающего устройства.
2. При наличии средства, позволяющих пристегнуть ребенка с помощью ремней безопасности.
3. В обоих случаях запрещается.
4. В обоих случаях разрешается.

7



Нарушения правил остановки или стоянки транспортных средств в местах, отведенных для остановки или стоянки транспортных средств инвалидов, влечет:

1. Штраф в размере 10 МРП.
2. Штраф в размере 20 МРП.
3. Штраф в размере 50 МРП.

8



По каким из указанных траекторий, Вы можете продолжить движение, управляя легковым автомобилем?

1. По любой траектории.
2. По траекториям I или II.
3. По траекториям II, III или IV.
4. Только по траектории II.



Как Вы поступите при установке данного дорожного знака?

1. Остановитесь перед краем пересекаемой проезжей части.
2. Остановитесь перед дорожным знаком 2.5 «Движение без остановки запрещено».
3. Продолжите движение без остановки, убедившись, в отсутствии приближающихся транспортных средств.



Горизонтальная разметка в виде треугольника на полосе движения информирует водителя:

1. О приближении к опасному участку дороги.
2. О необходимости остановиться перед ней.
3. О приближении к другой разметке, которая указывает место, где необходимо уступить дорогу.



Разрешается ли Вам совершить обгон в данной ситуации?

1. Запрещается.
2. Разрешается.
3. Разрешается, если скорость трактора менее 30 км/ч.



Что означает, поднятая вверх, рука водителя легкового автомобиля?

1. О его намерении продолжить движение прямо.
2. О его намерении повернуть направо.
3. О его намерении остановиться, чтобы уступить дорогу.
4. О его намерении предупредить Вас об опасности.



На каком расстоянии до начала опасного поворота устанавливается этот дорожный знак вне населенного пункта?

1. 50-100 метров.
2. 150-300 метров.
3. Непосредственно перед опасным поворотом.



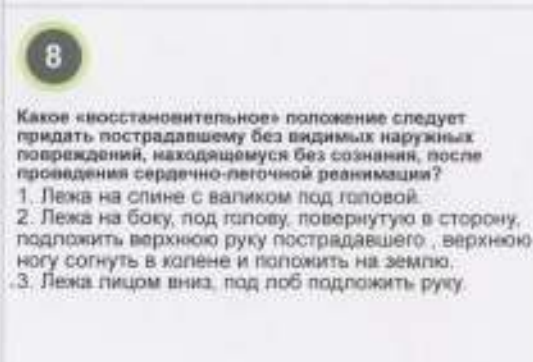
Разрешается ли Вам стоянка в указанном месте с 07.00 до 09.00ч.?

1. Разрешается, только по нечетным числам месяца.
2. Разрешается, только по четным числам месяца.
3. Запрещается.



Каким должен быть боковой интервал, при увеличении скорости движения?

1. Боковой интервал должен быть, увеличенным.
2. Боковой интервал должен быть, уменьшенным.
3. Изменение бокового интервала не требуется.



Какое «восстановительное» положение следует придать пострадавшему без видимых наружных повреждений, находящемуся без сознания, после проведения сердечно-легочной реанимации?

1. Лежа на спине с валиком под головой.
2. Лежа на боку, под голову, повернутую в сторону, подложить верхнюю руку пострадавшего, верхнюю ногу согнуть в колене и положить на землю.
3. Лежа лицом вниз, под лоб подложить руку.



Разрешается ли Вам стоянка в указанном месте?

1. Разрешается.
2. Запрещается.



Как Вы поступите при повороте налево?

1. Уступите дорогу легковому автомобилю.
2. Проедете перекресток первым.



Эксплуатация транспортного средства запрещается, если:

1. Регулировка фар не соответствует требованиям.
2. Отсутствуют противотуманные фары.
3. Отсутствуют дневные ходовые огни.
4. Имеются, все вышеперечисленные неисправности.




На каких рисунках изображена главная дорога?

1. На рисунке I.
2. На рисунках I и III.
3. На рисунках I и IV.
4. На рисунках I, III и IV.
5. На всех рисунках.



Разрешается ли Вам подъехать к дому расположенному за перекрестком?

1. Да, если Вы проживаете в этом доме.
2. Да, но только с противоположного направления.
3. Да, но только включив аварийную световую сигнализацию.



На каком из рисунков водитель выполняет движение по траектории, обеспечивающей наибольшую безопасность?

1. На верхнем рисунке.
2. На нижнем рисунке.
3. На обоих рисунках.



Управление транспортным средством водителем, находящимся в состоянии алкогольного, наркотического и (или) токсикоманического опьянения влечет:

1. Штраф в размере 75 МРОТ.
2. Лишение права управления транспортным средством на срок два года.
3. Лишение права управления транспортным средством на срок три года.



В каких направлениях Вам разрешено продолжить движение на перекрестке, управляя легковым автомобилем?

1. Только прямо.
2. Только прямо и направо.
3. Только налево, направо и в обратном направлении.
4. Только прямо, налево и в обратном направлении.
5. В любых направлениях.



Уступите ли Вы дорогу пешеходу в данной ситуации?

1. Да.
2. Нет.



В каком из перечисленных мест, Вы остановитесь перед железнодорожным переходом в данной ситуации?

1. У первого по ходу движения дорожного знака.
2. У второго по ходу движения дорожного знака.
3. За 10 метров до ближайшего рельса.
4. В любом месте, по своему усмотрению.
5. При отсутствии приближающегося поезда, остановка не требуется.



Разрешена ли Вам перевозка груза таким образом?

1. Разрешена.
2. Запрещена.
3. Разрешена, в светлое время суток.



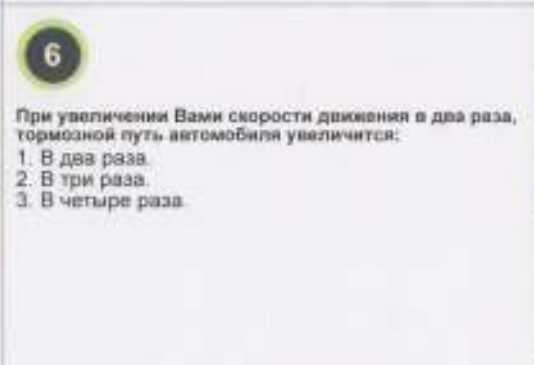
Уступите ли Вы дорогу автомобилю частной охранной организации с включенным проблесковым маячком при движении прямо?

1. Да.
2. Нет.



В данной ситуации Вы?

1. Проедете первым.
2. Уступите дорогу встречному транспортному средству.



При увеличении Вами скорости движения в два раза, тормозной путь автомобиля увеличится:

1. В два раза.
2. В три раза.
3. В четыре раза.



Разрешается ли Вам выполнить обгон, в данной ситуации управляя легковым автомобилем?

1. Разрешается.
2. Запрещается.
3. Разрешается, если скорость грузового автомобиля менее 30 км/ч.
4. Разрешается, если скорость грузового автомобиля 30 км/ч.



Разрешается ли водителю легкового автомобиля синего цвета проехать перекресток в прямом направлении в данной ситуации?

1. Разрешается.
2. Запрещается.

1

Эксплуатация транспортного средства разрешается, если:

1. Не работают в установленном режиме внешние световые приборы.
2. Загрязнены внешние световые приборы и световозращатели.
3. Отсутствуют противотуманные фары.
4. На световых приборах отсутствуют рассеиватели, либо используются рассеиватели и лампы, не соответствующие типу данного светового прибора.



Обязаны ли Вы уступить дорогу легковому автомобилю красного цвета при движении прямо, согласно Правилам дорожного движения?

1. Да.
2. Нет.

3



Водитель, какого транспортного средства нарушает правила разворота на автомагистрали?

1. Водитель мотоцикла.
2. Водитель грузового автомобиля.
3. Оба водителя нарушают.
4. Оба водителя не нарушают.

4



Уступите ли Вы дорогу пешеходу в данной ситуации?

1. Да.
2. Нет.

5



Ваши действия в данной ситуации?

1. Остановитесь и продолжите движение только после открытия шлагбаума.
2. Продолжите движение, объехав шлагбаум.
3. Продолжите движение, убедившись в отсутствии приближающегося поезда.

6



Разрешена ли Вам перевозка груза таким образом?

1. Разрешена.
2. Запрещена.

7

Передача управления транспортным средством лицу, находящимся в состоянии алкогольного, наркотического и (или) токсикоманического опьянения, - влечет:

1. Штраф в размере 75 МРП.
2. Лишение права управления транспортным средством на срок два года.
3. Лишение права управления транспортным средством на срок три года.

8



В каких направлениях Вам разрешается продолжить движение, управляя легковым автомобилем?

1. Только прямо.
2. Только налево или направо.
3. Только прямо и направо.
4. Во всех направлениях.



Что означает табличка, установленная под дорожным знаком?

1. Место стоянки оборудовано пунктом технической помощи.
2. Место стоянки оборудовано эстакадой или канавой (ямой).
3. Таким знаком обозначается многоуровневое место для стоянки.



Разрешается ли Вам обгон в данной ситуации?

1. Запрещается.
2. Разрешается.
3. Разрешается, если скорость грузового автомобиля менее 30км/ч.



В каком месте Вы остановитесь, при запрещающем сигнале светофора в данной ситуации?

1. Перед светофором.
2. Перед пересекаемой проезжей частью.
3. Перед дорожным знаком 5.33 «Стоп-линия».



Разрешается ли Вам разворот по указанной траектории?

1. Запрещается.
2. Разрешается.
3. Запрещается, при приближении железнодорожного состава.




Какие из указанных дорожных знаков повторяются при установке вне населенных пунктов?

1. Знаки I и II.
2. Знаки II и III.
3. Знаки III и IV.
4. Знаки IV и V.



Разрешается ли Вам обгон на данном участке?

1. Разрешается.
2. Запрещается.
3. Запрещается, при видимости дороги менее 100 метров.



При каком расположении центра тяжести, автомобиль наиболее устойчив против опрокидывания?

1. Центр тяжести расположен низко.
2. Центр тяжести смещен вправо или влево.
3. Центр тяжести расположен высоко.



Как правильно оказать первую помощь при вывихе конечности?

1. Как можно быстрее вправить вывих и зафиксировать конечность.
2. Зафиксировать конечность в положении, которое она приняла после травмы, приложить холод.



Разрешается ли Вам выполнить остановку в указанном месте?

1. Разрешается.
2. Разрешается, если не будет создано помех маршрутным транспортным средствам.
3. Остановка в указанном месте запрещается.



Кому Вы уступите дорогу, при движении прямо?

1. Только автобусу.
2. Только легковому автомобилю.
3. Обоим транспортным средствам.
4. Никому.



Эксплуатация транспортного средства запрещается, если:

1. Не работают в установленном режиме стеклоочистители.
2. Не работают, предусмотренные конструкцией транспортного средства, стеклоомыватели.
3. Не работают в установленном порядке, устройства обогрева стекол.
4. Имеются, все вышеперечисленные неисправности.



Сколько проезжих частей имеет данная дорога?

1. Одну.
2. Две.
3. Четыре.



Разрешается ли Вам подача звукового сигнала в зоне действия данного дорожного знака?

1. Запрещается.
2. Разрешается, только для предупреждения об обгоне.
3. Разрешается, только для случаев, когда сигнал подается для предотвращения дорожного - транспортного происшествия.
4. В случаях, перечисленных в п.п. 2 и 3.



Какие Ваши действия, приведут к уменьшению центробежной силы, возникающей на повороте?

1. Увеличение скорости движения.
2. Уменьшение скорости движения.
3. Уменьшение радиуса поворота.



Уклонение от прохождения освидетельствования на состояние алкогольного, наркотического и (или) токсикоманического опьянения, - влечет:

1. Штраф в размере 75 МРП.
2. Лишение права управления транспортным средством на срок два года.
3. Лишение права управления транспортным средством на срок три года.



Стояночная тормозная система должна обеспечивать неподвижное состояние легковых автомобилей и автобусов в снаряженном состоянии, на уклоне не менее:

1. 16%.
2. 23%.
3. 31%.



- Если в данной ситуации водитель грузового автомобиля замедляет движение, то Вы:
1. Продолжите движение, увеличив скорость.
 2. Продолжите движение, убедившись, что перед грузовым автомобилем нет пешеходов.
 3. Продолжите движение, подав звуковой сигнал.



- Ваши действия в данной ситуации?
- 1! Остановитесь и продолжите движение только после открытия шлагбаума.
 2. Продолжите движение, объезжая шлагбаум.
 3. Продолжите движение, убедившись в отсутствии приближающегося поезда.



- Разрешается ли Вам осуществить перевозку груза, таким образом?
1. Разрешается.
 2. Запрещается.



- Ваши действия в данной ситуации?
1. Уступите дорогу автомобилю оперативных служб.
 2. Не уступите дорогу автомобилю оперативных служб.



- Разрешено ли Вам подъехать к дому, в котором проживаете, расположенному за данным знаком?
1. Разрешено.
 2. Разрешено, но только с противоположного направления.
 3. Разрешено, но только включив аварийную световую сигнализацию.
 4. Запрещено.



- Какой прием торможения Вы выберете на скользкой дороге?
1. Выключив сцепление, плавно и до упора нажав на педаль тормоза.
 2. Не выключая сцепления, прерывисто нажимая на педаль тормоза.



- Эксплуатация легковых автомобилей и созданных на их базе грузовых автомобилей и автобусов запрещается, если, суммарный люфт в рулевом управлении превышает:
1. 10 градусов.
 2. 20 градусов.
 3. 25 градусов.



- Эксплуатация легкового автомобиля запрещается, если шины имеют остаточную высоту рисунка протектора, менее:
1. 0,8 мм.
 2. 1,0 мм.
 3. 1,6 мм.
 4. 2,0 мм.

1



I II III IV

При установке, каких дорожных знаков Вы имеете преимущество, если встречный разъезд затруднен?

1. При установке знаков I и II.
2. Только при установке знака III.
3. При установке знаков I и III.
4. При установке знаков II и IV.

2



Разрешается ли Вам совершить обгон в данной ситуации?

1. Разрешается.
2. Разрешается если скорость грузового автомобиля менее 30 км/ч.
3. Запрещается.

3



Ваши действия, при движении прямо:

1. Уступите дорогу трамваю.
2. Проедете перекресток первым.

4



Укажите разрешенные Вам траектории для выполнения поворота:

1. Только траектория I.
2. Только траектория II.
3. Обе траектории.

5



Какие из указанных водителей не нарушают правила стоянки?

1. Только I и II.
2. Только I и III.
3. Только II.
4. Все из указанных водителей не нарушают.
5. Все из указанных водителей нарушают.

6



Кому Вы уступите дорогу при движении прямо?

1. Уступите дорогу обоим транспортным средствам.
2. Уступите дорогу только грузовому автомобилю.
3. Уступите дорогу только легковому автомобилю.
4. Никому не уступите дорогу.

7



Путь, пройденный автомобилем с начала действия тормозов до полной остановки, называется:

1. Тормозной путь.
2. Остановочный путь.
3. Путь, пройденный за время Вашей реакции.
4. Путь, пройденный за время срабатывания тормозного привода.

8

На какой срок может быть наложен кровоостанавливающий жгут при низких температурах?

1. Не более 30 минут, указав время наложения в записке, закрепленной на жгуте.
2. Не более 60 минут, указав время наложения в записке, закрепленной на жгуте.
3. Не более 90-120 минут, указав время наложения в записке, закрепленной на жгуте.

1



I

II

III

Какой из указанных дорожных знаков предупреждает о приближении пешеходному переходу?

1. Знак I.
2. Знак II.
3. Знак III.
4. Все указанные знаки.

2



Разрешается ли Вам совершить обгон в данной ситуации?

1. Разрешается.
2. Разрешается если скорость грузового автомобиля менее 30 км/ч.
3. Запрещается.

3



О чем информирует Вас сигнал данного светофора?

1. Поворот направо разрешен, но необходимо уступить дорогу пешеходам.
2. При включении зеленого сигнала светофора движение будет разрешено только направо.
3. На этом перекрестке всегда запрещен поворот направо.

4



По какой траектории Вам разрешается выполнить разворот в данной ситуации?

1. По траектории I.
2. По траектории II.
3. По обоим разрешается.
4. По обоим запрещается.

5



Кому Вы уступите дорогу при движении прямо?

1. Только легковому автомобилю.
2. Только автомобилю скорой медицинской помощи.
3. Обоим транспортным средствам.
4. Никому.

6



Разрешается ли водителю выполнить разворот в данной ситуации?

1. Разрешается, после проезда знака 3.31 «Конец зоны всех ограничений».
2. Запрещается.
3. Разрешается.

7



Путь, пройденный автомобилем с момента обнаружения Вами опасности и до полной остановки, называется:

1. Тормозной путь.
2. Остановочный путь.
3. Путь, пройденный за время Вашей реакции.
4. Путь, пройденный за время срабатывания тормозного привода.

8

Каковы основные правила оказания первой помощи при сотрясении мозга?

1. Уложить пострадавшего на спину, подложить под голову валик и дать теплое питье, вызвать скорую медицинскую помощь.
2. Уложить пострадавшего на бок или спину, со склоненной набок головой, вызвать скорую медицинскую помощь.
3. Положить пострадавшего на спину или в положении полуплежа и попытаться привести в сознание.



Разрешается ли Вам осуществить остановку в указанном месте?

1. Разрешается.
2. Запрещается.
3. Разрешается только для посадки (высадки) пассажиров.



Кому Вы уступите дорогу при повороте налево?

1. Всем транспортным средствам.
2. Никому не уступите дорогу.
3. Уступите дорогу только мотоциклу.
4. Уступите дорогу только легковому автомобилю.

3

Эксплуатация транспортного средства разрешается, если:

1. На одну ось установлены шины различных размеров.
2. На одну ось установлены шины различных конструкций (радиальной, диагональной, камерной, бескамерной).
3. На одну ось установлены шины различных моделей, с различным рисунком протектора.
4. На заднюю ось установлены диагональные шины, а на переднюю - радиальные.
5. На одну ось установлены шины ошипованные и неошипованные, морозостойкие и неморозостойкие, новые и восстановленные.



4

Как называется маневр, выполняемый водителем легкового автомобиля красного цвета, на минимальной безопасной дистанции?

1. Обгон.
2. Обезд.
3. Перестроение.
4. опережение.



5

Разрешается ли водителю легкового автомобиля движение задним ходом на данном участке?

1. Разрешается.
2. Запрещается.
3. Разрешается, но только в светлое время суток.

6

Какие Ваши действия, могут привести к возникновению заноса автомобиля?

1. Только резкое ускорение.
2. Только резкое торможение.
3. Резкое ускорением и резкое торможение.

7

Оставление водителем в нарушение правил дорожного движения места дорожно-транспортного происшествия, участником которого он являлся, -влечет:

1. Штраф в размере 100 МРП.
2. Лишение права управления транспортным средством на один год.
3. Административный арест на 30 суток.

8

Является ли безопасным, движение на легковом автомобиле в темное время суток, с ближним светом фар, по неосвещенной дороге, вне населенных пунктов (не на автомагистрали) со скоростью 100 км/ч?

1. Да, так как скорость соответствует требованиям Правил.
2. Нет, так как остановочный путь превышает расстояния видимости.



- О чем предупреждают Вас данный дорожный знак?
1. О приближении к железнодорожному переходу со шлагбаумом.
 2. О приближении к железнодорожному переходу без шлагбаума.
 3. О приближении к железнодорожному вокзалу.



- На каком минимальном расстоянии до ближайшего рельса, Вы должны остановиться, когда движение через переход запрещено?
1. 5 метров.
 2. 10 метров.
 3. 15 метров.
 4. 50 метров.



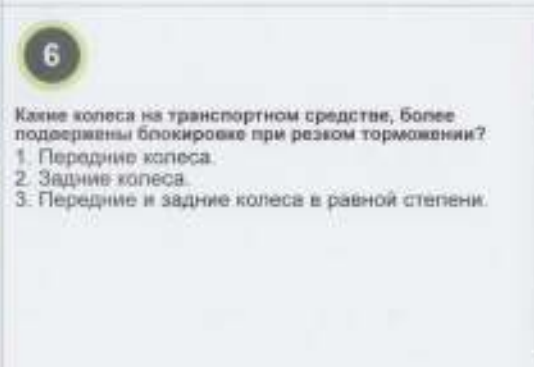
- Кому из указанных велосипедистов Вы уступите дорогу при движении прямо?
1. Только велосипедисту I.
 2. Только велосипедисту II.
 3. Обоим велосипедистам.
 4. Никому.



- Кому Вы уступите дорогу при повороте налево?
1. Только автомобилю с включенным проблесковым маячком синего цвета.
 2. Только водителю мотоцикла.
 3. Обоим транспортным средствам.
 4. Никому.



- В каких направлениях Вам разрешается продолжить движение?
1. Только прямо.
 2. Прямо или направо.
 3. Движение во всех направлениях разрешается.
 4. Движение во всех направлениях запрещается.



- Какие колеса на транспортном средстве, более подвержены блокировке при резком торможении?
1. Передние колеса.
 2. Задние колеса.
 3. Передние и задние колеса в равной степени.



- Ваши действия при повороте налево в данной ситуации?
1. Уступите дорогу транспортному средству, приближающемуся справа.
 2. Уступите дорогу транспортному средству, приближающемуся слева.
 3. Уступите дорогу обоим транспортным средствам.
 4. Никому не уступите дорогу.



- С какой максимальной скоростью Вам разрешается продолжить движение при управлении грузовым автомобилем с разрешенной максимальной массой менее 3,5 тонн, в данной ситуации?
1. 70 км/ч.
 2. 80 км/ч.
 3. 90 км/ч.
 4. 100 км/ч.
 5. 110 км/ч.
 6. 140 км/ч.



Какой из данных дорожных знаков запрещает движение со скоростью 50 км/ч?

1. Знак I.
2. Знак II.
3. Знак III.
4. Все знаки не запрещают движение со скоростью 50 км/ч.
5. Все знаки запрещают движение со скоростью 50 км/ч.



Разрешается ли Вам совершить обгон в данной ситуации?

1. Разрешается.
2. Разрешается если скорость грузового автомобиля менее 30 км/ч.
3. Запрещается.



Ваши действия при повороте налево?

1. Выполнить поворот, уступив дорогу автомобилю приближающемуся справа.
2. Продолжить движение, дожидаясь разрешающего сигнала светофора.



Обязаны ли Вы при движении по главной дороге включить левый указатель поворота?

1. Обязаны.
2. Не обязаны.
3. Только при приближении транспортных средств с других направлений.



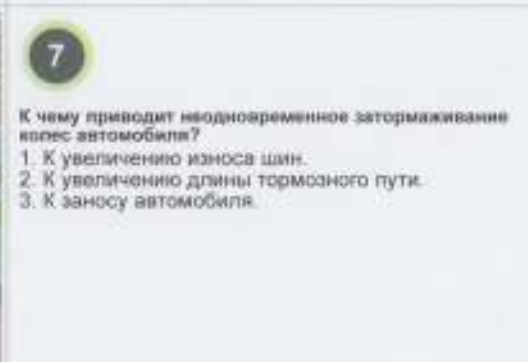
Кто из водителей нарушил правила остановки?

1. Только водитель автомобиля.
2. Только водитель мотоцикла.
3. Оба нарушили.
4. Оба не нарушили.



Ваши действия в данной ситуации?

1. Остановиться перед стоп-линией.
2. Остановиться перед дорожным знаком 2.5 «Движение без остановки запрещено».
3. Продолжить движение без остановки.
4. Уступите дорогу транспортным средствам слева и справа.



К чему приводит одновременное затормаживание колес автомобиля?

1. К увеличению износа шин.
2. К увеличению длины тормозного пути.
3. К заносу автомобиля.



На какой срок может быть наложен кровоостанавливающий жгут в теплое время года?

1. Не более 30 минут, указав время наложения в записке, закрепленной на жгуте.
2. Не более 60 минут, указав время наложения в записке, закрепленной на жгуте.
3. Не более 90-120 минут, указав время наложения в записке, закрепленной на жгуте.

1

Эксплуатация транспортного средства разрешается, если:

1. Нарушена герметичность системы питания.
2. Двигатель не набирает обороты.
3. Нарушена герметичность системы вентиляции картера.
4. Во всех, вышеперечисленных, случаях разрешается.


2



Укажите количество пересечений проезжих частей на этом перекрестке?

1. Одно.
2. Два.
3. Три.
4. Четыре.

3



I II III IV

Какие из указанных дорожных знаков Вам разрешают выполнить разворот?

1. Знаки I и II.
2. Знаки I, II и III.
3. Только знак IV.
4. Все из указанных знаков.

4



Разрешается ли Вам остановка в указанном месте?

1. Разрешается.
2. Запрещается.
3. Разрешается, если не будет создано помех движению маршрутных транспортных средств.

5



Что Вы предпримите после проезда данного дорожного знака?

1. Выполните обгон грузового автомобиля с левой стороны.
2. Выполните обгон грузового автомобиля с правой стороны.
3. Ничего не предпримите.

6



Уступите ли Вы дорогу велосипедисту в данной ситуации?

1. Да.
2. Нет.

7

Оставление водителем и пассажирами кабины ТС в случае его остановки сотрудником ОВД (полиции), без его разрешения, а также невыполнения ими требований о выходе из кабины ТС, влекут штраф на водителя и пассажиров:

1. В размере 5 МРП.
2. В размере 10 МРП.
3. В размере 15 МРП.

8



В каких направлениях Вам разрешается продолжить движение?

1. Только прямо.
2. Только направо.
3. Направо и в обратном направлении.
4. Во всех направлениях разрешается.
5. Во всех направлениях запрещается.



Ваши действия в данной ситуации?

1. Перестроитесь на соседнюю полосу движения.
2. Выедете на проезжую часть встречного направления.
3. Прекратите движение.



В каком месте Вы остановитесь, чтобы уступить дорогу транспортному средству, движущемуся по пересекаемой проезжей части?

1. У первой (по ходу движения) дорожной разметки.
2. У дорожного знака 2.4 «Уступить дорогу».
3. У второй (по ходу движения) дорожной разметки.



По какой из указанных траекторий Вам разрешено выполнить поворот налево?

1. Только по траектории I.
2. Только по траектории II.
3. По траекториям I или II.



Как поступит водитель легкового автомобиля при перестроении?

1. Уступит дорогу, грузовому автомобилю.
2. Проедет первым, так как приближается справа.



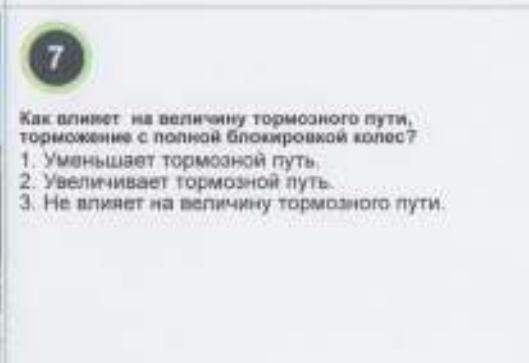
Кому Вы уступите дорогу при повороте налево?

1. Только автобусу.
2. Только автомобилю с включенным проблесковым маячком.
3. Обоим транспортным средствам.
4. Никому.



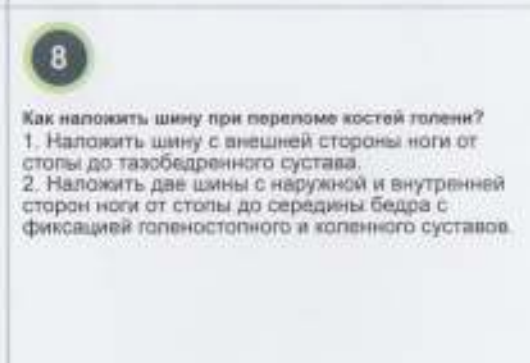
Разрешается ли Вам выполнить обгон трактора в данной ситуации?

1. Разрешается.
2. Разрешается, если обгон будет завершен до ближайшего перекрестка.
3. Запрещается.



Как влияет на величину тормозного пути, торможение с полной блокировкой колес?

1. Уменьшает тормозной путь.
2. Увеличивает тормозной путь.
3. Не влияет на величину тормозного пути.



Как наложить шину при переломе костей голени?

1. Наложить шину с внешней стороны ноги от стопы до тазобедренного сустава.
2. Наложить две шины с наружной и внутренней сторон ноги от стопы до середины бедра с фиксацией голеностопного и коленного суставов.



Разрешается ли Вам остановиться в указанном месте?

1. Разрешается.
2. Запрещается.



Кому Вы уступите дорогу при повороте налево?

1. Всем транспортным средствам.
2. Никому не уступите дорогу.
3. Только трамваям.
4. Только трамваю I.
5. Только трамваю I и мотоциклу.
6. Только трамваю II.

3

Эксплуатация транспортного средства запрещается, если:

1. Содержание вредных веществ в отработавших газах и их дымность превышают нормы, установленные техническими регламентами и стандартами.
2. Имеются неисправности в системе смазки двигателя.
3. Имеются неисправности в системе охлаждения двигателя.
4. Имеются, все вышеперечисленные неисправности.



Является ли в данной ситуации Ваша остановка вынужденной?

1. Да.
2. Нет.



Что Вам не запрещается на территории обозначенной данным дорожным знаком?

1. Учебная езда.
2. Сквозное движение.
3. Стоянка с работающим двигателем.
4. Движение со скоростью 20 км/ч.
5. Все вышеперечисленное.



Влияет ли износ протектора шин на коэффициент сцепления с дорогой?

1. Влияет.
2. Влияет, только при загруженном транспорте.
3. Влияет, только при не загруженном транспорте.
4. Влияет, только при большой скорости движения.
5. Не влияет.



Кто из водителей имеет преимущество при одновременном развороте?

1. Водитель грузового автомобиля.
2. Водитель легкового автомобиля.
3. Правила данную ситуацию не регламентируют.



В каких направлениях Вам разрешается продолжить движение?

1. Только прямо.
2. Только направо.
3. Направо и в обратном направлении.
4. Во всех направлениях разрешается.
5. Во всех направлениях запрещается.



1

Как Вы поступите в данной ситуации?

1. Уступите дорогу автобусу.
2. Проедете, не уступая автобусу, так как он начинает движение с выездом на вторую полосу.
3. Правила данную ситуацию не регламентируют.

2

Проблесковый маячок оранжевого или желтого света включается:

1. На транспортных средствах при выполнении работ по строительству, ремонту или содержанию дорог, погрузки и транспортировки поврежденных, неисправных и иных транспортных средств.
2. На транспортных средствах при осуществлении перевозок тяжеловесных, крупногабаритных грузов.
3. На транспортных средствах, сопровождающих перевозку тяжеловесных, крупногабаритных и опасных грузов.
4. На автобусах, предназначенных для перевозки организованных групп детей.
5. На транспортных средствах мобильных групп оперативного реагирования частных охранных организаций при выезде на несанкционированные проникновения на охраняемые объекты.
6. На транспортных средствах передвижных контрольно-пропускных пунктов органов транспортного контроля при несении службы на дорогах.
7. В любом из перечисленных случаях.



3

Разрешено ли Вам выполнить разворот по указанной траектории?

1. Разрешено.
2. Запрещено.



4

Как обязан поступить водитель легкового автомобиля при приближении автомобиля с включенным проблесковым маячком синего цвета?

1. Продолжить дальнейшее движение.
2. Перестроиться на правую полосу и снизить скорость.
3. Остановиться у тротуара.



5

Разрешен ли Вам обгон мотоцикла на пешеходном переходе в данной ситуации?

1. Разрешен.
2. Запрещен.

6

Износ различной степени правых и левых шин при торможении автомобиля, могут привести:

1. К перегреву тормозных механизмов.
2. К отслоению протектора шин.
3. К заносу и опрокидыванию автомобиля.



7

Ваши действия при движении прямо на перекрестке?

1. Уступите дорогу только трамваю.
2. Уступите дорогу трамваю и автомобилю.
3. Проедете перекресток первым.



8

При выполнении разворота водитель легкового автомобиля, въехавший на перекресток при разрешающем сигнале светофора в данной ситуации:

1. Завершит маневр, пользуясь преимуществом.
2. Уступит дорогу трамваю и мотоциклу.
3. Откажется от маневра, и осуществит движение задним ходом.

1



I II III IV

Какие из данных знаков действуют только в момент, когда покрытие проезжей части влажное?

1. Все знаки.
2. Знак I.
3. Знак II.
4. Знак III.
5. Знак IV.

2



Кто из водителей нарушает Правила?

1. Только водитель I.
2. Только водитель II.
3. Оба водителя нарушают.
4. Оба водителя не нарушают.

3



Кому из водителей разрешается продолжить движение в намеченном направлении?

1. Водителю автобуса.
2. Водителю мотоцикла.
3. Водителям мотоцикла и автобуса.
4. Водителям автобуса и грузового автомобиля.
5. Водителям всех транспортных средств.

4



По какой траектории Вам разрешается выполнить разворот?

1. По траектории I.
2. По траектории II.
3. По траекториям I или II.
4. В данной ситуации разворот выполнить запрещено.

5



Укажите разрешенные Вам места для стоянки:

1. Только I и II.
2. Только IV.
3. Только I, II и IV.
4. Во всех указанных местах запрещено.

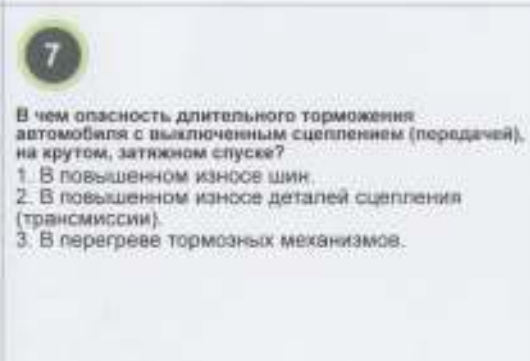
6



Кому Вы уступите дорогу при повороте налево?

1. Уступите дорогу обоим транспортным средствам.
2. Уступите дорогу автомобилю с включенным проблесковым маячком.
3. Уступите дорогу только автобусу.
4. Никому не уступите дорогу.

7



В чем опасность длительного торможения автомобиля с выключенным сцеплением (передаточ), на крутом, затяжном спуске?

1. В повышенном износе шин.
2. В повышенном износе деталей сцепления (трансмиссии).
3. В перегреве тормозных механизмов.

8



В чем заключается первая помощь пострадавшему при шоке?

1. Обрызгать лицо холодной водой, энергично растереть кожу лица.
2. Уложить пострадавшего и укрыть, приподнять ноги, контролировать дыхание и пульс.
3. Придать пострадавшему положение лежа или полусидя, на лоб и затылок положить холодные примочки.

1

Эксплуатация транспортного средства запрещается, если:

1. Неисправна система выпуска отработавших газов.
2. Имеется шум в механизме газораспределения.
3. Неисправна система смесобразования.
4. Имеются, все вышперечисленные неисправности.



Является ли в данной ситуации Ваша остановка вынужденной?

1. Да.
2. Нет.



Кому Вы обязаны уступить дорогу при повороте направо?

1. Только пешеходу.
2. Только грузовому автомобилю.
3. Грузовому автомобилю и велосипедисту.
4. Всем.
5. Никому.



По какой из указанных траекторий разрешено продолжить движение легковому автомобилю?

1. По траектории I.
2. По траектории II.
3. По траектории III.
4. По траекториям I и II.
5. По траекториям II и III.

5



При ослеплении светом фар Вы:

1. Выедете на обочину и остановитесь.
2. Включите световую аварийную сигнализацию и остановитесь, не меняя полосы движения.
3. Поддадите звуковой сигнал и остановитесь, как можно правее.



Укажите разрешенные Вам направления движения?

1. Прямо и направо.
2. Прямо и налево.
3. Только прямо.
4. Только налево.
5. Налево и в обратном направлении.



По какой траектории Вам разрешается подъехать для посадки пассажиров на данном участке дороги?

1. Только по траектории I.
2. Только по траектории II.
3. Только по траектории III.
4. По траекториям II и III.
5. По всем указанным траекториям.



В каких направлениях Вам разрешается продолжить движение?

1. Только прямо.
2. Только направо.
3. Налево и в обратном направлении.
4. Во всех направлениях разрешается.
5. Во всех направлениях запрещается.

1



I II III IV

Какие из указанных дорожных знаков разрешают движение транспортных средств, обслуживающих предприятия находящиеся в обозначенной зоне, а также обслуживающие граждан или принадлежащие гражданам, проживающих или работающих в зоне действия данных знаков?

1. Только знаки I и II.
2. Только знаки III и IV.
3. Только знаки II и IV.
4. Только знаки I и III.
5. Все знаки.

2



Разрешается ли Вам остановка на мосту для посадки пассажира?

1. Разрешается.
2. Запрещается.

3



Ваши действия при повороте налево, согласно требованиям Правил дорожного движения:

1. При повороте налево, уступите дорогу пешеходам.
2. Не уступая дорогу пешеходам, выполните поворот.
3. Остановитесь и дождетесь разрешающего сигнала регулировщика.

4



Как Вы поступите при повороте направо в данной ситуации?

1. Не меняя полосы, снизите скорость, а затем перестроитесь на полосу торможения.
2. Выполните поворот на перекрестке.
3. Не меняя скорости, перестроитесь на полосу торможения, снизите скорость, затем приступите к выполнению поворота.
4. Возможны все варианты.

5



Ваши действия в данной ситуации?

1. Продолжите дальнейшее движение.
2. Перестроитесь на правую полосу и снизите скорость.
3. Остановитесь справа у тротуара.

6



Уступите ли Вы дорогу встречному автомобилю в данной ситуации?

1. Да.
2. Нет.

7

Как Вы должны воздействовать на педаль тормоза, при возникновении заноса, вызванного торможением?

1. Усилить нажатие на педаль тормоза.
2. Прекратить начатое торможение.
3. Не меняя усилие нажатия на педаль тормоза, дополнительно, выключить сцепление.

8

В каком положении следует транспортировать пострадавшего с переломами ребер и грудины?

1. Лежа на боку.
2. Лежа на спине.
3. Сидя или в полусидячем положении.



Разрешена ли Вам остановка в указанном месте?

1. Разрешена.
2. Запрещена.



Кому Вы уступите дорогу при движении прямо?

1. Только трамваю.
2. Только грузовому автомобилю.
3. Обоим транспортным средствам.
4. Никому.



Зона действия дорожного знака 3.24 «Ограничение максимальной скорости» распространяется:

1. До знака 5.24 «Начало населенного пункта».
2. До ближайшего перекрестка.
3. До конца населенного пункта.
4. До ближайшего перекрестка, а при отсутствии перекрестка - до конца населенного пункта.



Является ли в данной ситуации Ваша остановка вынужденной?

1. Да.
2. Нет.



С какой максимальной скоростью Вы можете продолжить движение в зоне действия данного дорожного знака установленного в населенном пункте?

1. 60 км/ч.
2. 70 км/ч.
3. 80 км/ч.
4. 90 км/ч.



Что Вы должны сделать, при возникновении заноса, вызванного резким поворотом рулевого колеса на скользкой дороге?

1. Плавно повернуть рулевое колесо в сторону, противоположенную заносу.
2. Плавно повернуть рулевое колесо в сторону заноса.
3. Плавно нажать на педаль тормоза.



По какой из указанных траекторий Вам разрешается выполнить разворот, если ширина проезжей части недостаточна для выполнения маневра из крайнего левого положения?

1. По траектории I.
2. По траектории II.
3. По траекториям I или II.
4. По указанным траекториям разворот запрещен.




В каких направлениях Вам разрешается проехать перекресток, управляя грузовым автомобилем с разрешенной максимальной массой менее 3,5 тонн?

1. Только направо.
2. Направо, налево и в обратном направлении.
3. В любых направлениях.



Разрешен ли Вам обгон справа в данной ситуации?

1. Разрешен.
2. Разрешено, если при этом не будет создано помех маршрутным транспортным средствам.
3. Запрещен.



Задние противотуманные фонари применяются:

1. Только в светлое время суток.
2. Только в темное время суток.
3. Только в условиях недостаточной видимости.



В данной ситуации дорожная разметка в виде стрелок:

1. Требует от Вас обязательного перестроения на правую полосу и дает преимущество.
2. Информировывает о том, что дорога поворачивает на право.
3. Указывает о необходимости своевременного перестроения на правую полосу из-за уменьшения количества полос.
4. Требует от Вас увеличения бокового интервала при приближении встречных транспортных средств.



Нарушил ли водитель легкового автомобиля правила остановки?

1. Да, нарушил.
2. Нет, не нарушил.
3. Не нарушил, если это связано с технической неисправностью транспортного средства.



Обязаны ли Вы уступить дорогу встречному автомобилю, в данной ситуации, согласно Правилам дорожного движения?

1. Да.
2. Нет.



Какие действия Вам рекомендуются выполнить для восстановления эффективности тормозов после проезда через водную преграду?

1. Продолжить движение, притормаживая ручным тормозом.
2. Продолжить движение с несколькими, непродолжительными касаниями на педаль тормоза.
3. Продолжить движение с малой скоростью, без притормаживания.
4. Остановиться и продолжить движение после того, как высохнут тормозные механизмы.



Ваши действия при движении прямо?

1. Уступите дорогу только трамваю.
2. Уступите дорогу трамваю и автомобилю.
3. Проедете перекресток первым.



Кому Вы уступите дорогу при повороте налево на перекрестке?

1. Только трамваю.
2. Только автомобилю с проблесковым маячком оранжевого цвета.
3. Трамваю и автомобилю с проблесковым маячком оранжевого цвета.
4. Всем транспортным средствам.
5. Никому.

1



I II III IV

Какие дорожные знаки запрещают поворот налево водителям автомобилей?

1. Все знаки.
2. Только знаки I и II.
3. Только знаки II и IV.
4. Только знаки I и III.

2



Разрешается ли Вам выполнить поворот направо на перекрестке?

1. Да.
2. Нет.
3. Да, уступив дорогу встречным транспортным средствам.

3



В каких направлениях Вам разрешается продолжить движение в данной ситуации?

1. Разрешается, только налево и в обратном направлении.
2. Разрешается, только направо.
3. Разрешается налево, направо и в обратном направлении.
4. В данной ситуации движение запрещается.

4



Обязаны ли Вы, при движении по главной дороге, включить правый указатель поворота?

1. Обязаны.
2. Не обязаны.
3. Обязаны, при приближении транспортных средств с других направлений.

5



Разрешена ли Вам стоянка в указанном месте?

1. Разрешена.
2. Запрещена.

6



Кому Вы уступите дорогу при повороте налево?

1. Только транспортному средству с включенным проблесковым маячком.
2. Только легковому автомобилю.
3. Общим транспортным средствам.
4. Никому.

7



К чему, может привести резкое нажатие на педаль газа, на скользкой дороге при управлении автомобилем?

1. К прекращению работы двигателя.
2. К увеличению опрокидывающего момента.
3. К буксованию ведущих колес и заносу автомобиля.

8



Как остановить кровотечение при ранении артерии?

1. Наложить давящую повязку на место ранения.
2. Наложить жгут выше места ранения.
3. Наложить жгут ниже места ранения.

1

Эксплуатация транспортного средства запрещается, если:

1. Не работает или установлен звуковой сигнал с изменяющейся основной частотой.
2. Имеются трещины на ветровом стекле в зоне очистки стеклоочистителем половины стекла, расположенного со стороны водителя.
3. Ремни безопасности неработоспособны или имеют видимые надорывы на лямке.
4. Отсутствуют предусмотренные конструкцией зеркала заднего вида или их комплектация не соответствует требованиям, установленным стандартом.
5. Имеются, все вышеперечисленные неисправности.



Является ли в данной ситуации Ваша остановка вынужденной?

1. Да.
2. Нет.

3



С какой максимальной скоростью Вы можете продолжить движение на легковом автомобиле с прицепом, после проезда данного дорожного знака?

1. 60 км/ч.
2. 70 км/ч.
3. 80 км/ч.
4. 90 км/ч.
5. 110 км/ч.

4



Ваши действия при повороте налево?

1. Уступите дорогу автобусу.
2. Проедете перекресток первым.

5



I

II

III

Какие из указанных дорожных знаков разрешают движение грузовых автомобилей с разрешенной максимальной массой менее 3,5 тонн?

1. Только знак I.
2. Только знаки I и II.
3. Все указанные знаки.



С какой максимальной скоростью Вам разрешается продолжить движение при управлении грузовым автомобилем с разрешенной максимальной массой не более 3,5 тонн, вне населенного пункта (не на автомагистралях)?

1. 70 км/ч.
2. 80 км/ч.
3. 90 км/ч.
4. 100 км/ч.
5. 110 км/ч.
6. 140 км/ч.

7



Водитель, какого транспортного средства уступит дорогу?

1. Водитель, который начинает движение от тротуара.
2. Водитель, который намерен остановиться у тротуара.

8



В каких направлениях Вам разрешается продолжить движение?

1. Только прямо.
2. Только направо.
3. Налево и в обратном направлении.
4. Во всех направлениях разрешается.
5. Во всех направлениях запрещается.

1



I II III IV

При установке, каких дорожных знаков Вы уступите дорогу, если встречный разъезд затруднен?

1. При установке знаков I и II.
2. При установке только знака III.
3. При установке знаков I и III.
4. При установке знаков II и IV.



2

Что означает данная вертикальная разметка?

1. Обозначает место, где запрещена остановка транспортных средств.
2. Обозначает место, где запрещена стоянка транспортных средств.
3. Обозначает бордюры на опасных участках дорог.



3

В каких направлениях Вам разрешается продолжить движение на перекрестке?

1. Только прямо.
2. Только направо.
3. Только прямо и направо.
4. В любом направлении разрешается.
5. В любом направлении запрещается.



4

Разрешается ли Вам выполнить разворот на данном участке?

1. Разрешается.
2. Запрещается.
3. Запрещается, при видимости дороги менее 100 метров.



5

Нарушил ли водитель легкового автомобиля правила остановки?

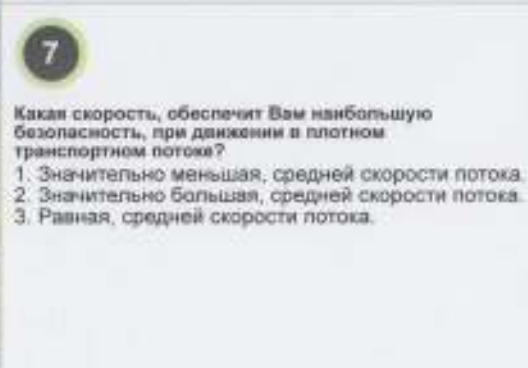
1. Да, нарушил.
2. Нет, не нарушил.
3. Не нарушил, если это связано с технической неисправностью транспортного средства.



6

Разрешается ли Вам выполнить обгон гужевой повозки при движении в населенном пункте, в данной ситуации?

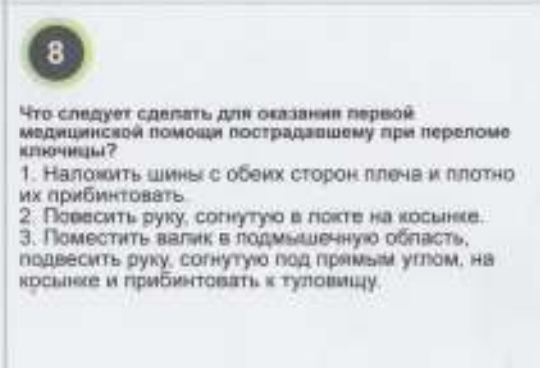
1. Разрешается.
2. Запрещается.
3. Разрешается, если обгон будет завершен до переезда.



7

Какая скорость, обеспечит Вам наибольшую безопасность, при движении в плотном транспортном потоке?

1. Значительно меньшая, средней скорости потока.
2. Значительно большая, средней скорости потока.
3. Равная, средней скорости потока.



8

Что следует сделать для оказания первой медицинской помощи пострадавшему при переломе ключицы?

1. Наложить шины с обеих сторон плеча и плотно их прибинтовать.
2. Повесить руку, согнутую в локте на косынке.
3. Поместить валик в подмышечную область, подвесить руку, согнутую под прямым углом, на косынке и прибинтовать к туловищу.



Разрешается ли Вам остановка на мосту для посадки пассажира?

1. Разрешается.
2. Запрещается.



Что Вы сделаете при повороте налево?

1. Проедете перекресток первым.
2. Остановитесь перед стоп-линией для того чтобы уступить дорогу транспортному средству движущемуся навстречу.
3. Остановитесь за стоп-линией для того, чтобы уступить дорогу транспортному средству движущемуся навстречу.



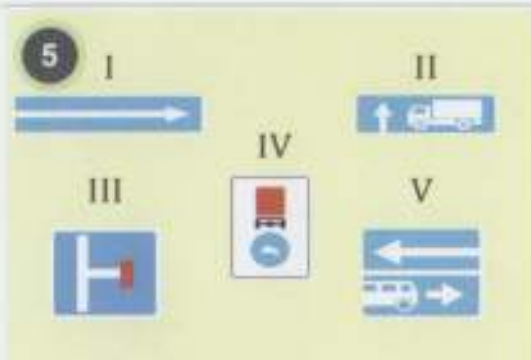
Эксплуатация транспортного средства запрещается, если:

1. Отсутствуют предусмотренные конструкцией стекла и противосолнечные козырьки.
2. Не работает стеклоподъемник.
3. Не исправен амортизатор.
4. Имеются все вышеперечисленные неисправности.



Является ли в данной ситуации Ваша остановка вынужденной?

1. Да.
2. Нет.



Какой из указанных дорожных знаков запрещает поворот направо водителю грузового автомобиля?

1. Знак I.
2. Знак II.
3. Знак III.
4. Знак IV.
5. Знак V.



Если во время Вашего движения начался дождь, Вам рекомендуется:

1. Снизить скорость движения и быть особенно осторожным.
2. Продолжить движение с прежней скоростью, пока дождь не усилится.
3. Увеличить скорость, чтобы двигаться под дождем, как можно меньше времени.



Разрешается ли водителю легкового автомобиля начать движение от тротуара в данной ситуации?

1. Разрешается.
2. Разрешается, если он не создает помех движению грузовому автомобилю.
3. Запрещается.



В каких направлениях Вам разрешено продолжить движение?

1. Только прямо.
2. Только направо.
3. Налево и в обратном направлении.
4. Во всех направлениях разрешается.
5. Во всех направлениях запрещается.



1

Уступите ли Вы дорогу маршрутному транспортному средству, начинающему движение от места, где нет обозначенной остановки?

1. Да.
2. Нет.



2

По какой траектории Вам разрешается выполнить поворот налево?

1. По любой траектории.
2. Только по траектории I.
3. Только по траектории II.



3

Каким транспортным средствам разрешается остановка в зоне действия данных дорожных знаков?

1. Только мотоциклам и автомобилям, на которых установлены опознавательные знаки «Инвалид».
2. Только маршрутным транспортным средствам.
3. Обоим транспортным средствам, разрешается.
4. Обоим транспортным средствам, запрещается.



4

На каком минимальном расстоянии от транспортного средства Вы выставите знак аварийной остановки вне населенного пункта?

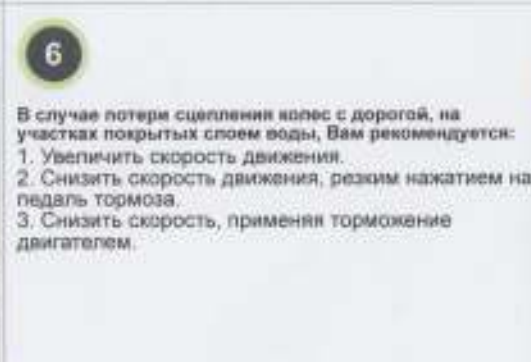
1. 15 метров.
2. 20 метров.
3. 30 метров.
4. 50 метров.



5

Разрешается ли водителю легкового автомобиля, начать обгон в данной ситуации?

1. Разрешается.
2. Запрещается.



6

В случае потери сцепления колес с дорогой, на участках покрытых слоем воды, Вам рекомендуется:

1. Увеличить скорость движения.
2. Снизить скорость движения, резким нажатием на педаль тормоза.
3. Снизить скорость, применяя торможение двигателем.



7

В данной ситуации при повороте направо Вы:

1. Имеете преимущество.
2. Уступите дорогу автобусу.



8

Кому Вы уступите дорогу при повороте налево на перекрестке?

1. Только трамваю.
2. Только автомобилю с проблесковым маячком оранжевого цвета.
3. Трамваю и автомобилю с проблесковым маячком оранжевого цвета.
4. Всем транспортным средствам.
5. Никому.



О чем предупреждают Вас данные дорожные знаки?
 1. О начале участка с опасными поворотами, через 300 метров.
 2. О начале через 50-100 метров участка, с опасными поворотами, протяженностью 300 метров.
 3. О начале участка с опасными поворотами, с места установки знака, протяженностью 300 метров.
 4. О начале участка через 150-300 метров участка, с опасными поворотами, протяженностью 300 метров.



Данная вертикальная разметка на поверхности ограждения дорог информирует Вас:
 1. О движении по опасному участку дороги.
 2. О движении по другим участкам дорог.
 3. О движении по участку, где запрещается выезд на полосу встречного движения.



В каких направлениях Вам разрешается продолжить движение в данной ситуации?
 1. Только прямо.
 2. Только прямо и направо.
 3. Во всех направлениях разрешается.
 4. Во всех направлениях запрещается.



С какой полосы движения Вам разрешен поворот налево в данной ситуации?
 1. С крайней левой.
 2. С крайней правой.
 3. С любой из полос.
 4. Поворот налево на данном перекрестке запрещен.



Разрешается ли Вам остановка на мосту для посадки пассажира?
 1. Разрешается.
 2. Запрещается.



Разрешено ли Вам выехать на перекресток в данной ситуации?
 1. Разрешено.
 2. Запрещено.
 3. Разрешено для поворота или разворота.



Если на пути Вашего движения находится глубокая лужа, её проехать, Вам рекомендуется:
 1. На небольшой скорости и низкой передаче.
 2. На большой скорости и высокой передаче.
 3. На большой скорости и низкой передаче.
 4. На небольшой скорости и высокой передаче.



Как остановить кровотечение при ранении вены?
 1. Наложить давящую повязку на место ранения.
 2. Наложить жгут выше места ранения.
 3. Наложить жгут ниже места ранения.

1

Эксплуатация транспортного средства запрещается, если:

1. Установлены дополнительные предметы, ограничивающие обзорность с места водителя, влекущие опасность травмирования участников дорожного движения.
2. Отсутствуют предусмотренные конструкцией заднее защитное устройство, грязезащитные фартуки и брызговики.
3. Не работает предусмотренный конструкцией тахограф.
4. Неисправны тягово-сцепное и опорно-сцепное устройства тягача и прицепного звена.
5. Имеются, все вышеперечисленные неисправности.



- «Дорожно-транспортное происшествие» это:
1. Событие, возникшее в процессе движения по дороге транспортного средства и с его участием повлекшее причинение вреда здоровью, смерть человека.
 2. Событие, возникшее в процессе движения по дороге транспортного средства и с его участием повлекшее повреждение транспортных средств, сооружений, грузов или иной материальный ущерб.
 3. Событие, возникшее в процессе движения по дороге транспортного средства и с его участием повлекшее причинение вреда здоровью, смерть человека, повреждение транспортных средств, сооружений, грузов или иной материальный ущерб.

3



С какой максимальной скоростью Вам разрешено продолжить движение на легковом автомобиле, после проезда данного дорожного знака?

1. 60 км/ч.
2. 90 км/ч.
3. 100 км/ч.
4. 110 км/ч.
5. 140 км/ч.

4



Разрешается ли Вам стоянка в указанном месте?

1. Разрешается.
2. Запрещается.
3. Разрешается, если не будет создано помех движению маршрутных транспортных средств.

5



Дальний свет переключается на ближний при встречном разъезде на расстоянии не менее чем за:

1. 100 метров.
2. 150 метров.
3. 200 метров.
4. 300 метров.

6



Управляя, каким из перечисленных транспортных средств Вам запрещается продолжить движение прямо?

1. Обслуживающие предприятия(граждан), находящиеся(проживающих) в обозначенной зоне.
2. Обозначенным опознавательным знаком «Инвалид».
3. Немеханическим транспортным средством.
4. Любым из перечисленных транспортных средств.

7



Разрешается ли Вам выполнить разворот в тоннеле?

1. Разрешается.
2. Разрешается, но только в тоннелях с искусственным освещением.
3. Запрещается.

8



Кому Вы уступите дорогу при движении прямо на перекрестке?

1. Только трамваю I.
2. Только трамваю II.
3. Общим трамваем.
4. Никому.



В каких из указанных мест Вам разрешается осуществить стоянку, не связанную с длительным отдыхом или ночлегом?

1. В обоих местах разрешается.
2. Только в указанном месте I.
3. Только в указанном месте II.
4. В обоих местах запрещается.



Разрешается ли Вам выполнить разворот в пределах прерывистой линии разметки?

1. Разрешается.
2. Запрещается.



Разрешается ли Вам поворот направо при таком положении регулировщика?

1. Разрешается, уступая дорогу пешеходам.
2. Запрещается.
3. Разрешается, не уступая дорогу пешеходам.



Разрешается ли Вам поворот на дорогу с грунтовым покрытием?

1. Разрешается.
2. Запрещается, так как дорога с грунтовым покрытием расположена перед опасным поворотом.
3. Запрещается, при видимости дороги менее 100 метров.



На каком минимальном расстоянии от транспортного средства Вы выставите знак аварийной остановки в населенном пункте?

1. 15 метров.
2. 20 метров.
3. 30 метров.
4. 50 метров.



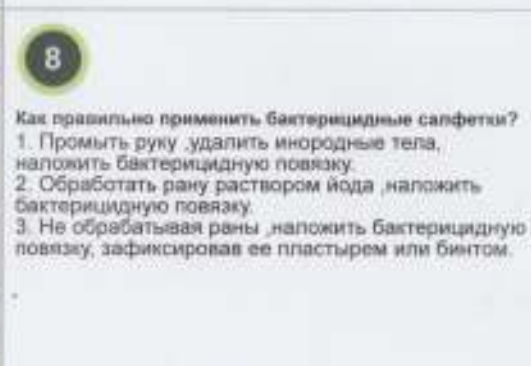
Разрешается ли водителю грузового автомобиля начать обгон в данной ситуации?

1. Разрешается.
2. Запрещается.



При въезде на участок, покрытый влажными листьями, Вам рекомендуется:

1. Плавное торможение, прерывистыми нажатиями на педаль тормоза не выключая сцепление.
2. Плавное торможение, прерывистыми нажатиями на педаль тормоза, выключив сцепление.
3. При движении, как можно чаще поворачивать рулевое колесо то вправо- то влево, чтобы улучшить контакт шин с дорогой.
4. Выключить сцепление, плавно и до упора нажать на педаль тормоза.



Как правильно применить бактерицидные салфетки?

1. Промыть руку, удалить инородные тела, наложить бактерицидную повязку.
2. Обработать рану раствором йода, наложить бактерицидную повязку.
3. Не обрабатывая раны, наложить бактерицидную повязку, зафиксировав ее пластырем или бинтом.



Разрешена ли Вам стоянка в указанном месте на мосту?

1. Запрещается.
2. Разрешается.



Кому Вы уступите дорогу при движении прямо?

1. Никому.
2. Только транспортному средству слева.
3. Только транспортному средству справа.
4. Только встречному транспортному средству.
5. Всем транспортным средствам.



В каких из указанных случаев водитель совершил стоянку, исключая самопроизвольный выезд транспортного средства на проезжую часть?

1. I и IV.
2. II и III.
3. I и III.
4. II и IV.



«Автопоезд» это:

1. Группа транспортных средств, движущаяся непосредственно друг за другом по одной и той же полосе движения.
2. Механическое транспортное средство, сцепленное с прицепом.
3. Механическое транспортное средство, сцепленное с прицепом (прицепами).



Данным опознавательным знаком обозначается?

1. Контуры боковых и задних сторон транспортного средства.
2. Транспортные средства, обгон которых запрещен.
3. Транспортные средства, перевозящие опасные грузы.
4. Длинномерные транспортные средства.
5. Все, вышеперечисленное.



При каком соотношении между силой тяги и силой сцепления колеса с поверхностью дороги, обеспечивается движение без пробуксовки?

1. Сила тяги больше, силы сцепления.
2. Сила тяги меньше, силы сцепления.



Разрешается ли водителю грузового автомобиля движение по тротуарам или пешеходным дорожкам?

1. Разрешается, если при этом не будут созданы помехи для движения пешеходов.
2. Разрешается грузовым автомобилям с разрешенной максимальной массой менее 3,5 тонн.
3. Разрешается грузовым автомобилям с разрешенной максимальной массой более 3,5 тонн.
4. Разрешается всем грузовым автомобилям, подвозящих грузы по кратчайшему пути к объектам при отсутствии других возможностей для подъезда при условии обеспечения безопасности движения.



Кому Вы уступите дорогу при движении прямо на перекрестке?

1. Только мотоциклу.
2. Мотоциклу и автобусу.
3. Всем транспортным средствам.
4. Никому.



Водители, каких транспортных средств уступят дорогу трамваю, выезжающему из депо в данной ситуации?

1. Водители обоих транспортных средств.
2. Только водитель автобуса.
3. Только водитель легкового автомобиля.
4. Никто из водителей.

2


Какие световые приборы включаются на автомобиле при движении в темное время суток и в условиях недостаточной видимости, на освещенных участках дорог в населенном пункте?

1. Только габаритные огни.
2. Только габаритные огни и фары ближнего света.
3. Только габаритные огни и фары дальнего или ближнего света.



В каких направлениях Вам разрешается продолжить движение в данной ситуации?

1. Только прямо.
2. Только прямо или налево.
3. Прямо, налево и в обратном направлении.
4. Во всех направлениях разрешается.
5. Во всех направлениях запрещается.



При неисправности аварийной световой сигнализации буксируемое транспортное средство обозначается:

1. Предупредительными устройствами для обозначения гибких связующих звеньев (флажки).
2. Знаком аварийной остановки закрепленным сзади.
3. Проблесковым маячком оранжевого или желтого цвета.



Как Вы поступите в данной ситуации?

1. объедете автобус слева.
2. объедете автобус справа по обочине.
3. Продолжите движение только после того, когда автобус освободит данную полосу движения.

6

При трогании на подъеме, стояночный тормоз рекомендуется выключить:

1. После начала движения.
2. До начала движения.
3. Одновременно, с началом движения.



Кому Вы уступите дорогу при повороте направо на перекрестке?

1. Только грузовому автомобилю.
2. Грузовому автомобилю и автобусу.
3. Всем транспортным средствам.
4. Никому.



Кому Вы уступите дорогу при повороте налево на перекрестке?

1. Только легковому автомобилю.
2. Только мотоциклу.
3. Обоим транспортным средствам.
4. Никому.



По каким траекториям Вам запрещено продолжить движение?

1. По траектории I.
2. По траектории II.
3. По траекториям I и II.



Разрешено ли Вам осуществить стоянку в указанном месте?

1. Разрешено.
2. Запрещено.
3. Разрешено, только с полным заездом на тротуар, при условии, что это не будет препятствовать движению пешеходов.



В каких направлениях Вам разрешено продолжить движение на перекрестке, в данной ситуации?

1. Только прямо.
2. Только направо.
3. Прямо или направо.
4. В данной ситуации движение во всех направлениях запрещено.



Когда Вам необходимо включить левый указатель поворота для выполнения разворота на перекрестке?

1. Перед въездом на перекресток, так как поворот налево запрещен.
2. Указатель поворота включать не нужно, так как он может ввести в заблуждение других участников движения.
3. Заблаговременно до начала маневра, при этом сигнал не должен вводить в заблуждение других участников движения.



Разрешена ли Вам стоянка в указанном месте на мосту?

1. Запрещается.
2. Разрешается.



Кому Вы уступите дорогу при повороте направо?

1. Только пешеходу I.
2. Только пешеходу II.
3. Пешеходам I и II.



В каких случаях движение по дороге, покрытой льдом наиболее опасно?

1. Когда температура воздуха выше точки замерзания воды.
2. Когда температура воздуха ниже точки замерзания воды.
3. В данной ситуации температура воздуха на безопасность не влияет.



Как наложить шину при переломе костей бедра?

1. Наложить шины с внутренней и наружной стороны ноги, от стопы до тазобедренного сустава.
2. Наложить шину с внешней стороны ноги, от стопы до тазобедренного сустава.
3. Наложить шины с внешней стороны ноги, от стопы до подмышки и с внутренней стороны ноги, от стопы до паха.



В каких из указанных случаев водитель совершил стоянку, исключая самопроизвольный выезд транспортного средства на проезжую часть?

1. I и II.
2. II и III.
3. I и III.
4. II и IV.



На каких рисунках дорожные знаки обозначают главную дорогу?

1. На рисунке I.
2. На рисунках I и II.
3. На рисунках I и IV.
4. На рисунках I, III и IV.
5. На всех рисунках.




С какой максимальной скоростью Вам разрешает движение при буксировке механического транспортного средства после проезда данного дорожного знака?

1. 50 км/ч.
2. 60 км/ч.
3. 70 км/ч.
4. 90 км/ч.
5. 100 км/ч.



О чем информируют Вас данные дорожные знаки?

1. Информировать о наличии места стоянки у правого края проезжей части.
2. Информировать о наличии места стоянки на тротуаре справа.
3. Информировать о стояночной площадке, удаленной от края проезжей части справа.



Какие световые приборы включаются на автомобиле, при движении в темное время суток и в условиях недостаточной видимости на участках дорог вне населенного пункта?

1. Габаритные огни.
2. Габаритные огни и фары ближнего света.
3. Габаритные огни и фары дальнего или ближнего света.
4. Габаритные огни и противотуманные фары.



Разрешен ли Вам на перекрестке поворот направо?

1. Да.
2. Нет.



С какой максимальной скоростью Вам разрешается продолжить движение при управлении грузовым автомобилем с разрешенной максимальной массой менее 3,5 тонн, в данной ситуации?

1. 70 км/ч.
2. 80 км/ч.
3. 90 км/ч.
4. 100 км/ч.
5. 110 км/ч.
6. 140 км/ч.



Кому Вы уступите дорогу при движении прямо на перекрестке?

1. Только пешеходу.
2. Только велосипедисту.
3. Пешеходу и велосипедисту.
4. Никому.



О чем информируют Вас эти дорожные знаки?

1. Предупреждают о приближении к нерегулируемому перекрестку.
2. Запрещают совершить остановку на протяжении 250м.
3. Предупреждают о приближении к перекрестку, где установлен знак 2.5 «Движение без остановки запрещено».



Разрешено ли Вам осуществить высадку пассажира в указанном месте?

1. Разрешено.
2. Запрещено.
3. Разрешается на время до 5 минут.



В каких направлениях Вам разрешено продолжить движение на перекрестке, в данной ситуации?

1. Только прямо.
2. Только направо.
3. Прямо и направо.
4. Движение во всех направлениях запрещено.



Что означает согнутая в локте под прямым углом вверх левая рука водителя мотоцикла?

1. Его намерении продолжить движение прямо.
2. Его намерении повернуть направо.
3. Его намерении остановиться, чтобы уступить дорогу.
4. Его намерении предупредить Вас об опасности.



Разрешается ли Вам осуществить буксировку механического транспортного средства на данном участке дороги?

1. Разрешается.
2. Запрещается.
3. Разрешается, но далее второй полосы движения.



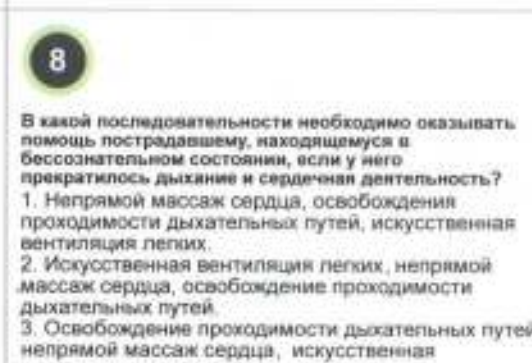
Вам разрешается выполнить обгон трактора:

1. На железнодорожном переезде.
2. За железнодорожным переездом.
3. Только на расстоянии более 100 метров за переездом.
4. Во всех перечисленных случаях обгон запрещается.



Как Вы должны воздействовать на педаль газа, при возникновении заноса, вызванного резким ускорением движения?

1. Полностью отпустить педаль газа.
2. Не менять положение педали газа.
3. Несколько ослабить нажатие на педаль газа.



В какой последовательности необходимо оказывать помощь пострадавшему, находящемуся в бессознательном состоянии, если у него прекратилось дыхание и сердечная деятельность?

1. Непрямой массаж сердца, освобождения проходимость дыхательных путей, искусственная вентиляция легких.
2. Искусственная вентиляция легких, непрямой массаж сердца, освобождение проходимость дыхательных путей.
3. Освобождение проходимость дыхательных путей, непрямой массаж сердца, искусственная вентиляция легких.



Разрешается ли Вам остановка в указанном месте?

1. Разрешается.
2. Запрещается.
3. Запрещается, если это создаст помехи движению транспортных средств.



Если за перекрестком образовался затор Вам, при движении прямо, необходимо:

1. Выехать на перекресток и остановиться позади, впереди стоящих транспортных средств, ожидая возобновления движения транспортного потока.
2. Остановиться перед стоп - линией и ожидать возобновления движения транспортного потока.
3. Оба варианта верны.



Обязаны ли Вы предоставить транспортное средство медицинскому работнику для транспортировки граждан, нуждающихся в срочной медицинской помощи?

1. Обязаны, следующему только в попутном направлении движения.
2. Обязаны, следующему независимо от направления движения.
3. Не обязаны.



На каком из рисунков изображен обгон?

1. На верхнем.
2. На нижнем.
3. На обоих рисунках.



С какой максимальной скоростью Вам разрешается движение при буксировке механического транспортного средства после проезда данного дорожного знака?

1. 50 км/ч.
2. 60 км/ч.
3. 70 км/ч.
4. 90 км/ч.
5. 100 км/ч.



Влияет ли движение накатом, на безопасность управления транспортным средством?

1. Да, влияет отрицательно.
2. Да, влияет положительно.



По какой из указанных траекторий Вам разрешается выполнить разворот?

1. По траектории I.
2. По траектории II.
3. По обеим указанным траекториям разрешается.
4. По обеим траекториям запрещается.



Уступите ли Вы дорогу трамваю при движении прямо?

1. Да.
2. Нет.



Разрешается ли остановка грузового автомобиля на данной полосе для разгрузки(загрузки) транспортного средства?

1. Разрешается, если это не создает помех движению маршрутных транспортных средств.
2. Разрешается на время до 5 минут.
3. Запрещается.

2

На буксируемом механическом транспортном средстве, габаритные огни включаются:

1. В темное время суток и в условиях недостаточной видимости.
2. Только при буксировке на гибкой сцепке.
3. На дорогах вне населенного пункта.
4. При любых условиях.



В каком месте Вам разрешено выполнить разворот?

1. На данном перекрестке.
2. После проезда данного перекрестка.
3. Только на следующем перекрестке.



На каком максимальном расстоянии от транспортного средства Вы выставите знак аварийной остановки?

1. На расстоянии видимости.
2. На расстоянии, обеспечивающем в конкретной обстановке, своевременное предупреждение других водителей об опасности.
3. Не менее длины остановочного пути.
4. Не менее длины тормозного пути.



Разрешается ли Вам выполнить обгон в данной ситуации?

1. Запрещается.
2. Разрешается.
3. Разрешается, при видимости дороги более 100 метров.

6

При торможении автомобиля, Вам рекомендуется:

1. Обратит внимание на исправность ремня безопасности.
2. Обратит внимание на обстановку сзади, через зеркало заднего вида.
3. Обратит внимание на показания спидометра.



Обязаны ли Вы уступить дорогу грузовому автомобилю при выполнении разворота на перекрестке?

1. Обязаны.
2. Не обязаны.



Разрешается ли Вам стоянка в указанном месте, при управлении грузовым автомобилем?

1. Разрешается.
2. Запрещается.
3. Разрешается, только грузовым автомобилям с разрешенной максимальной массой менее 3,5 тонн.
4. Разрешается, только грузовым автомобилям с разрешенной максимальной массой более 3,5 тонн.



В каких направлениях Вам разрешено продолжить движение на перекрестке?

1. Только налево.
2. Только налево и в обратном направлении.
3. Только налево, прямо и в обратном направлении.
4. Во всех направлениях.



Разрешается ли Вам выполнить разворот на данном участке?

1. Разрешается.
2. Запрещается.
3. Запрещается, если ширина проезжей части недостаточна для выполнения маневра.



Разрешается ли Вам выполнить разворот при таком положении регулировщика?

1. Разрешается, не уступая дорогу автобусу.
2. Запрещается.
3. Разрешается, уступив дорогу автобусу.



В какой момент водитель легкового автомобиля обязан выключить левый указатель поворота?

1. Немедленно после перестроения на левую полосу.
2. Немедленно после опережения автобуса.
3. Немедленно после возвращения на правую полосу.



Разрешается ли Вам остановка в указанном месте?

1. Разрешается.
2. Запрещается.
3. Запрещается, если это создаст помехи движению транспортных средств.



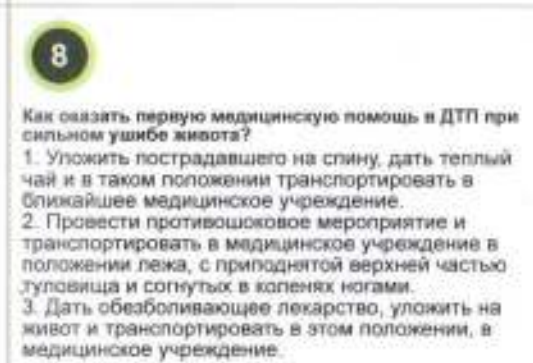
При движении прямо Вы:

1. Уступите дорогу автобусу.
2. Уступите дорогу легковому автомобилю.
3. Уступите дорогу обоим транспортным средствам.
4. Никому не уступите дорогу.



При подготовке к торможению, Вам рекомендуется:

1. Снять ногу с педали газа и поставить ее на пол.
2. Снять ногу с педали газа и перенести ее на педаль тормоза.
3. Продолжать держать ногу на педали газа.



Как оказать первую медицинскую помощь в ДТП при сильном ушибе живота?

1. Уложить пострадавшего на спину, дать теплый чай и в таком положении транспортировать в ближайшее медицинское учреждение.
2. Провести противошоковое мероприятие и транспортировать в медицинское учреждение в положении лежа, с приподнятой верхней частью туловища и согнутых в коленях ногами.
3. Дать обезболивающее лекарство, уложить на живот и транспортировать в этом положении, в медицинское учреждение.



Обязаны ли Вы предоставить транспортное средство медицинскому работнику, следующему для оказания медицинской помощи?

1. Обязаны, следующему в попутном направлении движения.
2. Обязаны, независимо от направления движения.
3. Не обязаны.



На каких рисунках дорожные знаки обозначают главную дорогу?

1. На рисунке I.
2. На рисунках I и II.
3. На рисунках I и IV.
4. На рисунках I, III и IV.
5. На всех рисунках.



С какой максимальной скоростью Вам разрешается продолжить движение при управлении легковым автомобилем с прицепом на данном участке дороги?

1. 70 км/ч.
2. 90 км/ч.
3. 100 км/ч.
4. 110 км/ч.
5. 140 км/ч.



Разрешается ли остановка легкового автомобиля на данной полосе для разгрузки(загрузки) транспортного средства?

1. Разрешается, если это не создает помех движению маршрутных транспортных средств.
2. Разрешается на время до 5 минут.
3. Запрещается.



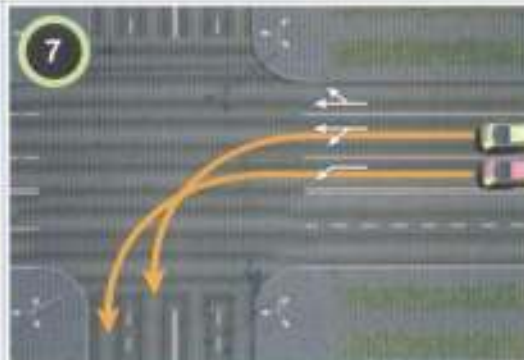
Какие световые приборы включаются на буксируемом механическом транспортном средстве в светлое время суток?

1. Только аварийная световая сигнализация.
2. Только габаритные огни.
3. Габаритные огни и аварийная световая сигнализация.



Как Вы должны вести транспортное средство, вне населенного пункта, управляя легковым автомобилем?

1. Только по левой полосе.
2. Ближе к правому краю проезжей части дороги.
3. По любой из полос движения.



Кто из водителей должен уступить дорогу, при одновременном повороте налево?

1. Водитель автомобиля желтого цвета.
2. Водитель автомобиля красного цвета.
3. Правила данную ситуацию не регламентируют.



Вы проедете перекресток в данной ситуации:

1. Первым.
2. Вторым.
3. Последним.



В каких направлениях Вам разрешено продолжить движение на перекрестке?

1. Только направо.
2. Только прямо и направо.
3. Прямо, направо и в обратном направлении.
4. В любых направлениях.



Разрешается ли Вам выполнить разворот на данном участке?

1. Разрешается.
2. Запрещается.
3. Запрещается, если ширина проезжей части недостаточна для выполнения маневра.



В каких направлениях Вам разрешается продолжить движение в данной ситуации?

1. Во всех направлениях.
2. Только прямо и направо.
3. Только прямо.
4. Прямо, налево и в обратном направлении.
5. Движение во всех направлениях запрещается.



Разрешено ли Вам выполнить разворот на данном участке?

1. Разрешено.
2. Запрещено.



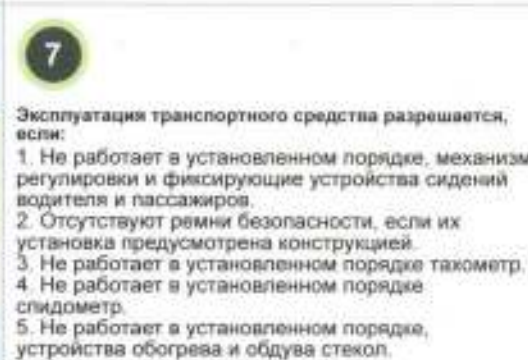
Какое расстояние обеспечивается между буксирующим и буксируемым транспортным средством, при буксировке на гибкой сцепке?

1. 3-6 метров.
2. 4-6 метров.
3. 5-7 метров.
4. Правила данную ситуацию не регламентируют.



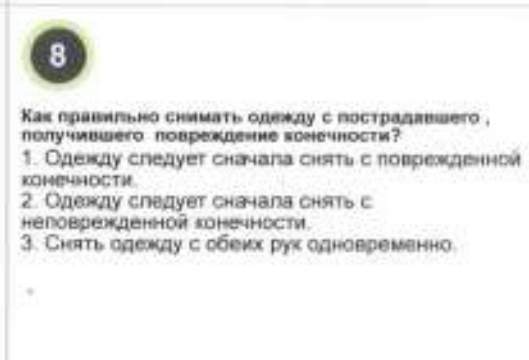
Уступите ли Вы дорогу встречному автомобилю в данной ситуации?

1. Да, уступите дорогу.
2. Нет, имеете право проехать первым.



Эксплуатация транспортного средства разрешается, если:

1. Не работает в установленном порядке, механизм регулировки и фиксирующие устройства сидений водителя и пассажиров.
2. Отсутствуют ремни безопасности, если их установка предусмотрена конструкцией.
3. Не работает в установленном порядке тахометр.
4. Не работает в установленном порядке спидометр.
5. Не работает в установленном порядке, устройства обогрева и обдува стекол.
6. Имеются, все вышеперечисленные неисправности.



Как правильно снимать одежду с пострадавшего, получившего повреждение конечности?

1. Одежду следует сначала снять с поврежденной конечности.
2. Одежду следует сначала снять с неповрежденной конечности.
3. Снять одежду с обеих рук одновременно.



Разрешается ли Вам остановка в указанном месте?

1. Разрешается.
2. Запрещается.
3. Запрещается, если это создаст помехи движению транспортных средств.



Кому Вы уступите дорогу при повороте налево?

1. Только легковому автомобилю и автобусу.
2. Только легковому автомобилю.
3. Только грузовому автомобилю.
4. Всем транспортным средствам.
5. Никому.



По требованию каких лиц, водитель механического транспортного средства обязан передавать для проверки водительское удостоверение?

1. Уполномоченных на то должностных лиц органов внутренних дел, органов транспортного контроля.
2. Работников органов внутренних дел (полиции).
3. Всех лиц, уполномоченных регулировать дорожное движение.



На каких рисунках дорожные знаки обозначают главную дорогу?

1. На рисунке I.
2. На рисунках I и II.
3. На рисунках I и IV.
4. На рисунках I, III и IV.
5. На всех рисунках.



Разрешается ли Вам стоянка в указанном месте?

1. Разрешается.
2. Запрещается.
3. Разрешается, если Вы проживаете рядом с этим местом.



При остановке в транспортном потоке на ровном участке, Вам рекомендуется:

1. Перевести рычаг переключения передач, в нейтральное положение.
2. Не переводить рычаг переключения передач, в нейтральное положение.



Кто из водителей должен уступить дорогу, при одновременном повороте направо?

1. Водитель автомобиля желтого цвета.
2. Водитель автомобиля красного цвета.
3. Правила данную ситуацию не регламентируют.



Кому Вы уступите дорогу при движении прямо?

1. Только легковому автомобилю.
2. Только автобусу.
3. Обоим транспортным средствам.
4. Никому.



Разрешается ли Вам остановка перед данными дорожными знаками?

1. Разрешается, только для посадки или высадки пассажира.
2. Разрешается до пяти минут.
3. Запрещается.



Какие световые приборы включаются на буксируемом механическом транспортном средстве в темное время суток или условиях недостаточной видимости?

1. Только аварийная световая сигнализация.
2. Только габаритные огни.
3. Габаритные огни и аварийная световая сигнализация.



По какой из полос Вы продолжите движение после обгона в населенном пункте?

1. По левой полосе.
2. По правой полосе.
3. По любой из полос.



О чем информирует Вас данный дорожный знак?

1. О том, что данный участок дороги не имеет сквозного проезда.
2. О том, что на данном участке дороги есть трамвайные пути.
3. О том, что впереди равнозначный перекресток.
4. О том, что впереди железнодорожный переезд.



Разрешается ли Вам выполнить обгон в данной ситуации, на перекрестке?

1. Разрешается.
2. Запрещается.
3. Разрешается, подав звуковой сигнал.



Для улучшения эффективности торможения, Вам рекомендуется:

1. Тормозить, короткими нажатиями на педаль тормоза.
2. Выключить двигатель и дополнительно использовать стояночный тормоз.
3. Резко нажать на педаль тормоза.
4. Резко повернуть рулевое колесо направо или налево, для того, чтобы улучшить контакт шин с дорогой и нажать на тормоз.



Ваши действия при движении прямо:

1. Проедете перекресток первым.
2. Уступите дорогу трамваю.



Ваши действия при движении прямо:

1. Проедете перекресток первым.
2. Уступите дорогу трамваю.



Как Вы поступите при установке данного дорожного знака перед перекрестком?

1. Остановитесь перед знаком 2.5 «Движение без остановки запрещено».
2. Остановитесь перед стоп-линией.
3. Остановитесь перед краем пересекаемой проезжей части.
4. Продолжите движение, без остановки, убедившись в отсутствии приближающихся транспортных средств.



По какой из указанных траекторий Вам разрешено выполнить объезд препятствия?

1. Только по траектории I.
2. Только по траектории II.
3. По обеим указанным траекториям.



Остановитесь ли Вы в указанном месте по требованию сотрудника ОВД?

1. Да.
2. Да, но только в светлое время суток.
3. Нет, так как это запрещает знак 3.27 «Остановка запрещена».
4. Правила данную ситуацию не регламентируют.



Обязаны ли Вы включить указатель поворота при въезде на этот перекресток?

1. Обязаны.
2. Не обязаны.



Разрешена ли Вам остановка в указанном месте?

1. Разрешена.
2. Запрещена.



Ваши действия при повороте налево?

1. Выполнить поворот, подав звуковой сигнал пешеходам.
2. Выполнить поворот, уступив дорогу пешеходам.
3. Не приступать к выполнению маневра, если это создаст помехи для движения автобуса.



Какие из перечисленных Ваших действий, могут привести к предотвращению заноса при движении по обледенелой дороге?

1. Движение с соответствующей скоростью, обеспечивающей безопасность.
2. Очень плавный поворот рулевого колеса при поворотах.
3. Движение на поворотах и закруглениях дороги без торможения.
4. Заблаговременное снижение скорости до минимума, перед остановкой автомобиля.
5. Все перечисленные действия.



В каком положении необходимо транспортировать пострадавшего в ДТП, с проникающей раной грудной клетки сбоку?

1. Лежа на спине и животе.
2. Лежа на раненом боку или полусидя.
3. Лежа на здоровом боку или полусидя.



При дорожно-транспортном происшествии водитель причастный к нему, в первую очередь обязан:

1. Освободить проезжую часть.
2. Немедленно остановить (не трогать с места) транспортное средство.
3. Сообщить незамедлительно о случившемся в ближайший орган внутренних дел.
4. Принять возможные меры для оказания первой медицинской помощи.



На каком из рисунков изображена дорога с разделительной полосой?

1. На рисунке I.
2. На рисунке II.
3. На рисунке III.
4. На всех рисунках.



С какой максимальной скоростью Вам разрешается движение, по примыкающей слева дороге?

1. 50 км/ч.
2. 70 км/ч.
3. 90 км/ч.
4. 100 км/ч.
5. 110 км/ч.



Разрешается ли Вам осуществить посадку пассажира в данной ситуации?

1. Разрешается.
2. Запрещается.
3. Да, но если это не создаст помех движению маршрутных транспортных средств.




В каких, из указанных случаев для исключения возможности ослепления водителей, фары дальнего света переключаются на фары ближнего света?

1. При встречном разъезде, если расстояние до транспортного средства менее чем 150 метров.
2. Если, водитель встречного транспортного средства периодическим переключением света фар, покажет необходимость этого.
3. Если, водитель транспортного средства движущегося спереди в попутном направлении, включил аварийную световую сигнализацию.
4. Во всех указанных случаях.



В каком из указанных мест Вам разрешена остановка на данном участке дороги?

1. Только в указанном месте I.
2. Только в указанных местах I и II.
3. Только в указанных местах I и III.
4. Во всех указанных местах.



На каком из рисунков изображен автомобиль с опознавательным знаком «Автопоезд»?

1. На левом рисунке.
2. На правом рисунке.
3. На обоих рисунках.



Уступите ли Вы дорогу автобусу при движении прямо на перекрестке?

1. Уступите.
2. Не уступите.
3. Не уступите, так как проедете одновременно с трамваем.



По какой траектории Вам разрешено продолжить движение в данной ситуации?

1. По траектории I.
2. По траекториям II или III.
3. По траекториям I и III.



Данная вертикальная разметка:

1. Обозначает нижний край пролетного строения тоннелей, мостов и путепроводов.
2. Обозначает бордюры на опасных участках и возвышающиеся островки безопасности.
3. Обозначает боковые поверхности ограждений дорог на других участках.
4. Разделяет транспортные потоки.



В каких направлениях Вам разрешается продолжить движение в данной ситуации?

1. Движение продолжить запрещается.
2. В любом направлении.
3. Только прямо, налево и в обратном направлении.
4. Только прямо или налево.



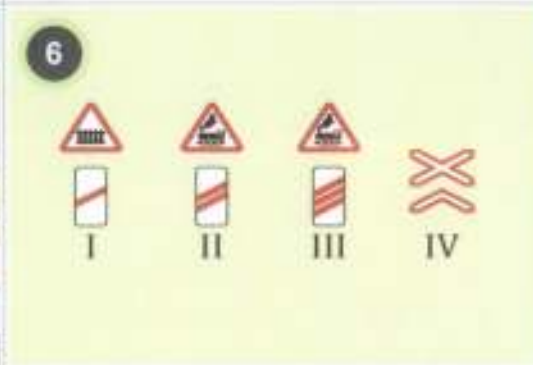
По каким из указанных траекторий Вам разрешается выполнить разворот?

1. Только по траектории I.
2. Только по траектории II.
3. По траекториям I и III.
4. По всем указанным траекториям разрешается.
5. Разворот по всем указанным траекториям запрещается.



О чем предупреждают Вас данный дорожный знак?

1. О приближении к железнодорожному переезду со шлагбаумом.
2. О приближении к железнодорожному переезду без шлагбаума.
3. О приближении к железнодорожному вокзалу.



Какой из указанных дорожных знаков предупреждает о железнодорожном переезде с двумя путями и более?

1. Знак I.
2. Знак II.
3. Знак III.
4. Знак IV.
5. Знаки II и III.



При объезде стоящего автомобиля в данной ситуации, Вам рекомендуется:

1. Двигаться, как можно ближе к нему.
2. Обеспечить достаточный боковой интервал на случай, если внезапно откроется дверь стоящего автомобиля или из-за него появится пешеход, переходящий дорогу.
3. Продолжать двигаться с той же скоростью, так как вы обладаете преимущественным правом проезда по отношению к водителю стоящего автомобиля.



В каком из указанных мест Вам разрешается остановка?

1. Только в указанных местах I и II.
2. Только в указанном месте II.
3. Только в указанных местах II и III.
4. Во всех указанных местах разрешается.



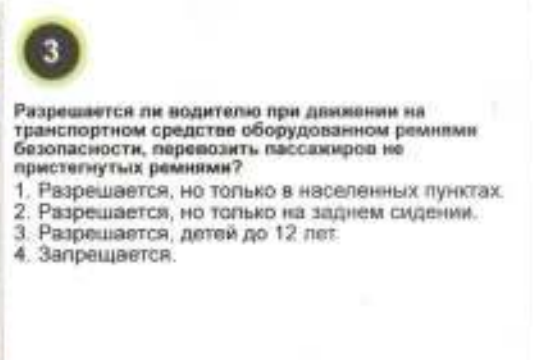
В каком из указанных мест Вам разрешается остановка вне населенного пункта?

1. Только в указанном месте I.
2. Только в указанном месте II.
3. В обоих указанных местах разрешается.
4. В обоих указанных местах запрещается.



Кому Вы уступите дорогу при повороте налево?

1. Только легковому автомобилю.
2. Только автомобилю, используемому для обучения вождению.
3. Никому не уступите дорогу.
4. Уступите дорогу обоим транспортным средствам.



Разрешается ли водителю при движении на транспортном средстве оборудованном ремнями безопасности, перевозить пассажиров не пристегнутых ремнями?

1. Разрешается, но только в населенных пунктах.
2. Разрешается, но только на заднем сидении.
3. Разрешается, детей до 12 лет.
4. Запрещается.



«Недостаточная видимость» это:

1. Видимость дороги менее 50 метров, в условии тумана, дождя, пыли, снегопада и тому подобному, а также в сумерки.
2. Видимость дороги менее 100 метров, в условии тумана, дождя, пыли, снегопада и тому подобному, а также в сумерки.
3. Видимость дороги менее 150 метров, в условии тумана, дождя, пыли, снегопада и тому подобному, а также в сумерки.
4. Видимость дороги менее 300 метров, в условии тумана, дождя, пыли, снегопада и тому подобному, а также в сумерки.



В каком из указанных мест Вам разрешается остановиться?

1. I.
2. II.
3. III.
4. I и III.
5. I и II.



При проезде мимо автомобиля, начинающего движение после остановки, Вам рекомендуется:

1. Снизить скорость и обеспечить достаточный, безопасный боковой интервал.
2. Продолжать двигаться с той же скоростью, так как вы обладаете преимущественным правом проезда.



Данный дорожный знак обозначает:

1. Оборудованный шлагбаумом железнодорожный переход с одним путем.
2. Необорудованный шлагбаумом железнодорожный переход с одним путем.
3. Оборудованный шлагбаумом железнодорожный переход, с двумя путями и более.
4. Необорудованный шлагбаумом железнодорожный переход, с двумя путями и более.



Кому Вы уступите дорогу при движении прямо?

1. Только легковому автомобилю синего цвета.
2. Только легковому автомобилю красного цвета и грузовому автомобилю.
3. Всем транспортным средствам.
4. Никому.



Разрешается ли Вам движение по данной полосе, управляя легковым автомобилем?

1. Разрешается.
2. Запрещается.
3. Запрещается, если это создаст помехи движению маршрутных транспортных средств.



Кому из водителей разрешается продолжить движение в намеченном направлении в данной ситуации?

1. Водителю маршрутного автобуса.
2. Водителю грузового автомобиля.
3. Обоим водителям.
4. Никому из водителей.



По какой траектории Вам разрешается повернуть налево?

1. Только по траектории I.
2. Только по траектории II.
3. Разрешается по траекториям I и II.
4. По траекториям I и II запрещается.



Первоначальное обучение вождению транспортных средств, проводится:

1. Только на дворовых территориях и в жилых зонах.
2. Только на закрытых площадках или автодромах.
3. Только на дорогах, с малой интенсивностью движения.
4. Только по маршрутам, согласованным с уполномоченным органом.



Разрешается ли Вам совершить обгон грузового автомобиля в данной ситуации?

1. Разрешается.
2. Запрещается, в конце подъема.
3. Разрешается, но только в светлое время суток.



При движении по узкой дороге, с двухсторонним движением, Вам необходимо:

1. Двигаться, как можно левее.
2. Двигаться, как можно правее.
3. Держаться, ближе к центру дороги.



Кому Вы уступите дорогу при повороте налево в данной ситуации?

1. Только автомобилю с включенным проблесковым маячком.
2. Только автобусу.
3. Автобусу и автомобилю с включенным проблесковым маячком.
4. Никому.



Кому Вы уступите дорогу при движении прямо?

1. Только трамваю.
2. Трамваю и легковому автомобилю.
3. Всем транспортным средствам.
4. Никому.



С какой скоростью Вы обязаны двигаться по левой полосе, после проезда данных дорожных знаков, при движении в населенном пункте?

1. Со скоростью не менее 50 км/ч, но не более 60 км/ч.
2. Со скоростью менее 50 км/ч.
3. Рекомендуемая скорость на данном участке 50 км/ч.
4. Со скоростью не более 50 км/ч.



В каких направлениях Вы можете продолжить движение в данной ситуации?

1. Только налево.
2. Прямо и налево.
3. Прямо, налево и в обратном направлении.
4. Налево и в обратном направлении.



В каких направлениях Вам разрешается продолжить движение в данной ситуации?

1. Во всех направлениях движение разрешается.
2. Во всех направлениях движение запрещается.
3. Только прямо, налево и в обратном направлении.
4. Только прямо или направо.



По каким из указанных траекторий Вам разрешается выполнить разворот?

1. По траектории I.
2. По траектории II.
3. По траекториям I и III.
4. По всем указанным траекториям разрешается.
5. Разворот по всем указанным траекториям запрещается.



В каком из указанных мест Вам разрешается остановка вне населенного пункта?

1. Только I и II.
2. Только II и III.
3. Только II.
4. Во всех указанных местах разрешается.
5. Во всех указанных местах запрещается.



Кому Вы уступите дорогу при движении прямо?

1. Только трамваю.
2. Только грузовому автомобилю.
3. Обоим транспортным средствам.
4. Никому.



Если при движении по дороге с разделительной полосой, на проезжей части Вашего направления появился автомобиль, движущийся навстречу, Вам рекомендуется:

1. Подать звуковой сигнал и двигаться с прежней скоростью.
2. Предугадать траекторию движения встречного автомобиля и увеличить скорость.
3. Принять как можно правее и снизить скорость движения, а при необходимости остановиться.
4. Подать световой сигнал и двигаться с прежней скоростью.



В каком из указанных мест Вам разрешается остановка?

1. Только в указанных местах I и II.
2. Только в указанном месте II.
3. Только в указанных местах II и III.
4. Во всех указанных местах разрешается.



Разрешается ли Вам занять место, в движущейся организованной транспортной колонне?

1. Разрешается.
2. Разрешается, если скорость движущихся в колонне транспортных средств, менее 30 км/ч.
3. Разрешается, не создавая помех транспортным средствам, движущимся в колонне.
4. Запрещается.



На каком из рисунков изображен перекресток?

1. На рисунке I.
2. На рисунке II.
3. На рисунке III.
4. На всех рисунках.



С какой максимальной скоростью Вам разрешается продолжить движение при управлении легковым автомобилем с прицепом на данном участке дороги?

1. 70 км/ч.
2. 80 км/ч.
3. 90 км/ч.
4. 100 км/ч.
5. 110 км/ч.
6. 140 км/ч.



По какой из указанных траекторий Вам разрешается повернуть направо?

1. По траектории I.
2. По траектории II.
3. По обеим траекториям разрешается.
4. По обеим траекториям запрещается.

5

Обязаны ли Вы включать на транспортном средстве габаритные огни при остановке и стоянке в темное время суток, согласно требованиям Правил дорожного движения?

1. Да, на освещенных участках дорог.
2. Да, на неосвещенных участках дорог.
3. Да, в неосвещенных местах для стоянки за пределами дороги.



Разрешается ли Вам продолжить движение по средней полосе после обгона легкового автомобиля белого цвета?

1. Разрешается.
2. Запрещается.



При движении за мотоциклом без бокового зеркала Вам рекомендуется:

1. Увеличить дистанцию.
2. Уменьшить дистанцию.
3. Занять место рядом с мотоциклом, на одной полосе.



Кому Вы уступите дорогу при повороте налево на перекрестке?

1. Только мотоциклу.
2. Только автобусу.
3. Обоим транспортным средствам.
4. Никому.



Водитель, какого автомобиля, двигаясь в намеченном направлении, нарушает Правила в данной ситуации?

1. Только водитель автомобиля синего цвета.
2. Только водитель автомобиля красного цвета.
3. Водители обоих автомобилей нарушают.
4. Водители обоих автомобилей не нарушают.



С какой из сторон Вам разрешается объезд препятствия?

1. С левой стороны.
2. С правой стороны.
3. С обеих сторон разрешается.
4. С обеих сторон запрещается.



Разрешается ли Вам выполнить поворот направо в данной ситуации?

1. Разрешается, уступив дорогу трамваю.
2. Разрешается, не уступая дорогу трамваю.
3. В данной ситуации выполнить поворот направо запрещается.



По каким из указанных траекторий Вам разрешается выполнить разворот?

1. Только по траектории I.
2. Только по траектории II.
3. По траекториям I и III.
4. По всем указанным траекториям разрешается.
5. Разворот по всем указанным траекториям запрещается.



Разрешается ли осуществлять обучение вождению на дорогах общего пользования?

1. Разрешается.
2. Разрешается, только на дорогах с малой интенсивностью движения.
3. Разрешается, только по маршрутам, согласованным с уполномоченным органом.
4. Запрещается.



Разрешается ли Вам выполнить обгон грузового автомобиля в данной ситуации?

1. Разрешается.
2. Разрешается, если обгон будет завершен до перекрестка.
3. Запрещается.



Двигаясь за транспортным средством, выезжающим на главную дорогу, Вам рекомендуется:

1. Уменьшать дистанцию, чтобы осуществить выезд, одновременно с лидером.
2. Обогнать, если он движется очень медленно.
3. Быть готовым к тому, что движущийся впереди автомобиль, может остановиться.



Кто из водителей не нарушает правила стоянки в данной ситуации?

1. Только водитель грузового автомобиля.
2. Водители мотоцикла и легкового автомобиля.
3. Все водители нарушают.
4. Никто из водителей не нарушает.



Водитель, какого автомобиля нарушает правила стоянки?

1. Никто из водителей не нарушает.
2. Оба водителя нарушают.
3. Нарушает только водитель микроавтобуса.
4. Нарушает только водитель легкового автомобиля.



Ваши действия, при движении прямо.

1. Уступите дорогу только трамваю.
2. Уступите дорогу трамваю и автомобилю.
3. Проедете перекресток первым.



В каких из указанных случаев, водитель обязан предоставить свое транспортное средство сотрудникам органов внутренних дел?

1. При проведении антитеррористической операции с возмещением затрат.
2. Для транспортировки транспортных средств поврежденных при дорожно-транспортных происшествиях.
3. Для проезда к месту стихийного бедствия.
4. Для транспортировки граждан, нуждающихся в срочной медицинской помощи в лечебные учреждения.
5. Во всех перечисленных случаях.



«Остановка» это:

1. Прекращение движения транспортного средства, обусловленное организацией дорожного движения.
2. Преднамеренное прекращение движения транспортного средства, на время до 5 минут либо на большее время, если это необходимо для посадки или высадки пассажиров, загрузки или разгрузки транспортного средства.
3. Прекращение движения транспортного средства, связанное с состоянием водителя (пассажира) или появлением препятствия на дороге.



О чем информируют Вас данные дорожные знаки?

1. Обозначают опасный участок, протяженностью 150 метров, где возможно появление пешеходов на проезжей части.
2. Информировать о пешеходном переходе, через 150 метров.
3. Обозначают опасный участок, протяженностью 150 метров, где возможно появление слепых пешеходов.



Если автомобиль движется на очень малой дистанции позади Вас, Вам рекомендуется:

1. Подать звуковой сигнал и чаще смотреть в зеркало заднего вида.
2. Несколько раз нажать на педаль тормоза.
3. Плавно снизить скорость, для того, чтобы водитель, следующего за Вами автомобиля, обогнал Вас.
4. Выехать на обочину дороги.



Нарушает ли водитель грузового автомобиля правила стоянки?

1. Нарушает.
2. Не нарушает.
3. Не нарушает, если его разрешенная максимальная масса менее 3,5 тонн.



В данной ситуации, Вы выполните поворот налево на перекрестке?

1. После проезда легкового автомобиля.
2. После проезда гужевой повозки.
3. Выполните поворот, никому не уступая дорогу.



По каким из указанных траекторий Вам разрешается продолжить движение?

1. По траектории I.
2. По траектории II.
3. По траектории III.
4. По траектории I и III.
5. По траекториям II и III.

2

При остановке и стоянке на неосвещенных участках дорог в темное время суток, на транспортном средстве включаются:

1. Дневные ходовые огни.
2. Габаритные огни.
3. Аварийная световая сигнализация.
4. Ближний свет фар или противотуманные вместо них.
5. Все перечисленное.



Разрешается ли Вам выезд на среднюю полосу движения на данном участке?

1. Запрещается.
2. Разрешается, только для обгона и объезда.
3. Разрешается, только для обгона, объезда, поворота налево или разворота.



Разрешается ли учебная езда на автомагистрали?

1. Разрешается.
2. Разрешается, используя для движения только правую полосу проезжей части.
3. Разрешается, при наличии на автомобиле опознавательного знака «Учебное транспортное средство».
4. Запрещается.



Разрешается ли Вам обгон в данной ситуации, согласно Правил дорожного движения?

1. Разрешается.
2. Разрешается, если обгон будет завершён до перекрёстка.
3. Запрещается.



В каких направлениях Вам разрешается продолжить движение, управляя грузовым автомобилем с разрешенной максимальной массой менее 3,5 тонн?

1. Только прямо.
2. Только налево или направо.
3. Только прямо и направо.
4. В любых направлениях.



Кому Вы уступите дорогу при повороте налево на перекрестке?

1. Только грузовому автомобилю.
2. Только автобусу.
3. Легковому автомобилю и автобусу.
4. Всем транспортным средствам.
5. Никому.



Разрешено ли Вам выполнить поворот направо в данной ситуации?

1. Разрешено, уступив дорогу пешеходам.
2. Нет, так как на этом перекрестке всегда запрещен поворот направо.
3. Да, но только дождавшись включения зеленой стрелки в дополнительной секции светофора.



Разрешается ли Вам стоянка в указанном месте?

1. Разрешается.
2. Запрещается.
3. Разрешается, если Вы проживаете рядом с этим местом.



Сколько полос для движения имеет данная дорога?

1. Одну.
2. Две.
3. Три.
4. Четыре.



Водители, каких транспортных средств должны руководствоваться сигналами данного бело-лунного светофора?

1. Водители трамваев.
2. Водители маршрутных транспортных средств.
3. Водители трамваев, а также других маршрутных транспортных средств, движущихся по выделенной для них полосе.
4. Водители механических транспортных средств.



С какой полосы движения Вам разрешается въезд на участок, где организовано круговое движение?

1. Только с левой полосы.
2. Только с правой полосы.
3. С любой из полос.



Кто из водителей нарушает правила остановки в данный момент?

1. Только водитель легкового автомобиля.
2. Только водитель грузового автомобиля.
3. Оба водителя нарушают.
4. Никто из водителей не нарушает.



По какой из указанной траектории, Вы выполните разворот?

1. По траектории I.
2. По траектории II.
3. По траекториям I или II.



При движении за автомобилем, который обозначен, опознавательным знаком «Учебное транспортное средство», Вам рекомендуется:

1. Снизить скорость и увеличить дистанцию.
2. Увеличить скорость и уменьшить дистанцию.
3. Подать звуковой сигнал, если он создает помехи движению Вашего автомобиля.



Разрешается ли Вам остановка в указанном месте?

1. Разрешается.
2. Запрещается.
3. Запрещается, при видимости дороги менее 100 метров.



При какой из перечисленных неисправностей Вам запрещается управлять транспортным средством в сильный дождь?

1. При не работающих в установленном режиме стеклоочистителях.
2. При неисправных стеклоочистителях ветрового стекла.
3. При неработающих стеклоомывателях.
4. При всех перечисленных неисправностях.



Укажите рисунок, на котором изображен край проезжей части?

1. Рисунок I.
2. Рисунок II.
3. Рисунок III.
4. На всех рисунках.



С какой максимальной скоростью Вам разрешается продолжить движение, после выезда из населенного пункта управления легковым автомобилем в данной ситуации?

1. 70 км/ч.
2. 80 км/ч.
3. 90 км/ч.
4. 100 км/ч.
5. 110 км/ч.
6. 140 км/ч.



С какой скоростью Вам разрешает движение данный дорожный знак после поворота направо?

1. Не более 50 км/ч.
2. Не менее 50 км/ч.
3. Не менее 50 км/ч., но не более 60 км/ч.
4. Не более 60 км/ч.



Какие световые приборы могут быть включены дополнительно к габаритным огням в условиях недостаточной видимости при остановке и стоянке?

1. Фары ближнего света.
2. Противотуманные фары.
3. Противотуманные фары и задние противотуманные фонари.
4. Все вышеперечисленное.



Разрешается ли Вам выполнить обгон мотоцикла, после проезда встречного автомобиля с выездом на крайнюю левую полосу движения?

1. Разрешается.
2. Запрещается.



На каком расстоянии до железнодорожного переезда устанавливаются данные дорожные знаки?

1. Не менее 10 метров.
2. Не менее 50 метров.
3. Не менее 100 метров.
4. Не менее 150 метров.



Кому Вы уступите дорогу при повороте налево?

1. Только легковому автомобилю.
2. Только трамваю.
3. Общим транспортным средствам.
4. Никому.



Разрешается ли Вам остановиться для посадки (высадки) пассажира?

1. Разрешается.
2. Запрещается.
3. Разрешается на время до 5 минут.



Каким транспортным средствам разрешено движение по крайней правой полосе на данном участке дороги?

1. Только автобусам.
2. Только автобусам и троллейбусам, движущимся по установленному маршруту.
3. Только автобусам, имеющим опознавательный знак «Перевозка детей».
4. Любым транспортным средствам.



В каких направлениях Вам разрешен проезд перекрестка в данной ситуации?

1. Только прямо.
2. Только налево.
3. Прямо и направо.
4. Прямо, налево и в обратном направлении.
5. В данной ситуации проезд перекрестка запрещен.



Включите ли Вы световой сигнал правого поворота в данной ситуации?

1. Да.
2. Да, при наличии транспортных средств движущихся сзади.
3. Нет.



Разрешена ли учебная езда на участке дороги обозначенном данным дорожным знаком?

1. Разрешается.
2. Разрешается, используя для движения только правую полосу проезжей части.
3. Разрешается, при наличии на автомобиле опознавательного знака «Учебное транспортное средство».
4. Запрещается.



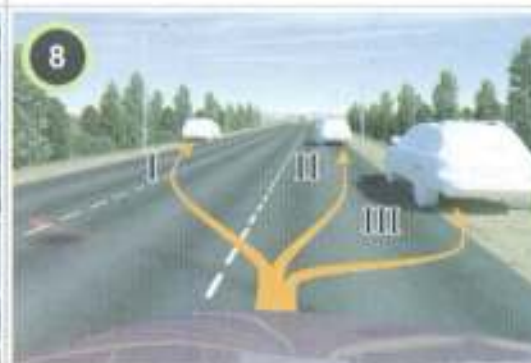
Кто из водителей нарушает Правила при выполнении обгона в данной ситуации?

1. Только водитель мотоцикла.
2. Только водитель легкового автомобиля.
3. Оба водителя нарушают.
4. Оба водителя не нарушают.



Если Вы двигаетесь за автомобилем, выполняющим поворот направо, Вам рекомендуется:

1. Увеличить скорость, так как полоса движения освободится.
2. Наблюдать за обстановкой перед лидирующим автомобилем, чтобы заранее предвидеть возможность его торможения и увеличить дистанцию.
3. Подать звуковой сигнал, если он создает Вам помехи для движения.



В каком из указанных мест Вам разрешается остановка вне населенного пункта?

1. В указанном месте I.
2. В указанном месте II.
3. В указанном месте III.
4. Во всех указанных местах разрешается.
5. Во всех указанных местах запрещается.



Кто из водителей нарушает правила остановки в данный момент?

1. Только водитель легкового автомобиля.
2. Только водитель грузового автомобиля.
3. Оба водителя нарушают.
4. Никто из водителей не нарушает.



При повороте во двор Вы уступите:

1. Только встречному автомобилю.
2. Только пешеходам.
3. Никому.
4. Встречному автомобилю и пешеходам.



Водители, каких транспортных средств не обязаны предоставлять их сотрудникам органов внутренних дел для проезда к месту стихийного бедствия?

1. Транспортных средств, следующих в не попутном направлении.
2. Транспортных средств, водители которых имеют водительский стаж, менее двух лет.
3. Транспортных средств, представителей иностранных государств и международных организаций, обладающих дипломатическим иммунитетом.
4. Водители всех, вышеперечисленных транспортных средств.



«Тротуар» это:

1. Грунтовая или укрепленная покрытием полоса, между бровкой (или бордюром камнем) и краем проезжей части, на одном с ней уровне.
2. Элемент дороги, предназначенный для движения пешеходов, примыкающий к проезжей части или отделенной от нее газоном.
3. Элемент дороги, предназначенный для движения безрельсовых, транспортных средств.



Разрешается ли Вам остановиться для посадки (высадки) пассажира?

1. Разрешается.
2. Запрещается.
3. Разрешается на время до 5 минут.



Нарушает ли водитель грузового автомобиля белого цвета правила стоянки?

1. Нарушает.
2. Не нарушает.
3. Не нарушает, если его разрешенная максимальная масса менее 3,5 тонн.



Что означает красный, в том числе мигающий, круглый сигнал светофора?

1. Запрещает движение.
2. Запрещает движение, кроме поворота направо.
3. Информирует о предстоящем включении зеленого сигнала светофора.



Кому Вы уступите дорогу при движении прямо на данном перекрестке?

1. Только автобусу.
2. Только легковому автомобилю.
3. Общим транспортным средствам.
4. Никому.



По какой из указанных траекторий Вам разрешается повернуть направо?

1. По траектории I.
2. По траектории II.
3. По обеим траекториям разрешается.
4. По обеим траекториям запрещается.



Где Вам запрещается осуществить остановку в данной ситуации?

1. На протяжении 100 метров от места установки данных дорожных знаков, у правого края проезжей части.
2. На протяжении 100 метров от места установки данных дорожных знаков, у левого края проезжей части.
3. На протяжении 100 метров от места установки данных дорожных знаков, у правого и левого края проезжей части.



Какое из указанных расстояний является дистанцией?

1. Расстояние I.
2. Расстояние II.
3. Расстояние III.
4. Расстояние I и III.



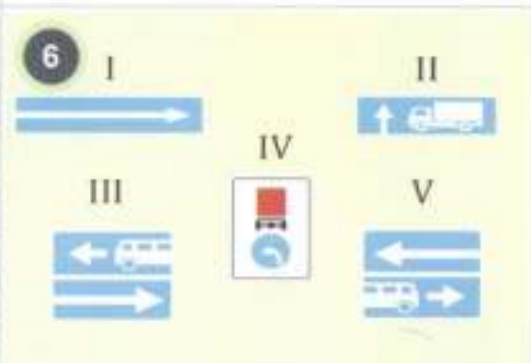
В каком месте Вам запрещается выполнить разворот на данном участке?

1. До железнодорожного переезда.
2. После железнодорожного переезда.
3. На железнодорожном переезде.
4. Во всех перечисленных местах запрещается.
5. Во всех перечисленных местах разрешается.



Кто из водителей нарушает Правила при выполнении обгона в данной ситуации?

1. Только водитель мотоцикла.
2. Только водитель легкового автомобиля.
3. Оба водителя нарушают.
4. Оба водителя не нарушают.



Какие из указанных дорожных знаков, установленные на перекрестке, разрешают движение грузовых автомобилей во всех направлениях?

1. Знаки I и II.
2. Знаки II и IV.
3. Знак V.
4. Все указанные знаки разрешают.
5. Все указанные знаки запрещают.



Кому Вы уступите дорогу при выполнении разворота?

1. Только автобусу.
2. Только легковому автомобилю.
3. Обоим транспортным средствам.
4. Никому.



Уступите ли Вы дорогу автобусу при повороте налево на перекрестке?

1. Да.
2. Нет.



По каким из указанных траекторий Вам разрешается продолжить движение?

1. По траектории I.
2. По траектории II.
3. По траектории III.
4. По траекториям I и II.
5. По траекториям II и III.



Что обозначает данная горизонтальная разметка?

1. Место, где запрещена остановка транспортных средств.
2. Место, где запрещена стоянка транспортных средств.
3. Место остановки маршрутных транспортных средств и стоянки такси.




В каком месте Вы остановитесь при запрещающем сигнале светофора?

1. Перед светофором.
2. Перед стоп - линией.
3. Перед пешеходным переходом.
4. В любом из перечисленных мест.



По какой траектории Вам разрешается выполнить поворот направо?

1. Только по траектории I.
2. Только по траектории II.
3. По траекториям I или II.



В каком из указанных мест Вам разрешается остановиться?

1. В указанном месте I.
2. В указанном месте II.
3. В обоих указанных местах.
4. Ни в одном из указанных мест.



Уступите ли Вы дорогу автомобилю выполняющему разворот?

1. Да.
2. Нет.



Если водитель обгоняющего Вас автомобиля испытывает затруднения при завершении обгона, из-за малой дистанции между Вашим и движущимся впереди автомобилем, Вам рекомендуется:

1. Снизить скорость и увеличить дистанцию до впереди идущего автомобиля.
2. Увеличить скорость и уменьшить дистанцию.
3. Выехать на обочину.



Разрешено ли Вам совершить стоянку на обочине, если ее ширина достаточна для съезда с проезжей части?

1. Разрешено.
2. Запрещено.
3. Разрешено, но только в светлое время суток.



1
Разрешается ли Вам подъехать к дому расположенному за перекрестком?

1. Да, если Вы проживаете в этом доме.
2. Да, но только с противоположного направления.
3. Да, но только включив аварийную световую сигнализацию.



2
О чем предупреждает Вас увеличение длины штриха прерывистой линии разметки справа?

1. О приближении к полосе торможения.
2. О приближении к сплошной линии разметки.
3. О приближении к сужению дороги.



3
В каких направлениях Вам разрешается продолжить движение в данной ситуации?

1. Только прямо.
2. Только направо.
3. Прямо или направо.
4. Во всех направлениях запрещается движение.



4
По каким траекториям Вам разрешено выполнить поворот направо?

1. Только по траектории I.
2. Только по траектории II.
3. По любой траектории.



5
Если учебная езда осуществляется на дорогах, разрешается ли находиться пассажирам в механическом транспортном средстве?

1. Разрешается.
2. Разрешается, но не более одного пассажира.
3. Запрещается.
4. Правила данную ситуацию не регламентируют.



6
О чем предупреждают Вас данный дорожный знак?

1. О приближении к железнодорожному переходу без шлагбаума.
2. О приближении к железнодорожному вокзалу.
3. О приближении к месту пересечения с трамвайной линией.



7
При управлении автомобилем, необходимо, наблюдать за всем, что происходит:

1. Спереди Вашего автомобиля.
2. Сзади Вашего автомобиля.
3. Справа и слева от Вашего автомобиля.
4. Вокруг Вашего автомобиля.



8
Разрешается ли Вам остановка под мостом (путепроводом)?

1. Разрешается.
2. Разрешается, но только с частичным заездом на тротуар.
3. Запрещается.
4. Запрещается, если для движения в данном направлении менее трех полос.



1

В каком из указанных мест Вам разрешается произвести остановку?

1. Во всех указанных местах.
2. В местах I и II.
3. В местах II и III.
4. Во всех указанных местах, произвести остановку запрещается.



2

При движении прямо Вы:

1. Уступите дорогу автобусу.
2. Проведете перекресток первым.
3. Уступите дорогу автобусу, если он является маршрутным транспортным средством.



3

В соответствии с ПДД, разрешается ли водителю, имеющему доверенность на право распоряжения ТС, эксплуатировать ТС, владелец которого, в установленных законодательством случаях не заключил договор обязательного страхования ответственности владельцев ТС?

1. Разрешается.
2. Запрещается.
3. Разрешается, если он застраховал свою гражданско-правовую ответственность.



4

«Препятствие для движения» это:

1. Затвор или транспортное средство, остановившееся на этой полосе движения, в соответствии с требованиями Правил.
2. Внезапное изменение в дорожном движении, угрожающее его безопасности и требующее изменения скорости и (или) маневрирования транспортного средства.
3. Неподвижный объект на полосе движения, не позволяющий продолжить движение по этой полосе.



5

По какой траектории Вам разрешено продолжить движение в данной ситуации?

1. Только по траектории I.
2. Только по траекториям I или III.
3. По всем траекториям.



6

С увеличением скорости движения, поле зрения водителя:

1. Расширяется.
2. Сужается.
3. Не изменяется.



7

Кому Вы уступите дорогу при въезде во двор?

1. Только пешеходам.
2. Только велосипедисту.
3. Пешеходам и велосипедисту.
4. Никому.



8

Кому Вы уступите дорогу при повороте налево?

1. Только легковому автомобилю.
2. Только легковому автомобилю и автобусу.
3. Всем транспортным средствам.
4. Никому.



Разрешается ли Вам поставить автомобиль на стоянку в указанном месте по нечетным числам месяца?

1. Запрещается.
2. Разрешается.
3. Разрешается, только с 19.00 до 21.00 ч.



Какие из указанных дорожных знаков повторяются при установке вне населенных пунктов?

1. Знаки I и II.
2. Знаки II и III.
3. Знаки III и IV.
4. Знаки IV и V.



Разрешается ли Вам продолжить движение по трамвайным путям в данной ситуации?

1. Разрешается.
2. Запрещается.
3. Разрешается, только для поворота налево или разворота.



В каком направлении Вам разрешено продолжить движение на перекрестке?

1. Только налево.
2. Направо и налево.
3. Налево и в обратном направлении.
4. В любом направлении.



Разрешается ли Вам выполнить обгон легкового автомобиля в данной ситуации?

1. Разрешается.
2. Разрешается, но только в населенном пункте.
3. Запрещается.



При управлении автомобилем необходимо:

1. Давать отдых своим глазам, периодически закрывать их на короткое время.
2. Не смотреть на один и тот же объект больше, чем 1 – 2 с.
3. Смотреть вперед строго по центру дороги и не обращать внимания на обстановку, по обеим сторонам дороги.
4. Смотреть в зеркало заднего вида столько же, сколько вы смотрите за обстановкой впереди.



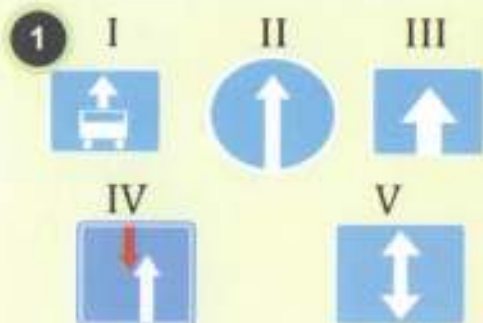
Кому Вы уступите дорогу при повороте налево?

1. Уступите дорогу обоим транспортным средствам.
2. Уступите дорогу, только легковому автомобилю.
3. Уступите дорогу, только автомобилю с включенным проблесковым маячком.
4. Никому не уступите дорогу.



Уступите ли Вы дорогу легковому автомобилю слева при проезде перекрестка в прямом направлении?

1. Да.
2. Нет.



Какой дорожный знак обозначает начало дороги с односторонним движением?

1. Только знак I.
2. Только знак II.
3. Только III.
4. Только IV.
5. Только V.
6. Все указанные знаки.



В каком месте Вы выполните требования знака 2.5 «Движение без остановки запрещено»?

1. Перед надписью «Стоп».
2. Перед стоп - линией.
3. Перед дорожным знаком.



Кто из водителей нарушает Правила, в данной ситуации?

1. Водитель легкового автомобиля.
2. Водитель грузового автомобиля.
3. Оба водителя нарушают.
4. Оба водителя не нарушают.



Разрешается ли Вам выполнить разворот на мосту?

1. Разрешается, при отсутствии встречных транспортных средств.
2. Разрешается, только при видимости дороги более 100 метров.
3. Запрещается.



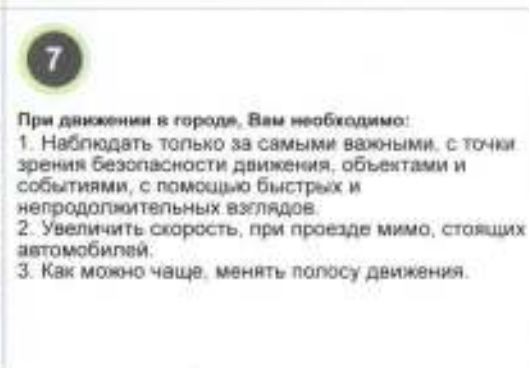
Где Вам разрешается стоянка в целях длительного отдыха, в данной ситуации?

1. На обочине, от места установки первого по ходу движения дорожного знака, до следующего.
2. Разрешается, через 500 метров на предусмотренной для этого площадке.
3. В любом из перечисленных выше мест.



Кому Вы уступите дорогу, двигаясь через перекресток в прямом направлении при постоянно мигающем желтом сигнале светофора?

1. Общим транспортным средствам.
2. Только трамваю.
3. Только легковому автомобилю.
4. Никому.



При движении в городе, Вам необходимо:

1. Наблюдать только за самыми важными, с точки зрения безопасности движения, объектами и событиями, с помощью быстрых и непродолжительных взглядов.
2. Увеличить скорость, при проезде мимо, стоящих автомобилей.
3. Как можно чаще, менять полосу движения.



Разрешается ли Вам стоянка под мостом (путепроводом)?

1. Разрешается.
2. Разрешается, но только с частичным заездом на тротуар.
3. Запрещается.
4. Запрещается, если для движения в данном направлении менее трех полос.

1

Водителю запрещается управление транспортным средством, если:

1. Нарушена герметичность гидравлического тормозного привода.
2. Не действует рабочая тормозная система.
3. Неисправна стояночная тормозная система.
4. Имеются все перечисленные неисправности.

2

«Разрешенная максимальная масса» это:

1. Масса транспортного средства без экипажа, пассажира и груза, но с полным запасом топлива и необходимым комплектом инструментов.
2. Масса груженого транспортного средства, экипажа и пассажира.
3. Масса снаряженного транспортного средства с грузом, водителем и пассажирами, установленная предприятием-изготовителем в качестве максимально допустимой.

3



Кто из водителей не нарушает правила остановки в данной ситуации?

1. Водитель мотоцикла.
2. Водитель автобуса.
3. Водитель автомобиля зеленого цвета, если примет меры, чтобы вывести транспортное средство правее.
4. Все водители не нарушают.
5. Все водители нарушают.

4



По каким траекториям Вам разрешается продолжить движение на перекрестке?

1. Только по траектории I и II.
2. Только по траекториям II и III.
3. Только по траекториям III и IV.
4. По всем указанным траекториям.

5

На транспортных средствах, каких категорий контуры боковых и задних сторон маркируются световозвращающим материалом?

1. M2, M3.
2. N2, N3.
3. O2, O3, O4.
4. Всех выше перечисленных.

6



Разрешается ли Вам продолжить движение по трамвайным путям попутного направления в данной ситуации?

1. Разрешается.
2. Запрещается.
3. Разрешается, только для поворота налево или разворота.

7

Для того, чтобы безопасно совершить правый поворот, Вам необходимо:

1. Увеличить радиус поворота.
2. Уменьшить радиус поворота.

8



Ваши действия при въезде на перекресток, согласно Правил дорожного движения:

1. При въезде на перекресток, должны уступить дорогу приближающемуся слева легковому автомобилю серого цвета.
2. При въезде на перекресток, не должны уступать дорогу, приближающемуся слева легковому автомобилю серого цвета.



Какие из указанных знаков запрещают Вам управлять транспортным средством со скоростью 30км/ч?

1. Знак I.
2. Знак II.
3. Знак III.
4. Знак IV.
5. Знаки I и II.
6. Знаки III и IV.



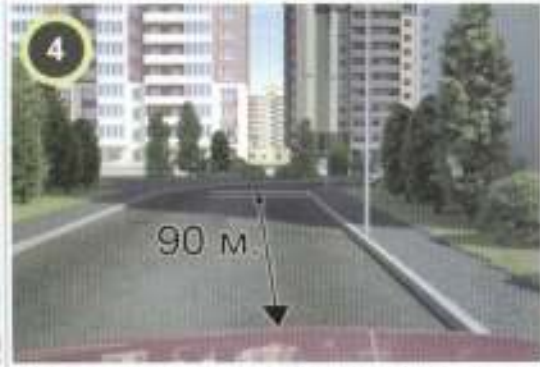
Разрешается ли Вам выполнить разворот в данной ситуации?

1. Разрешается.
2. Запрещается.



Уступите ли Вы дорогу трамваю при движении прямо?

1. Да.
2. Нет.
3. В данной ситуации движение прямо запрещено.



Разрешается ли Вам выполнить разворот на данном участке?

1. Разрешается.
2. Запрещается.



Данный дорожный знак требует от Вас:

1. Двигаться со скоростью только 50 км/ч.
2. Двигаться со скоростью более 50 км/ч.
3. Двигаться со скоростью не более 50 км/ч.



Разрешается ли Вам выполнить обгон грузового автомобиля с правой стороны в данной ситуации?

1. Разрешается.
2. Запрещается.
3. Разрешается, но с последующим возвращением на ранее занимаемую полосу.



При приближении к Вам автомобиля сзади, Вам рекомендуется:

1. Чаще смотреть в зеркало заднего вида.
2. Включить габаритные огни.
3. Увеличить скорость движения.



В каком из указанных мест разрешается остановка?

1. Только в указанном месте I.
2. Только в указанном месте II.
3. В обоих указанных местах разрешается.
4. В обоих указанных местах запрещается.



1
Кто из указанных водителей правильно выполнил остановку вне населенного пункта?

1. Только водитель I.
2. Только водитель II.
3. Только водитель III.
4. Все, указанные водители правильно выполнили остановку.
5. Все, указанные водители неправильно выполнили остановку.



2
Уступите ли Вы дорогу трамваю при движении прямо?

1. Да.
2. Нет.



3
Водителю запрещается управление транспортным средством, если:

1. Неисправен или отсутствует предусмотренный конструкцией усилитель рулевого управления.
2. Суммарный люфт в рулевом управлении превышает допустимые значения.
3. Не действует рулевое управление.
4. Имеются все перечисленные неисправности.



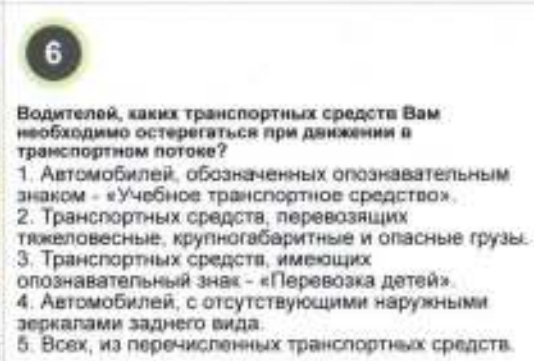
4
«Разделительная полоса» это:

1. Продольная полоса проезжей части, имеющая ширину, достаточную для движения транспортного средства в один ряд.
2. Конструктивно выделенный элемент дороги, разделяющий смежные проезжие части дороги и не предназначенный для движения или остановки безрельсовых транспортных средств и пешеходов, за исключением вынужденной остановки пешеходов при пересечении дороги вне населенного пункта.
3. Участок земли, с искусственным травяным покровом, являющийся фоном для посадок растений и парковых сооружений.



5
О чем информируют Вас данные дорожные знаки?

1. Остановка разрешена только на проезжей части.
2. Съезд на обочину опасен, в связи с проведением дорожных работ.
3. Остановка транспортного средства на обочине запрещена.



6
Водителей, каких транспортных средств Вам необходимо остерегаться при движении в транспортном потоке?

1. Автомобилей, обозначенных опознавательным знаком - «Учебное транспортное средство».
2. Транспортных средств, перевозящих тяжеловесные, крупногабаритные и опасные грузы.
3. Транспортных средств, имеющих опознавательный знак - «Перевозка детей».
4. Автомобилей, с отсутствующими наружными зеркалами заднего вида.
5. Всех, из перечисленных транспортных средств.



7
При движении по дороге в прямом направлении, Вам следует, располагать свой автомобиль:

1. В левой части, выбранной полосы движения.
2. В правой части, выбранной полосы движения.
3. Посередине, выбранной полосы движения.
4. Между двух полос движения.



8
Нарушает ли водитель легкового автомобиля красного цвета правила стоянки?

1. Нарушает.
2. Не нарушает.
3. Не нарушает, если это не препятствует движению пешеходов.



Уступите ли Вы дорогу автобусу, начинающему движение от остановочного пункта при движении вне населенного пункта?

1. Да.
2. Нет.
3. Да, если это маршрутное транспортное средство.

2

В условиях недостаточной видимости, противотуманные фары могут использоваться:

1. Отдельно от ближнего или дальнего света фар.
2. Совместно с ближним или дальним светом фар.
3. Как отдельно, так и с ближним или дальним светом фар.



Разрешается ли Вам обгон автомобиля синего цвета в данной ситуации?

1. Разрешается.
2. Запрещается.
3. Разрешается, если его скорость менее 30 км/ч.
4. Разрешается, если его скорость 30 км/ч.



Разрешается ли Вам производить буксировку механического транспортного средства на данном участке дороги?

1. Разрешается.
2. Запрещается.
3. Разрешается, не далее второй полосы.



На каком расстоянии до начала опасного поворота устанавливается этот дорожный знак в населенном пункте?

1. 50-100 метров.
2. 150-300 метров.
3. Непосредственно перед опасным поворотом.

6

При движении по многополосной дороге необходимо:

1. Постоянно менять полосу движения, чтобы двигаться с большей скоростью.
2. Постоянно наблюдать за транспортными средствами, движущимися по соседним полосам.
3. Выполнять перестроение, без включения предупредительных сигналов.



Кому Вы уступите дорогу при движении прямо на перекрестке?

1. Только трамваю.
2. Только грузовому автомобилю.
3. Всем транспортным средствам.
4. Никому.



В данной ситуации водитель автомобиля, зеленого цвета намереваящийся продолжить движение прямо:

1. Должен повернуть направо.
2. Может перестроиться на соседнюю полосу движения.
3. Продолжит движение прямо.
4. Продолжит движение прямо с этой полосы, дождавшись разрешающего сигнала светофора.



Какой дорожный знак указывает место, с которого на данной дороге утрачивают силу требования Правил, устанавливающие порядок движения в населенных пунктах?

1. Знак I.
2. Знак II.
3. Знак III.
4. Знак IV.
5. Знак V.



Какие из указанных дорожных знаков, информируют Вас о начале дороги с реверсивным движением?

1. Знак I.
2. Знак II.
3. Знак III.
4. Знак IV.



Разрешается ли Вам выполнить поворот налево в данной ситуации?

1. Разрешается.
2. Разрешается, уступив дорогу встречному автомобилю.
3. Запрещается.



В каких направлениях Вам разрешается продолжить движение, находясь на средней полосе движения?

1. Только прямо, налево или в обратном направлении.
2. Только прямо или налево.
3. Только прямо.



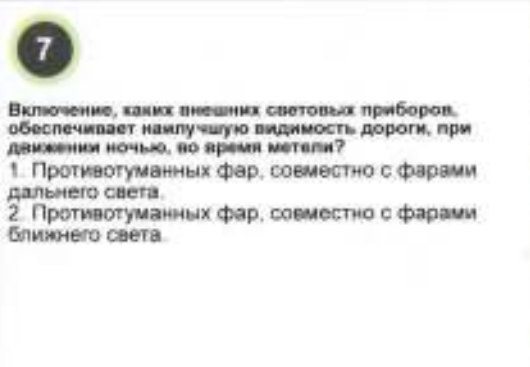
Разрешается ли Вам остановка на перекрестке?

1. Разрешается.
2. Запрещается.



Ваши действия при повороте налево?

1. Уступите дорогу мотоциклу.
2. Проедете перекресток первым.



Включение, каких внешних световых приборов, обеспечивает наилучшую видимость дороги, при движении ночью, во время метели?

1. Противотуманных фар, совместно с фарами дальнего света.
2. Противотуманных фар, совместно с фарами ближнего света.



По какой траектории Вам разрешается подъехать для посадки пассажиров на данном участке дороги?

1. Только по траектории I.
2. Только по траектории II.
3. По обеим траекториям разрешается.
4. По обеим траекториям запрещается.

1

Водителю запрещается управление транспортным средством, если:

1. Отсутствуют предусмотренные конструкцией, заднее защитное устройство, грязезащитные фартуки и брызговики.
2. Не работает или установлен звуковой сигнал, с изменяющейся основной частотой.
3. Неисправно сцепное устройство (в составе поезда).
4. Имеются все перечисленные неисправности.

2

«Водитель» это:

1. Лицо, находящееся на (в) транспортном средстве и не управляющее им.
2. Физические лица, передвигающиеся в креслах-колясках для инвалидов, ведущие велосипед, мопед, мотоцикл.
3. Лицо, управляющее транспортным средством, погонщик, ведущий по дороге скот, стадо, вьючных, упряженных или верховых животных.



Разрешается ли Вам осуществлять буксировку механического транспортного средства на автомагистрали?

1. Разрешается.
2. Разрешается, но только в светлое время суток.
3. Запрещается.

4



В данной ситуации приближаясь к остановившемуся транспортному средству, Вы:

1. Продолжите движение с соблюдением мер предосторожности.
2. Снизите скорость, при необходимости остановитесь и пропустите детей.
3. Продолжите движение, включив световой указатель левого поворота и подав звуковой сигнал.

5

В темное время суток на неосвещенных участках дорог, противотуманные фары могут использоваться:

1. Отдельно от ближнего или дальнего света фар.
2. Совместно с ближним или дальним светом фар.
3. Как отдельно, так и с ближним или дальним светом фар.



Требует ли от Вас данный дорожный знак обязательной остановки в данной ситуации?

1. Да.
2. Нет, так как знак дает нам преимущество перед встречным движением.
3. Нет, если транспортные средства могут свободно разъехаться.

7

Как Вы должны действовать, если на повороте возник занос задней оси, переднеприводного автомобиля?

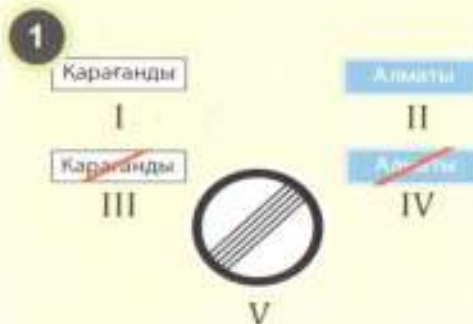
1. Уменьшить подачу топлива, рулевым колесом стабилизировать движение.
2. Притормозить и повернуть рулевое колесо в сторону заноса.
3. Значительно увеличить подачу топлива, положение рулевого колеса не менять.
4. Слегка увеличить подачу топлива, корректировать направление движения рулевым колесом.

8



В какой последовательности проедут перекресток транспортные средства, в данной ситуации?

1. Трамвай, грузовой автомобиль и легковой автомобиль.
2. Трамвай, легковой автомобиль и грузовой автомобиль.
3. Грузовой автомобиль, трамвай и легковой автомобиль.
4. Легковой автомобиль, трамвай и грузовой автомобиль.



Какой дорожный знак указывает место, с которого на данной дороге вступает в силу требование Правил, устанавливающее порядок движения в населенных пунктах?

1. Знак I.
2. Знак II.
3. Знак III.
4. Знак IV.
5. Знак V.



Разрешается ли Вам выполнить обгон автобуса, в данной ситуации?

1. Разрешается.
2. Разрешается, если скорость автобуса менее 30км/ч.
3. Разрешается, если скорость автобуса 30км/ч.
4. Запрещается.



Кому из транспортных средств разрешено продолжить движение в данной ситуации?

1. Только трамваям.
2. Только трамваю II и водителю мотоцикла.
3. Всем транспортным средствам.
4. Никому.



В каких направлениях Вам разрешается продолжить движение, находясь на средней полосе движения?

1. Только прямо, налево или в обратном направлении.
2. Только прямо или налево.
3. Только прямо.



Какое количество предупредительных устройств устанавливается на гибкой сцепке при буксировке механического транспортного средства?

1. Ни одного.
2. Не менее одного.
3. Не менее двух.
4. Не менее трех.



Ваши действия в данной ситуации?

1. Уступите дорогу автобусу.
2. Проедете, первым не уступая дорогу автобусу.



При движении ночью Вам не рекомендуется:

1. Внимательно наблюдать за любыми темными или неясными предметами, находящимися на дороге.
2. Наблюдать за дорогой не только в области, освещенной фарами Вашего автомобиля, но и за ее пределами.
3. Включить свет в салоне автомобиля, чтобы дать глазам отдохнуть.



Разрешается ли Вам остановка на перекрестке в данной ситуации?

1. Разрешается.
2. Разрешается, если расстояние до линии разметки более 3 метров.
3. Запрещается.



Разрешена ли Вам остановка в данном месте, где расстояние до сплошной линии разметки слева, более 3-х метров?

1. Разрешена
2. Запрещена
3. Запрещена, если Вы создаете помехи движению транспортных средств.



Ваши действия при включении зеленого сигнала светофора?

1. Начнете движение, не уступая дорогу легковому автомобилю.
2. Уступите дорогу легковому автомобилю завершающему разворот.

3

Водителю запрещается управление транспортным средством, во время дождя или снегопада, если:

1. Не работают предусмотренные конструкцией транспортного средства стеклоомыватели.
2. Неисправны стеклоочистители ветрового стекла.
3. Не работают, в установленном режиме стеклоочистители.
4. Имеются все перечисленные неисправности.

4

«Обочина» это:

1. Грунтовая или укрепленная покрытием полоса, между бровкой (или бордюром камнем) и краем проезжей части на одном с ней уровне.
2. Элемент дороги, предназначенный для движения пешеходов, примыкающий к проезжей части или отделенной от нее газоном.
3. Элемент дороги, предназначенный для движения безрельсовых транспортных средств.



В зоне действия, каких дорожных знаков Правила разрешают Вам, подачу звуковых сигналов только для предотвращения дорожного - транспортного происшествия?

1. Только знака I.
2. Только знака II.
3. Только знака III.
4. Знаков I и II.
5. Знаков I и III.

6

Если, встречное транспортное средство движется с дальним светом фар, Вам рекомендуется:

1. Увеличить скорость и постараться, скорее, проехать мимо него.
2. Включить дальний свет фар.
3. Посмотреть на фары встречного автомобиля.
4. Перевести взгляд вправо, ориентируясь на край проезжей части.

7

В каком случае, легковой автомобиль более устойчив против опрокидывания на повороте?

1. Без груза и пассажиров.
2. С пассажирами, но без груза.
3. Без пассажиров, но с грузом на верхнем багажнике.

8



Кому Вы уступите дорогу при повороте налево?

1. Только трамваям I и II.
2. Только трамваю II и легковому автомобилю.
3. Только трамваю I.
4. Всем транспортным средствам.
5. Никому.



1

Разрешается ли находиться пассажирам в кабине буксирующего автомобиля при буксировке?

1. Разрешается.
2. Разрешается, только при буксировке на жесткой сцепке.
3. Разрешается, только при буксировке на гибкой сцепке.
4. Запрещается.



2

Какие внешние световые приборы включаются в светлое время суток на всех движущихся транспортных средствах с целью их обозначения?

1. Дневные ходовые огни.
2. Фары ближнего света.
3. Противотуманные фары.
4. Любые из вышеперечисленных, световых приборов.



3

По какой из полос движения Вам разрешается продолжить движение, после проезда данного дорожного знака?

1. По левой полосе.
2. По средней полосе.
3. Ближе к правому краю проезжей части.
4. По любой из полос.



4

Табличка под знаком 3.20 «Обгон запрещен» указывает:

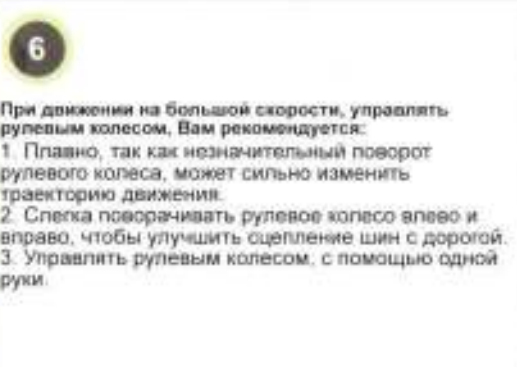
1. Расстояние от знака до начала его действия.
2. Зону действия данного запрещающего знака.



5

Когда Вы можете приступить к выполнению обгона грузового автомобиля движущегося со скоростью 40 км/ч. в данной ситуации?

1. После проезда первого перекрестка.
2. Через 500 метров.
3. На расстоянии не более 500 метров за знаком.



6

При движении на большой скорости, управлять рулевым колесом, Вам рекомендуется:

1. Плавно, так как незначительный поворот рулевого колеса, может сильно изменить траекторию движения.
2. Слегка поворачивать рулевое колесо влево и вправо, чтобы улучшить сцепление шин с дорогой.
3. Управлять рулевым колесом, с помощью одной руки.



7

Кому Вы уступите дорогу при повороте налево?

1. Только грузовому автомобилю.
2. Только легковому автомобилю.
3. Никому.
4. Общим транспортным средствам.



8

Уступите ли Вы дорогу легковому автомобилю при выполнении разворота на данном перекрестке?

1. Да.
2. Нет.



Какой из указанных дорожных знаков требует от Вас движения с определенной минимальной дистанцией?

1. Знак I.
2. Знак II.
3. Знак III.
4. Все указанные знаки.



Какой из указанных дорожных знаков называется «Движение без остановки запрещено»?

1. Знак I.
2. Знак II.
3. Знак III.
4. Знак IV.



Ваши действия при повороте направо, согласно Правилам дорожного движения?

1. Выполните поворот, уступив дорогу легковому автомобилю.
2. Выполните поворот первым, не уступая дорогу легковому автомобилю.
3. Остановитесь, так как поворот направо запрещен.



Обязаны ли Вы уступить дорогу водителю автомобиля, который намерен перестроиться на Вашу полосу движения?

1. Да.
2. Нет.



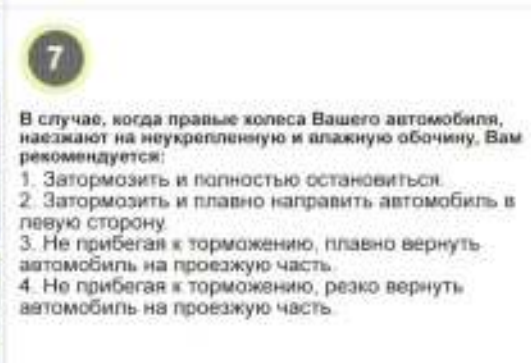
Разрешена ли Вам остановка в данном месте, где расстояние до сплошной линии разметки слева, более 3-х метров?

1. Разрешена.
2. Запрещена.
3. Запрещена, если Вы создаете помехи движению транспортных средств.



Кому Вы уступите дорогу при повороте налево?

1. Только грузовому автомобилю.
2. Только легковому автомобилю.
3. Общим транспортным средствам.
4. Никому.



В случае, когда правые колеса Вашего автомобиля, наезжают на неукрепленную и влажную обочину, Вам рекомендуется:

1. Затормозить и полностью остановиться.
2. Затормозить и плавно направить автомобиль в левую сторону.
3. Не прибегая к торможению, плавно вернуть автомобиль на проезжую часть.
4. Не прибегая к торможению, резко вернуть автомобиль на проезжую часть.



В каких случаях включается опознавательный знак «Автопоезд» во время остановки или стоянки?

1. Только в темное время суток и в условиях недостаточной видимости.
2. Только в светлое время суток и в условиях недостаточной видимости.
3. Включается в обоих случаях.

1

Водителю запрещается управление транспортным средством в темное время суток на дорогах без искусственного освещения или в условиях недостаточной видимости, если:

1. Не горят (отсутствуют) фары и (или) задние габаритные огни.
2. Регулировка фар не соответствует требованиям.
3. На световых приборах отсутствуют рассеиватели, либо используются рассеиватели и лампы, не соответствующие типу данного светового прибора.
4. Имеются все перечисленные неисправности.



Данные дорожные знаки обозначают место стоянки, где:

1. Стоянка разрешается только с работающим двигателем.
2. Стоянка разрешается только с неработающим двигателем.
3. Стоянка разрешается транспортным средствам, у которых содержание вредных веществ в отработанных газах не превышает установленной нормы.

3



Водитель, какого из указанных автомобилей нарушил правила стоянки в данной ситуации?

1. Водители автомобилей I и II.
2. Водители автомобилей II и III.
3. Водители автомобилей I и III.
4. Водители всех автомобилей нарушили.
5. Водители всех автомобилей не нарушили.

4



По какой из указанных траекторий Вам разрешен въезд во двор.

1. По траектории I.
2. По траектории II.
3. Разрешено по обеим траекториям.
4. Запрещено по обеим траекториям.

5

На каких транспортных средствах с целью их обозначения включаются фары ближнего света или дневные ходовые огни в светлое время суток?

1. На движущихся в населенном пункте.
2. На движущихся вне населенных пунктов.
3. На всех движущихся транспортных средствах.



По какой из полос данного направления Вы продолжите движение после опережения автобуса, в населенном пункте?

1. По левой полосе.
2. По правой полосе.
3. По любой из полос движения.

7

Чем вызывается, перемещение вперед пассажиров или неукрепленного груза при движении автомобиля?

1. Резким ускорением автомобиля.
2. Резким замедлением автомобиля.
3. Резким ускорением и резким замедлением движения автомобиля.

8



Кому Вы уступите дорогу при повороте направо в данной ситуации?

1. Только пешеходу.
2. Только велосипедисту.
3. Пешеходу и велосипедисту.
4. Никому.



О чем информируют Вас данные дорожные знаки?

1. Предупреждают о приближении к железнодорожному переходу без шлагбаума с двумя и более путями.
2. Предупреждает о приближении к железнодорожному переходу без шлагбаума, расстояние до которого 150-300 метров.
3. Предупреждает о приближении к железнодорожному переходу без шлагбаума, расстояние до которого 50-100 метров.



Разрешается ли Вам осуществить посадку (высадку) пассажира, либо загрузку (разгрузку) транспортного средства в зоне действия данного дорожного знака?

1. Разрешается.
2. Запрещается.
3. Разрешается на время до 5 минут.



Требование об остановке транспортного средства подается:

1. С помощью громкоговорящего устройства.
2. Жестом руки, направленным на транспортное средство.
3. Жезлом, направленным на транспортное средство с одновременным сигналом свистка.
4. Пункты 1 и 2.
5. Пункты 1, 2 и 3.



По какой траектории Вам разрешается выполнить поворот налево?

1. Только по траектории I.
2. Только по траектории II.
3. По траекториям I или II.



Какое расстояние обеспечивается между буксирующим и буксируемым транспортным средством, при буксировке на жесткой сцепке?

1. Не более 3 метров.
2. Не более 4 метров.
3. Не более 5 метров.
4. Не более 6 метров.



Разрешается ли водителю легкового автомобиля выполнить обгон в данной ситуации?

1. Разрешается только после проезда перекрестка.
2. Запрещается.
3. Разрешается.



Разрешена ли водителю грузового автомобиля стоянка на краю тротуара, с частичным заездом на него в данной ситуации?

1. Разрешена.
2. Разрешена, если разрешенная максимальная масса менее 3,5 тонн.
3. Запрещена.



Разрешается ли Вам остановка на перекрестке в данной ситуации?

1. Разрешается.
2. Разрешается, если это не создает помехи движению транспортных средств.
3. Запрещается.



Водитель, какого автомобиля правильно остановился для высадки пассажиров в данной ситуации?

1. Водитель автомобиля красного цвета.
2. Водитель автомобиля зеленого цвета.
3. Водители автомобилей желтого и зеленого цветов.
4. Водители автомобилей зеленого и красного цветов.
5. Водители всех автомобилей правильно остановились.
6. Водители всех автомобилей неправильно остановились.



Кому Вы уступите дорогу при повороте налево?

1. Только грузовому автомобилю.
2. Только легковому автомобилю.
3. Обои транспортным средствам.
4. Никому.



Рабочая тормозная система считается "недействующей", если:

1. Нарушена герметичность гидравлического тормозного привода.
2. Эффективность рабочей тормозной системы не соответствует нормам.
3. Не позволяет остановить транспортное средство при движении с минимальной скоростью.
4. Имеются все перечисленные неисправности.




«Маневрирование» это:

1. Ситуация, возникшая в процессе дорожного движения, при которой продолжение движения в том же направлении и с той же скоростью, создает угрозу возникновения дорожно-транспортного происшествия.
2. Начало движения от остановки (стоянки), остановка, поворот (разворот), перестроение, торможение и движение транспортного средства задним ходом.
3. Комплекс организационно-правовых, нормативно-методических, проектно-испытательных, организационно-технических, контрольно-надзорных, распорядительных и других мероприятий по управлению дорожным движением.



Разрешается ли водителю легкового автомобиля движение задним ходом на данном участке?

1. Разрешается.
2. Запрещается.
3. Разрешается, но только в светлое время суток.



При движении в условиях тумана, расстояние до предметов представляется:

1. Большим, чем в действительности.
2. Меньшим, чем в действительности.
3. Соответствующим действительности.



Действие сильного бокового ветра на Ваш автомобиль, наиболее опасно, при:

1. Движении по открытому участку дороги.
2. Движении по участку дороги, закрытому деревьями с одной стороны.
3. Выезде с закрытого участка дороги, на открытый участок.



Уступите ли Вы дорогу трамваю при движении прямо?

1. Да.
2. Нет.



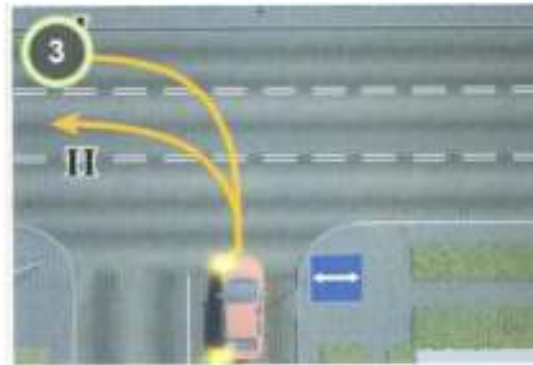
1
Разрешается ли Вам осуществить посадку пассажира в данной ситуации?

1. Разрешается.
2. Запрещается.
3. Да, но если это не создаст помех движению маршрутных транспортных средств.

2

В каких случаях разрешена установка фары-прожектора и фары-искателя на транспортном средстве?

1. В случаях, если это предусматривается заводской комплектацией транспортного средства.
2. В случаях, получения разрешения в КАП.
3. В любых случаях по желанию водителя.



3
По какой из указанных траекторий Вам разрешено выполнить поворот налево?

1. По траектории I.
2. По траектории II.
3. По любой из указанных траекторий разрешено.
4. По обоим из указанных траекторий запрещено.



4
Разрешается ли водителю легкового автомобиля синего цвета проехать перекресток в прямом направлении в данной ситуации?

1. Разрешается.
2. Запрещается.



5
В каком из указанных мест Вам разрешена остановка?

1. В указанном месте I.
2. В указанном месте II.
3. В любом из указанных мест.

6

Каковы типичные признаки, наступившего утомления водителя?

1. Сонливость, вялость, притупление внимания.
2. Возбужденность, раздражительность.
3. Головокружение, резь в глазах, повышенная потливость.



7
Кому Вы уступите дорогу при повороте налево?

1. Легковому автомобилю.
2. Трамваю.
3. Обоим транспортным средствам.
4. Никому.



8
Кому Вы уступите дорогу при повороте налево?

1. Только трамваю.
2. Только автомобилю с проблесковым маячком оранжевого цвета.
3. Трамваю и автомобилю с проблесковым маячком оранжевого цвета.
4. Всем транспортным средствам.
5. Никому.



1
Кому из данных водителей разрешается продолжить движение прямо?

1. Водителю мотоцикла.
2. Водителю легкового автомобиля.
3. Общим водителям запрещается.
4. Общим водителям разрешается.



2
Кто из указанных водителей не нарушает правила стоянки?

1. Только водитель I.
2. Только водитель II.
3. Оба водителя не нарушают.
4. Оба водителя нарушают.



3
В каких направлениях Вам разрешается продолжить движение в данной ситуации?

1. Только прямо.
2. Только налево и в обратном направлении.
3. Прямо, налево и в обратном направлении.
4. Во всех направлениях разрешается.
5. Во всех направлениях запрещается.



4
Ваши действия при одновременном выезде из жилой зоны:

1. Уступите дорогу легковому автомобилю.
2. Проедете первым.



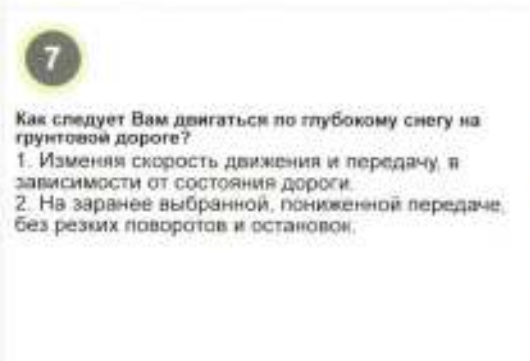
5
Водитель, какого автомобиля правильно остановился для высадки пассажиров в данной ситуации?

1. Водитель автомобиля красного цвета.
2. Водитель автомобиля зеленого цвета.
3. Водители автомобилей желтого и зеленого цветов.
4. Водители автомобилей зеленого и красного цветов.
5. Водители всех автомобилей правильно остановились.
6. Водители всех автомобилей неправильно остановились.



6
Кому Вы уступите дорогу при повороте направо?

1. Только велосипедисту.
2. Только пешеходам.
3. Пешеходам и велосипедисту.
4. Никому.



7
Как следует Вам двигаться по глубокому снегу на грунтовой дороге?

1. Изменяя скорость движения и передачу, в зависимости от состояния дороги.
2. На заранее выбранной, пониженной передаче, без резких поворотов и остановок.



8
Разрешается ли Вам продолжить движение при установке данного дорожного знака, управляя грузовым автомобилем?

1. Разрешается, если Вы управляете двухосным грузовым автомобилем фактическая масса которого 15 тонн.
2. Разрешается, если Вы управляете трехосным грузовым автомобилем фактическая масса которого 24 тонны.
3. В обоих случаях разрешается.
4. В обоих случаях запрещается.

1

Рулевое управление считается "недействующим", если:

1. Не позволяет осуществить маневр при движении с минимальной скоростью.
2. Имеются, не предусмотренные конструкцией перемещения деталей и узлов; резьбовые соединения не затянуты или не зафиксированы установленным способом.
3. Неисправен или отсутствует предусмотренный конструкцией усилитель рулевого управления или рулевой демпфер (для мотоциклов).
4. Имеются все перечисленные неисправности.

2

«Регулировщик» - распознаваемый и видимый в любое время суток (имеющий соответствующее удостоверение и экипировку, а также уполномоченный выполнять распорядительные действия по управлению движением на дорогах):

1. Сотрудник органов внутренних дел.
2. Сотрудник военной полиции или военнослужащий комендантского подразделения.
3. Работник органов транспортного контроля Министерства по инвестициям и развитию Республики Казахстан.
4. Работник дорожно-эксплуатационной службы, дежурный на железнодорожном переезде, паромной переправе.
5. Все, вышеперечисленные.

3



В каком направлении Вам разрешено продолжить движение на перекрестке, в данной ситуации?

1. Только направо.
2. Направо и налево.
3. Направо, налево и в обратном направлении.
4. В любом направлении.

4



Кому из указанных водителей разрешается произвести посадку пассажира в зоне действия данного дорожного знака?

1. Водителю такси.
2. Водителю - инвалиду I- группы.
3. Обоим разрешается.
4. Обоим запрещается.

5

Фарой-прожектором и фарой-искателем разрешается пользоваться:

1. Вне населенных пунктов при отсутствии встречных транспортных средств.
2. В населенных пунктах, только водителям транспортных средств оперативных и специальных служб при выполнении служебного задания.
3. В обоих перечисленных случаях.


6



Разрешается ли Вам выехать на крайнюю левую полосу движения в данной ситуации?

1. Запрещается.
2. Разрешается.
3. Разрешается, но только для обгона или объезда.

7



Выберите рисунок, на котором указан безопасный способ разворота с использованием примыкающей полевой дороги с левой стороны?

1. На левом рисунке.
2. На правом рисунке.
3. На обоих рисунках.

8



Кому Вы уступите дорогу при повороте налево?

1. Только грузовому автомобилю.
2. Только легковому автомобилю.
3. Обоим транспортным средствам.
4. Никому не уступите дорогу.



Разрешена ли Вам стоянка после проезда данных дорожных знаков?

1. Разрешена.
2. Разрешена, если Вы обслуживаете предприятия в зоне действия данных знаков.
3. Запрещена.



Разрешается ли Вам стоянка, в обозначенном, данными дорожными знаками месте?

1. Разрешается.
2. Запрещается.
3. Разрешается, только с включенной аварийной световой сигнализацией.
4. Разрешается, только в праздничные, субботние и воскресные дни.



Что означает зеленый, мигающий, круглый сигнал светофора?

1. Разрешает движение.
2. Разрешает движение и информирует о скором включении запрещающего сигнала.
3. Информирует о наличии нерегулируемого светофором перекрестка.



В каких направлениях Вы продолжите движение в данной ситуации?

1. Прямо и налево.
2. Прямо и направо.
3. Только прямо.
4. Налево и в обратном направлении.
5. В данной ситуации движение во всех направлениях запрещено.



Разрешается ли находиться пассажирам в буксируемом автомобиле при буксировке?

1. Разрешается.
2. Разрешается, только при буксировке на жесткой сцепке.
3. Разрешается, только при буксировке на гибкой сцепке.
4. Запрещается.



Разрешен ли Вам обгон на перекрестке в данной ситуации?

1. Разрешен.
2. Запрещен.



Разрешается ли Вам выполнить обгон в данной ситуации, при управлении грузовым автомобилем с разрешенной максимальной массой менее 3,5 тонн?

1. Разрешается.
2. Запрещается.



Разрешается ли водителю грузового автомобиля остановка в данном месте?

1. Разрешается.
2. Запрещается.
3. Запрещается, если транспортное средство закроет от других водителей дорожный знак.



Кому из данных водителей разрешается продолжить движение прямо?

1. Водителю мотоцикла.
2. Водителю легкового автомобиля.
3. Обоим водителям запрещается.
4. Обоим водителям разрешается.



Кому Вы уступите дорогу при повороте налево?

1. Только автобусу.
2. Только автомобилю с включенным проблесковым маячком.
3. Обоим транспортным средствам.
4. Никому.

3

При недействующей рабочей тормозной системе транспортного средства, водитель:

1. Обязан устранить неисправность, а если это невозможно, то следовать к месту стоянки или ремонта с соблюдением необходимых мер предосторожности.
2. Может продолжить эксплуатацию транспортного средства, со скоростью не более 20 км/ч.
3. Обязан прекратить, управлять транспортным средством.

4

В каких случаях пассажиру запрещается покидать транспортное средство?

1. В случае остановки транспортного средства, без разрешения водителя.
2. В случае остановки транспортного средства сотрудником органом внутренних дел, без его разрешения.
3. В обоих перечисленных случаях.



По какой из полос движения Вам разрешается продолжить буксировку механического транспортного средства на данном участке дороги?

1. Только по левой полосе.
2. Только по правой полосе.
3. По любой из полос движения.
4. Буксировка транспортного средства на данном участке дороги запрещена.

6

При приближении к вершине подъема в темное время суток, Вам рекомендуется, переключить дальний свет фар на ближний:

1. Только при появлении встречного транспортного средства.
2. Всегда при приближении к вершине подъема.

7

При движении в условиях недостаточной или ограниченной видимости, нужно выбирать скорость исходя из того, чтобы остановочный путь, был:

1. Больше расстояния видимости.
2. Меньше расстояния видимости.

8



Ваши действия при повороте направо:

1. Остановиться у стоп-линии.
2. Продолжить движение в намеченном направлении.



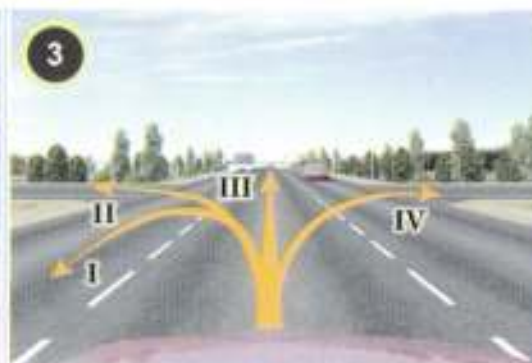
Обязаны ли Вы пропустить слепого пешехода подающего сигнал белой тростью, вне пешеходного перехода?

1. Да.
2. Нет.
3. Нет, при наличии собаки-поводыря.
4. Нет, при наличии сопровождающих его лиц.



Где Вам запрещается осуществить остановку в данной ситуации?

1. После проезда данного дорожного знака, с правой стороны.
2. После проезда данного дорожного знака, с обеих сторон.
3. До места установки данного дорожного знака с правой стороны.
4. До места установки данного дорожного знака с обеих сторон.



По каким из указанных траекторий Вам разрешается продолжить движение?

1. По траектории I и II.
2. По траектории II.
3. По траектории I, II, III.
4. По всем указанным направлениям.



Разрешается ли Вам стоянка в указанном месте с 07.00 до 09.00ч.?

1. Разрешается, только по нечетным числам месяца.
2. Разрешается, только по четным числам месяца.
3. Запрещается.



В каких направлениях Вам разрешено продолжить движение на перекрестке, в данной ситуации?

1. Только прямо и в обратном направлении.
2. Только прямо или налево.
3. Только направо, налево и в обратном направлении.
4. Во всех направлениях.



Двигаясь в прямом направлении со скоростью 60 км/ч, Вы внезапно попали на небольшой участок скользкой дороги. Что Вам следует предпринять?

1. Плавно затормозить.
2. Не менять траектории и скорости движения.



Ваши действия при повороте направо?

1. Проедете перекресток первым.
2. Уступите дорогу легковому автомобилю.



Кому Вы уступите дорогу при повороте налево?

1. Только грузовому автомобилю и автобусу.
2. Только легковому и грузовому автомобилю.
3. Всем транспортным средствам.
4. Никому.



Какую ошибку совершает водитель легкового автомобиля серого цвета въезжающего во двор?
 1. Поворачивает в зоне действия знака 4.1.1 «Движение прямо»
 2. Поворачивает, не включив световой указатель правого поворота.
 3. Совершает обе перечисленные ошибки.



О чем информирует Вас данный дорожный знак?
 1. Указывает расстояние до начала или конца дороги (км).
 2. Указывает номер, присвоенный дороге (маршруту).
 3. Указывает рекомендуемую скорость движения (км/ч).



В каких направлениях Вам разрешается продолжить движение в данной ситуации?
 1. Только направо.
 2. Только налево или направо.
 3. Направо, налево и в обратном направлении.
 4. Во всех направлениях разрешено.
 5. Во всех направлениях запрещено.




Что означает вытянутая в сторону рука водителя легкового автомобиля?
 1. Намерение повернуть налево или выполнить разворот.
 2. Намерение остановиться и уступить дорогу автобусу.
 3. Предупреждает Вас об опасности.



На каком минимальном расстоянии до знака 5.12 «Место остановки автобуса и (или) троллейбуса» Вам разрешено выполнить остановку?
 1. 5 метров.
 2. 10 метров.
 3. 15 метров.
 4. 30 метров.



Кому Вы уступите дорогу при повороте налево?
 1. Только автобусу.
 2. Только автомобилю с включенным проблесковым маячком.
 3. Обоим транспортным средствам.
 4. Никому.



Как влияет, длительный разгон транспортного средства, с включенной первой передачей, на расход топлива?
 1. Расход топлива увеличивается.
 2. Расход топлива уменьшается.
 3. Расход топлива не изменяется.



Разрешается ли Вам остановка в указанном месте?
 1. Разрешается.
 2. Запрещается.
 3. Разрешается, но только для посадки (высадки) пассажира.

1

Разрешается ли водителю транспортного средства пересекать организованную транспортную колонну?

1. Разрешается, если он движется по дороге, являющейся главной.
2. Разрешается, если это не создаст помех транспортным средствам, движущимся в колонне.
3. Запрещается.

2

Разрешается ли посадка (высадка) пассажиров со стороны проезжей части?

1. Запрещается.
2. Разрешается.
3. Разрешается, если это невозможно осуществить со стороны тротуара или обочины.
4. Разрешается, если это невозможно осуществить со стороны тротуара или обочины, при условии, что это будет безопасно и не создаст помех другим участникам дорожного движения.



О чем информирует Вас данный дорожный знак?

1. До места, где возможна длительная стоянка транспортных средств, 800 метров.
2. От места установки знака и на протяжении 800 метров после него, расположена зона, предназначенная для отдыха.



В каких направлениях Вам разрешается продолжить движение на перекрестке?

1. Прямо и налево в первый проезд по ходу движения.
2. Прямо и налево во второй проезд по ходу движения.
3. Прямо и налево в первый и во второй проезды по ходу движения.
4. Только прямо.



Что Вы сделаете в данной ситуации?

1. Начнете движение, подав звуковой сигнал.
2. Начнете движение, подав световой сигнал.
3. Начнете движение, уступив дорогу пешеходу.
4. Все вышеперечисленное.



Кому Вы уступите дорогу при проезде перекрестка в прямом направлении?

1. Только легковому автомобилю.
2. Только автобусу.
3. Обоим транспортным средствам.
4. Никому.



Если габаритная высота Вашего транспортного средства (с грузом или без груза) больше, указанной на данном дорожном знаке:

1. Вы проедете этот участок дороги с особой осторожностью.
2. Вы объедете этот участок дороги по другому маршруту.
3. Вам необходимо получить разрешение на проезд в уполномоченном государственном органе.



Кому Вы уступите дорогу при движении прямо?

1. Обоим транспортным средствам.
2. Водителю грузового автомобиля.
3. Водителю легкового автомобиля.
4. Никому.



О чем информирует Вас данный дорожный знак?

1. Указывает расстояние до начала или конца дороги (км).
2. Указывает номер, присвоенный дороге (маршруту).
3. Указывает рекомендуемую скорость движения (км/ч).



Каким из перечисленных транспортных средств разрешено движение в зоне действия данного дорожного знака?

1. Только маршрутным автобусам.
2. Легковым автомобилям и мотоциклам.
3. Грузовым автомобилям с разрешенной максимальной массой не более 3,5 тонн.
4. Транспортным средствам, перечисленным в п. п. 1 и 2.
5. Всем перечисленным транспортным средствам.



Что означает желтый круглый сигнал светофора?

1. Разрешает движение.
2. Запрещает движение.
3. Запрещает движение, если обеспечивается мигание зеленого сигнала, непосредственно перед его выключением.



По какой траектории Вам разрешается выполнить поворот налево?

1. По траектории I.
2. По траектории II.
3. По траекториям I или II.



Обучающий вождению имеет при себе:

1. Документ на право обучения вождению транспортного средства данной категории или стаж более 5 лет.
2. Документ на право обучения вождению транспортного средства данной категории и стаж более 5 лет.
3. Документ на право обучения вождению транспортного средства данной категории и стаж 5 лет.



По каким траекториям Вам разрешается выполнить обгон?

1. Только по траектории I.
2. Только по траектории II.
3. По обеим траекториям разрешается.
4. По обеим траекториям запрещается.



При торможении двигателем на крутом спуске, Вы должны выбирать передачу, исходя из условия:

1. Чем круче спуск, тем выше передача.
2. Чем круче спуск, тем ниже передача.
3. Выбор передачи не зависит от крутизны спуска.



Разрешается ли Вам стоянка в указанном месте?

1. Разрешается.
2. Запрещается.



В каком из указанных мест Вам разрешается осуществить остановку в данной ситуации?

1. В местах II и III.
2. Только в указанном месте III.
3. Только в местах I и III.
4. Во всех указанных местах разрешается.
5. Во всех указанных местах запрещается.




Кому Вы уступите дорогу при повороте налево?

1. Водителю легкового автомобиля.
2. Водителю грузового автомобиля.
3. Обоиm транспортным средствам.
4. Никому.



В каких из указанных случаях, водителю транспортного средства запрещается употребить алкогольные напитки, наркотические или психотропные вещества?

1. При управлении транспортным средством.
2. После того, как транспортное средство было остановлено по требованию сотрудника органов внутренних дел.
3. После дорожно-транспортного происшествия, к которому он причастен.
4. До проведения уполномоченным должностным лицом освидетельствования в целях установления состояния опьянения или до принятия уполномоченным должностным лицом решения, об освобождении от проведения такого освидетельствования.
5. Во всех вышеперечисленных случаях.



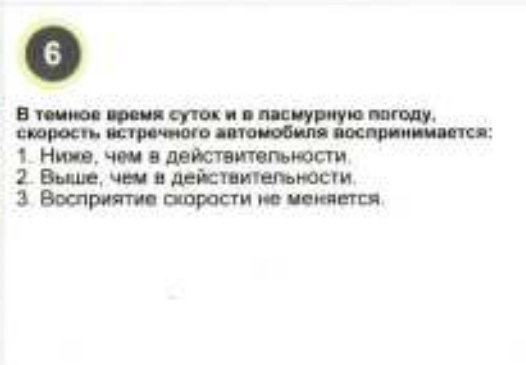
Пассажирам запрещается:

1. Отвлекать водителя от управления транспортным средством, во время движения.
2. Пользоваться телефоном или радиостанцией.
3. Открывать окна, во время движения транспортного средства.



Разрешается ли Вам выполнить обгон мотоцикла, в зоне действия данного дорожного знака?

1. Разрешается.
2. Разрешается, только с левой стороны.
3. Разрешается, если скорость мотоцикла менее 30 км/ч.
4. Запрещается.



В темное время суток и в пасмурную погоду, скорость встречного автомобиля воспринимается:

1. Ниже, чем в действительности.
2. Выше, чем в действительности.
3. Восприятие скорости не меняется.



Может ли устанавливаться данный дорожный знак непосредственно перед началом подъема?

1. Не может, так как предупреждающие знаки устанавливаются заблаговременно до начала опасного участка.
2. Может, если спуски и подъемы следуют друг за другом.
3. Правила данную ситуацию не регламентируют.



Разрешается ли Вам выполнить обгон, в данной ситуации управляя грузовым автомобилем?

1. Разрешается, если разрешенная максимальная масса грузового автомобиля менее 3,5 тонн.
2. Разрешается, если разрешенная максимальная масса грузового автомобиля более 3,5 тонн.
3. Запрещается.

1



I

II

III

IV

V

Какой из указанных дорожных знаков не относится к группе знаков сервиса?

1. Знак I.
2. Знак II.
3. Знак III.
4. Знак IV.
5. Знак V.



Разрешается ли Вам выехать на железнодорожный переезд в данной ситуации?

1. Разрешается.
2. Разрешается, убедившись в отсутствии приближающегося поезда.
3. Запрещается.



Обязаны ли Вы при движении прямо уступить дорогу трамваю, выполняющему поворот направо?

1. Обязаны.
2. Не обязаны.



Разрешено ли Вам подъехать к дому, в котором проживаете, расположенному за знаком?

1. Разрешено.
2. Разрешено, но только с противоположного направления.
3. Разрешено, но только включив аварийную световую сигнализацию.
4. Запрещено.

5



В каких направлениях Вам разрешается продолжить движение?

1. Только прямо.
2. Только направо.
3. Направо и в обратном направлении.
4. Во всех направлениях разрешается.
5. Во всех направлениях запрещается.



Для прекращения заноса, вызванного торможением, Вы в первую очередь должны:

1. Прекратить, начав торможение.
2. Выключить сцепление.
3. Продолжить торможение, не меняя усилие нажатия на педаль тормоза.



Какими будут Ваши действия при включении зеленого сигнала светофора?

1. Незамедлительно начнете движение.
2. Незамедлительно начнете движение, убедившись в отсутствии пешеходов.
3. Незамедлительно начнете движение, убедившись в отсутствии пешеходов и транспортных средств.



Ваши действия при повороте налево?

1. Проедете перекресток первым.
2. Уступите дорогу только легковому автомобилю.
3. Уступите дорогу только автобусу.
4. Уступите дорогу всем транспортным средствам.



1. Уступите ли Вы дорогу грузовому автомобилю при выполнении разворота на перекрестке?
 1. Да.
 2. Нет.



2. Разрешается ли Вам выполнить разворот после проезда данного дорожного знака?
 1. Разрешается.
 2. Разрешается, только в светлое время суток.
 3. Запрещается.



3. Уступите ли Вы дорогу трамваю при выполнении разворота?
 1. Да.
 2. Нет.
 3. В данной ситуации Вам запрещается выполнить разворот.



4. Разрешается ли движение задним ходом на путепроводе?
 1. Запрещается.
 2. Разрешается.
 3. Разрешается при условии, что этот маневр будет безопасен.



5. Разрешается ли водителю легкового автомобиля ставить транспортное средство на проезжей части, указанным способом?
 1. Разрешается.
 2. Запрещается.
 3. Запрещается, если это создаст помехи движению транспортных средств.



6. Ваши действия при движении прямо?
 1. Уступите дорогу трамваю и легковому автомобилю.
 2. Уступите дорогу только трамваю.
 3. Проедете перекресток первым.



7. При движении по участку дороги, на котором установлен данный дорожный знак Вам рекомендуется:
 1. Снизить скорость и быть готовым к возможному отклонению траектории движения автомобиля.
 2. Не изменяя скорости, сместиться ближе к центру дороги.
 3. Не изменяя скорости, сместиться ближе к обочине.



8. Управляя, каким транспортным средством Вам запрещается продолжить движение прямо?
 1. Легковым автомобилем.
 2. Грузовым автомобилем с разрешенной максимальной массой менее 3,5 тонн.
 3. Мотоциклом.
 4. Всеми перечисленными транспортными средствами.

1

При движении на легковом автомобиле, оборудованном ремнями безопасности, быть пристегнутыми обязаны:

1. Только водитель.
2. Только водитель и пассажир на переднем сиденье.
3. Только водитель и пассажиры, за исключением детей до 12 лет на заднем сиденье.
4. Все, находящиеся в легковом автомобиле, лица.



Укажите количество полос движения на данном участке дороги:

1. Одна.
2. Две.
3. Три.
4. Четыре.
5. Пять.

3



С какой максимальной скоростью Вам разрешено продолжить движение после проезда данного дорожного знака?

1. 5 км/ч.
2. 10 км/ч.
3. 20 км/ч.
4. 40 км/ч.
5. 60 км/ч.

4



Водители, каких транспортных средств уступят дорогу трамваю, выезжающему в депо в данной ситуации?

1. Водители обоих транспортных средств.
2. Только водитель автобуса.
3. Только водитель легкового автомобиля.
4. Никто из водителей.

5



Какие из указанных дорожных знаков повторятся при установке вне населенных пунктов?

1. Знаки I и II.
2. Знаки II и III.
3. Знаки III и IV.
4. Знаки IV и V.

6



Разрешается ли Вам объехать место ДТП с выездом на полосу встречного движения?

1. Разрешается.
2. Запрещается.
3. Разрешается, убедившись в отсутствии встречных транспортных средств и предварительно включив аварийную световую сигнализацию.

7



Кому Вы уступите дорогу при повороте налево?

1. Водителю легкового автомобиля белого цвета.
2. Водителю легкового автомобиля желтого цвета.
3. Обоим транспортным средствам.
4. Никому.

8



Кому Вы уступите дорогу при повороте направо?

1. Только легковому автомобилю.
2. Только мотоциклу.
3. Обоим транспортным средствам.
4. Никому.



В каких направлениях Вам разрешено продолжить движение?

1. Только налево.
2. Только налево и в обратном направлении.
3. Прямо, налево и в обратном направлении.
4. Прямо, налево, направо и в обратном направлении.



О чем может предупреждать Вас данный дорожный знак?

1. О направлениях объезда ремонтируемого участка дороги.
2. О направлениях движения на Т-образном перекрестке или разветвлении дорог.
3. О направлениях движения на Т-образном перекрестке или разветвлении дорог и о направлениях объезда ремонтируемого участка дороги.



Что означает желтый, постоянно мигающий, круглый сигнал светофора?

1. Информировать о неисправности светофора.
2. Информировать о наличии нерегулируемого светофором перекрестка или пешеходного перехода, предупреждает об опасности.
3. Запрещает движение.



О чем информирует вытянутая в сторону левая рука водителя мотоцикла?

1. О приближении слева транспортного средства.
2. О намерении продолжить движение прямо или налево.
3. О намерении повернуть налево или выполнить разворот.



Как Вы поступите в данной ситуации?

1. Остановитесь у края проезжей части.
2. Продолжите движение, увеличив внимание.
3. Снизите скорость, чтобы иметь возможность остановиться в случае необходимости.



Разрешается ли Вам выполнить обгон в данной ситуации?

1. Разрешается.
2. Разрешается, при условии, что обгон будет завершен за 100 метров до переезда.
3. Запрещается.



При движении на каком автомобиле, увеличение скорости, может способствовать устранению заноса задней оси?

1. На переднеприводном автомобиле.
2. На заднеприводном автомобиле.



Может ли устанавливаться данный дорожный знак непосредственно перед началом подъема?

1. Не может, так как предупреждающие знаки устанавливаются заблаговременно до начала опасного участка.
2. Может, если спуски и подъемы следуют друг за другом.
3. Правила данную ситуацию не регламентируют.



В каком из указанных мест Вам разрешается остановка?

1. Только в указанных местах I и II.
2. Только в указанном месте II.
3. Только в указанных местах II и III.
4. Во всех указанных местах разрешается.



Ваши действия при повороте налево?

1. Проедете перекресток первым.
2. Уступите дорогу автомобилю.



Разрешается ли водителю при управлении транспортным средством пользоваться телефоном либо радиостанцией?

1. Разрешается.
2. Разрешается при движении с минимальной скоростью.
3. Разрешается, посредством применения наушников или громкой связи.
4. Запрещается.



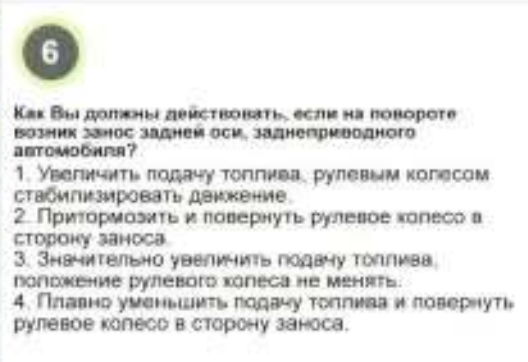
На каком расстоянии до начала тоннеля устанавливается данный дорожный знак в населенном пункте?

1. 10-15 метров.
2. 50-100 метров.
3. 150-300 метров.



Разрешается ли Вам въезд во двор в данной ситуации?

1. Разрешается.
2. Запрещается.
3. Разрешается, если Вы проживаете в этом доме.



Как Вы должны действовать, если на повороте возник занос задней оси, заднеприводного автомобиля?

1. Увеличить подачу топлива, рулевым колесом стабилизировать движение.
2. Притормозить и повернуть рулевое колесо в сторону заноса.
3. Значительно увеличить подачу топлива, положение рулевого колеса не менять.
4. Плавно уменьшить подачу топлива и повернуть рулевое колесо в сторону заноса.



Разрешается ли Вам приступить к выполнению поворота направо в данной ситуации?

1. Разрешается.
2. Разрешается, если это не создает помех движению автобуса.
3. Разрешается, если водитель автобуса подаст звуковой сигнал.



В каком из перечисленных случаев, Вы уступите дорогу пешеходам при проезде перекрестка?

1. Только при повороте налево.
2. Только при повороте направо.
3. В обоих перечисленных случаях.



2

Если при движении в условиях недостаточной видимости на транспортном средстве отключились внешние световые приборы, водитель:

1. Продолжит движение, снизив скорость, подавая сигнал общей тревоги.
2. Остановится за пределами дороги, а если это невозможно, транспортное средство обозначается знаком аварийной остановки (или мигающим красным фонарем).
3. Остановится по возможности правее, и устранит неисправность.

О чем информируют Вас данные дорожные знаки?

1. Информируют о наличии места стоянки у левого края проезжей части.
2. Информируют о наличии места стоянки на тротуаре слева.
3. Информируют о стояночной площадке, удаленной от края проезжей части слева.



4



Водителям, каких транспортных средств, разрешается движение по тротуарам или пешеходным дорожкам?

1. Всех если при этом не будут созданы помехи для движения пешеходов.
2. Только грузовых автомобилей, подвозящих по кратчайшему пути грузы к объектам, расположенным непосредственно у тротуаров и пешеходных дорожек и при отсутствии других возможностей подъезда, при условии обеспечения безопасности движения.
3. Всех, подвозящих по кратчайшему пути грузы к объектам, расположенным непосредственно у тротуаров и пешеходных дорожек и при отсутствии других возможностей подъезда, при условии обеспечения безопасности движения.

О чем информирует Вас данный дорожный знак?

1. Автозаправочная станция находится на примыкающей слева дороге через 500 метров от поворота.
2. Автозаправочная станция находится через 500 метров с левой стороны дороги.



Разрешается ли Вам выполнить обгон на перекрестке?

1. Разрешается.
2. Запрещается.

При обгоне автобуса на узкой дороге Вам рекомендуется:

1. Максимально приблизиться к обгоняемому автомобилю, затем перестроиться на полосу встречного движения и завершить обгон.
2. Перестроиться на полосу встречного движения, произвести обгонение с обгоняемым транспортом средством и завершить обгон.
3. Допустимы оба варианта действий.



Кому Вы уступите дорогу при движении прямо?

1. Только легковому автомобилю.
2. Только легковому автомобилю и автобусу.
3. Всем транспортным средствам.
4. Никому.

Кому Вы уступите дорогу при проезде перекрестка в прямом направлении?

1. Только трамваю I.
2. Только трамваю II.
3. Обоим трамваям.
4. Никому не уступите дорогу.




В каких направлениях Вам разрешается продолжить движение?

1. Только прямо.
2. Прямо или налево.
3. Прямо, налево и в обратном направлении.
4. Движение во всех направлениях разрешается.
5. Движение во всех направлениях запрещается.



Каким транспортным средствам движение разрешается только направо?

1. Транспортным средствам фактическая масса, которых равна 15 тонн.
2. Транспортным средствам с разрешенной максимальной массой более 15 тонн.
3. Транспортным средствам с разрешенной максимальной массой равной 15 тонн.



Что означает сочетание красного и желтого круглых сигналов светофора?

1. Запрещает движение и информирует о неисправности светофора.
2. Запрещает движение и информирует о предстоящем включении зеленого сигнала.
3. Разрешает движение.



Разрешено ли Вам выполнить разворот в указанном месте?

1. Разрешено, при видимости дороги более 100 метров.
2. Разрешено, только в светлое время суток.
3. Разрешено, при отсутствии пешеходов.
4. Запрещено.




Разрешается ли Вам остановка в указанном месте?

1. Разрешается.
2. Запрещается.
3. Разрешается, при видимости дороги более 100 метров.



Разрешается ли Вам опережение движущегося автобуса в данной ситуации?

1. Разрешается.
2. Запрещается.
3. Разрешается, убедившись, что это будет безопасно.



Как следует поступить, если у Вашего автомобиля во время движения, произошел прокол шины колеса?

1. Резко повернуть рулевое колесо направо и нажать на педаль тормоза.
2. Крепко держать рулевое колесо и плавно остановиться.
3. Выключить двигатель и включить стояночный тормоз.



При движении на затяжных и крутых спусках, покрытых снегом или льдом, Вам рекомендуется:

1. Двигаться накатом с использованием рабочей тормозной системы.
2. Включить пониженную передачу перед началом спуска и двигаться, периодически притормаживая рабочим тормозом.
3. Снизить в начале спуска скорость и постепенно переключать передачи до выбора оптимального режима движения.



Управляя, каким транспортным средством Вам запрещается продолжить движение прямо?

1. Обслуживающие предприятия(граждан), находящиеся(проживающих) в обозначенной зоне.
2. Маршрутным транспортным средством.
3. Грузовым автомобилем с разрешенной максимальной массой менее 3,5 тонн.
4. Всеми перечисленными транспортными средствами.



Каким транспортным средствам запрещает движение данный дорожный знак?

1. Грузовым автомобилем, если ширина проезжей части менее 10 метров.
2. Транспортным средствам (составом транспортных средств) габаритная длина которых(с грузом или без груза) более 10 метров.
3. Транспортным средствам габаритная ширина которых(с грузом или без груза) более 10 метров.



Разрешается ли водителю легкового автомобиля движение задним ходом в данной ситуации?

1. Разрешается.
2. Запрещается.



Уступите ли Вы дорогу трамваю при движении прямо на данном перекрестке?

1. Да.
2. Нет.



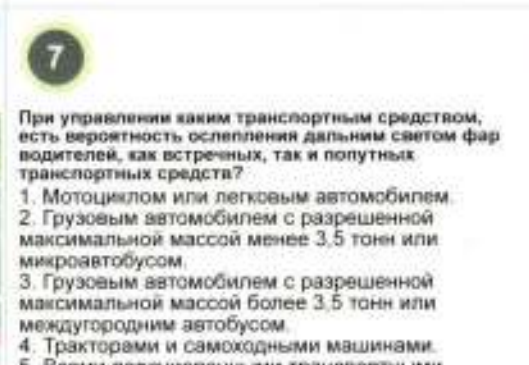
Разрешается ли Вам покинуть крайнюю правую полосу движения, управляя транспортным средством, скорость которого менее 40 км/ч?

1. Разрешается только при обгоне или объезде.
2. Разрешается только при перестроении перед поворотом налево или разворотом.
3. Разрешается для остановки или стоянки на левой стороне дороги.
4. Во всех перечисленных случаях разрешается.
5. Во всех перечисленных случаях запрещается.



С какой максимальной скоростью Вы можете двигаться, управляя легковым автомобилем, на данном участке?

1. 70 км/ч.
2. 90 км/ч.
3. 100 км/ч.
4. 110 км/ч.
5. 140 км/ч.



При управлении каким транспортным средством, есть вероятность ослепления дальним светом фар водителей, как встречных, так и попутных транспортных средств?

1. Мотоциклом или легковым автомобилем.
2. Грузовым автомобилем с разрешенной максимальной массой менее 3,5 тонн или микроавтобусом.
3. Грузовым автомобилем с разрешенной максимальной массой более 3,5 тонн или междугородним автобусом.
4. Тракторами и самоходными машинами.
5. Всеми перечисленными транспортными средствами.



Если, Вы движетесь по дороге, с двухсторонним движением, на которой отсутствует разметка полос движения:

1. Вы можете двигаться, в любом месте проезжей части.
2. Выберите свое положение, учитывая ширину проезжей части.
3. Необходимо держаться, ближе к центру дороги.



В данной ситуации неровный участок дороги вне населенного пункта, начнется:

1. За данными дорожными знаками.
2. Через 50 – 100м.
3. Через 150 – 300м.
4. Через 50 км.



Данный дорожный знак обозначает:

1. Оборудованный шлагбаумом железнодорожный переезд с одним путем.
2. Необорудованный шлагбаумом железнодорожный переезд с одним путем.
3. Оборудованный шлагбаумом железнодорожный переезд, с двумя путями и более.
4. Необорудованный шлагбаумом железнодорожный переезд, с двумя путями и более.



Ваши действия при поднятии регулировщиком руки в данной ситуации?

1. Продолжите движение, руководствуясь сигналом светофора.
2. Продолжите движение, если для остановки перед перекрестком Вы будете вынуждены прибегнуть к экстремному торможению.



По какой из указанных траекторий Вам разрешается выполнить разворот?

1. Только по траектории I.
2. Только по траектории II.
3. По любой из указанных траекторий разрешается.
4. По любой из указанных траекторий запрещается.



О чем информирует Вас вытянутая рука водителя, стоящего автомобиля?

1. О его намерении начать движение.
2. О просьбе оказать помощь.
3. Об имеющейся опасности за поворотом.



В данной ситуации, водитель, какого транспортного средства нарушает Правила?

1. Только водитель легкового автомобиля.
2. Только водитель грузового автомобиля.
3. Оба водителя нарушают.
4. Оба водителя не нарушают.



К каким негативным последствиям, может привести неравномерное расположение груза большой массы, на автомобиле?

1. Управление автомобиля становится затруднительным.
2. Положение автомобиля становится неустойчивым.
3. Приведет к обоим негативным последствиям.



С какой максимальной скоростью Вам разрешается продолжить движение в населенном пункте, управляя легковым автомобилем?

1. 60 км/ч.
2. 70 км/ч.
3. 80 км/ч.
4. 90 км/ч.
5. 110 км/ч.
6. 140 км/ч.



Разрешается ли Вам осуществить остановку в указанном месте?

1. Разрешается.
2. Разрешается, если это не создаст помех движению трамвая.
3. Запрещается.



На каком расстоянии до места проведения краткосрочных работ на проезжей части, может быть установлен данный дорожный знак?

1. 5-10 метров.
2. 10-15 метров.
3. 15-30 метров.
4. 50-100 метров.
5. 150-300 метров.



По какой траектории Вам разрешается выполнить поворот налево в данной ситуации?

1. По любой траектории.
2. Только по траектории I.
3. Только по траектории II.



Разрешается ли Вам осуществить остановку в указанном месте?

1. Разрешается.
2. Разрешается, если это не создаст помех движению трамвая.
3. Запрещается.



Разрешается ли Вам опережение автобуса, который остановился перед перекрестком в данной ситуации?

1. Разрешается.
2. Запрещается.
3. Разрешается, убедившись, что это будет безопасно.



При движении на косограх, Вы должны:

1. Увеличить скорость движения, если чувствуете, что колеса Вашего автомобиля, теряют контакт с дорогой.
2. Уменьшить скорость движения, избегая резких поворотов рулевым колесом.
3. При движении, как можно чаще, резко поворачивать рулевое колесо, то вправо, то влево, чтобы улучшить контакт шин с дорогой.



Прицеп автопоезда на повороте смещается:

1. К центру поворота.
2. От центра поворота.
3. Не смещается.



В каких направлениях Вам разрешается проехать перекресток, управляя грузовым автомобилем с разрешенной максимальной массой менее 3,5 тонн?

1. Только в обратном направлении.
2. Только направо и налево.
3. Направо, налево и в обратном направлении.
4. В любых направлениях.




Каким транспортным средствам запрещает движение данный дорожный знак?

1. Грузовым автомобилям, если ширина проезжей части менее 3 метров.
2. Транспортным средствам (составам транспортных средств) габаритная длина которых(с грузом или без груза) более 3 метров.
3. Транспортным средствам габаритная ширина которых(с грузом или без груза) более 3 метров.



Разрешается ли Вам продолжить дальнейшее движение в данной ситуации?

1. Разрешается.
2. Разрешается, на минимальной скорости обеспечивающей безопасность.
3. Разрешается, но только в светлое время суток.
4. Не разрешается.



По какой из указанных траекторий Вам разрешено выполнить поворот налево?

1. Только по траектории I.
2. Только по траектории II.
3. По обеим траекториям разрешается.
4. По обеим траекториям запрещается.



Укажите траекторию, по которой Вам разрешается выполнить разворот?

1. Траектория I.
2. Траектория II.
3. Траектории I и II.
4. По указанным траекториям разворот запрещен.



Если Вы движетесь со скоростью менее 40 км/ч., по какой из полос Вам разрешается продолжить движение?

1. По средней полосе.
2. По крайней левой полосе.
3. По крайней правой полосе.
4. По любой из полос движения.



К чему приводит, пониженное давление воздуха в шинах, передних колес автомобиля?

1. К увеличению тормозного пути.
2. К снижению силы сцепления шин с дорогой.
3. К затруднению управления автомобилем.
4. Ко всему выше перечисленному.



При движении с прицепом необходимо:

1. Периодически, подавать звуковой сигнал.
2. Использовать для остановки не только ножной, но и ручной тормоз.
3. Увеличить дистанцию, до транспорта, идущего спереди.



При выполнении обгона на автомобиле с прицепом, Вам не следует:

1. Бояться встречных автомобилей.
2. Подавать предупредительные сигналы.
3. Круто и резко поворачивать руль, при возвращении на ранее занимаемую полосу.
4. Оценивать скорость, обгоняемого транспорта.



Что обозначают данные дорожные знаки?

1. Обозначают место стоянки любых транспортных средств.
2. Обозначают место стоянки транспортных средств, на которых установлен опознавательный знак «Инвалид».
3. Обозначают место, где разрешается остановка любых транспортных средств, связанная с посадкой или высадкой пассажиров.

Ваши действия после проезда данного дорожного знака?

1. Снизить скорость, и быть осторожным при въезде в тоннель.
2. Снизить скорость, и въезжать в тоннель с включенным ближним (дальним) светом фар.
3. Снизить скорость, и подать звуковой сигнал при въезде в тоннель.

В каких направлениях Вам разрешается продолжить движение, двигаясь по средней полосе движения?

1. Только прямо.
2. Только прямо или налево.
3. Прямо, налево и в обратном направлении.

Водитель, какого транспортного средства, поворачивая направо, нарушает Правила дорожного движения?

1. Только водитель автобуса.
2. Только водитель легкового автомобиля.
3. Водители обоих транспортных средств нарушают.
4. Водители обоих транспортных средств не нарушают.



Чем вызывается перемещение назад пассажиров или неукрепленного груза при движении автомобиля?


1. Резким ускорением автомобиля.
2. Резким замедлением автомобиля.
3. Резким ускорением и резким замедлением движения автомобиля.

В каком из указанных мест Вам разрешается осуществить остановку в данной ситуации?

1. В местах I и II.
2. Только в местах I и III.
3. Только в месте III.
4. Во всех указанных местах разрешается.
5. Во всех указанных местах запрещается.

Разрешается ли водителю грузового автомобиля остановка в данном месте?

1. Разрешается.
2. Разрешается, только для загрузки или разгрузки груза.
3. Запрещается.



Какой из указанных дорожных знаков предупреждает о железнодорожном переходе с одним путем?

1. Знак I.
2. Знак II.
3. Знак III.
4. Знак IV.
5. Знаки I и IV.



Какой дорожный знак разрешает объезд препятствия слева?

1. Знак I.
2. Знак II.
3. Знак III.
4. Знаки I и II.
5. Знаки II и III.



Какие из указанных дорожных знаков действуют только на то пересечение проезжих частей, перед которыми они установлены?

1. Знаки I и II.
2. Знаки II и III.
3. Знаки I и III.



Какую из указанных траекторий Вы выберете при повороте налево в данной ситуации?

1. Траекторию I.
2. Траекторию II.
3. Траекторию III.
4. Любую из указанных траекторий.



Разрешено ли водителю легкового автомобиля выполнить движение задним ходом на данном участке дороги?

1. Разрешено.
2. Разрешено, но только до пешеходного перехода.
3. Запрещено.



По какой из указанных траекторий Вам разрешено выполнить поворот направо?

1. По траектории I.
2. По траектории II.
3. По любой траектории.



По какой из полос движения Вам разрешается продолжить движение, после проезда данного дорожного знака?

1. По левой полосе.
2. По средней полосе.
3. По правой полосе.
4. По любой, кроме левой полосы.



Разрешена ли Вам стоянка в указанном месте?

1. Разрешена.
2. Запрещена.



В каких направлениях Вам разрешено продолжить движение в данной ситуации?

1. Только направо.
2. Только прямо и направо.
3. Во всех направлениях.
4. В данной ситуации движение запрещено.

1



Какой из указанных дорожных знаков называется «Пересечение равнозначных дорог»?

1. Знак I.
2. Знак II.
3. Знак III.
4. Знак IV.

2



Какой из указанных дорожных знаков запрещает проезд без остановки у контрольного пункта?

1. Знак I.
2. Знак II.
3. Знак III.
4. Знак IV.
5. Знак V.

3



Разрешено ли водителю легкового автомобиля выполнить движение задним ходом для последующего поворота направо на данном перекрестке?

1. Разрешено.
2. Разрешено, если это не создаст помехи для движения других транспортных средств.
3. Запрещено.

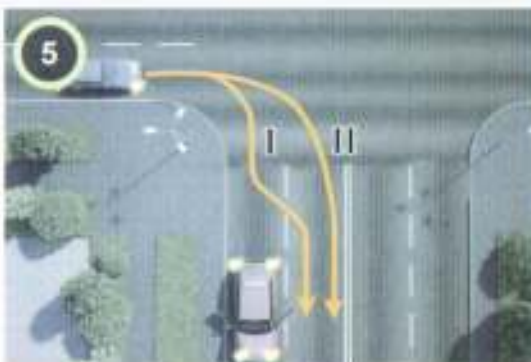
4



Необходимо ли Вам включить световой указатель левого поворота при объезде транспортного средства в данной ситуации?

1. Да.
2. Нет.
3. Да, только при наличии приближающихся транспортных средств сзади.

5



По какой из указанных траекторий Вам разрешено выполнить поворот направо в данной ситуации?

1. По траектории I.
2. По траектории II.
3. По обеим указанным траекториям.

6



Световые указатели какого поворота, Вы включите при выполнении разворота в данной ситуации?

1. Только правого.
2. Только левого.
3. Сначала правого, а при движении от тротуара - левого.

7



Выезжать из глубокой колеи водителю заднеприводного автомобиля следует:

1. На небольшой скорости, сначала резко повернув рулевое колесо в сторону, противоположную направлению выезда, а затем, в сторону выезда.
2. Начать выезжать, как можно быстрее, резко повернув рулевое колесо в сторону выезда.

8



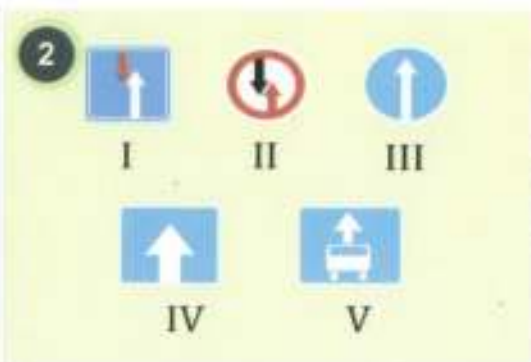
Разрешена ли Вам остановка в указанном месте?

1. Разрешена.
2. Запрещена.



1 Кто из водителей нарушает Правила, двигаясь со скоростью 40 км/ч, в данной ситуации?

1. Водитель автомобиля желтого цвета.
2. Водитель автомобиля красного цвета.
3. Оба нарушают.
4. Оба не нарушают.



2 Каким из указанных дорожных знаков обозначается участок дороги с односторонним движением?

1. Знак I.
2. Знак II.
3. Знак III.
4. Знак IV.
5. Знак V.



3 Разрешено ли Вам осуществлять движение задним ходом для посадки пассажира в данной ситуации?

1. Разрешено.
2. Разрешено, если не будет создано помех маршрутным транспортным средствам.
3. Запрещено.



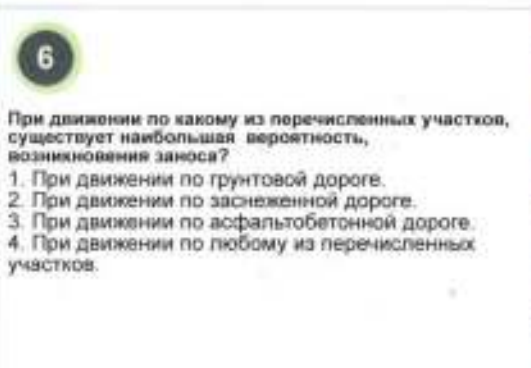
4 Необходимо ли Вам включить световой указатель правого поворота при движении направо в данной ситуации?

1. Да.
2. Нет.
3. Нет, так как движение разрешается только направо.



5 Разрешено ли водителю легкового автомобиля осуществлять движение задним ходом в зоне действия данного дорожного знака?

1. Разрешено.
2. Запрещено.



6 При движении по какому из перечисленных участков, существует наибольшая вероятность возникновения заноса?

1. При движении по грунтовой дороге.
2. При движении по заснеженной дороге.
3. При движении по асфальтобетонной дороге.
4. При движении по любому из перечисленных участков.




7 В каких направлениях Вам разрешено продолжить движение в данной ситуации?

1. Только направо.
2. Только прямо и направо.
3. Во всех направлениях.
4. В данной ситуации движение запрещено.



8 С какой максимальной скоростью Вы можете продолжить движение вне населенного пункта, после проезда данных дорожных знаков, управляя грузовым автомобилем с разрешенной максимальной массой менее 3,5 тонн?

1. 50 км/ч.
2. 70 км/ч.
3. 90 км/ч.
4. 100 км/ч.
5. 110 км/ч.



Какой из указанных знаков устанавливается непосредственно перед перекрестком?

1. Знак I.
2. Знак II.
3. Знак III.
4. Знак IV.
5. Знак V.



О чем информируют Вас данные дорожные знаки?

1. Информируют о месте для разворота, расстояние до которого 100 метров.
2. Информируют о месте для разворота, протяженность зоны которого 100 метров.
3. Информируют о том, что движение по крайней левой полосе разрешается только транспортным средствам намеревающимся выполнить разворот.



Что обозначают данные дорожные знаки?

1. Место стоянки у левого края проезжей части, протяженностью 100 метров.
2. Место стоянки с полным или частичным заездом на тротуар с левой стороны протяженностью 100 метров.
3. Место стоянки в левой стороне, через 100 метров.



Как обязан поступить водитель легкового автомобиля синего цвета при приближении автомобиля с включенным проблесковым маячком синего цвета, сопровождающего колонну?

1. Уступить дорогу, перестроившись на правую полосу движения.
2. Остановиться у тротуара и возобновить движение только после проезда, замыкающего колонну транспортного средства.
3. Продолжить дальнейшее движение, не меняя полосы движения.



Разрешается ли Вам выполнить разворот с использованием правой обочины?

1. Запрещается.
2. Разрешается, но только в светлое время суток.
3. Разрешается, если ширина проезжей части недостаточна для выполнения маневра.
4. Разрешается, уступая дорогу попутным и встречным транспортным средствам.
5. Действия перечисленные в п.п. 2 и 3.
6. Действия перечисленные в п.п. 3 и 4.



По какой из указанных траекторий Вам разрешается продолжить движение в данной ситуации?

1. Только по траекториям I и II.
2. Только по траекториям I или III.
3. Только по траекториям II и III.
4. По всем указанным траекториям.



О чем информирует Вас дорожный знак, установленный перед перекрестком?

1. Указывает разрешенные направления движения на перекрестке.
2. О выезде на дорогу с реверсивным движением.
3. О наличии Т-образного перекрестка или разветвлении дорог.



В каких случаях включается опознавательный знак «Автопоезд» при движении автопоезда?

1. Только в темное время суток и в условиях недостаточной видимости.
2. Только в светлое время суток и в условиях недостаточной видимости.
3. Включается в обоих случаях.



Какой из указанных дорожных знаков предупреждает о приближении к участку дорог с двухсторонним движением?

1. Знак I.
2. Знак II.
3. Знак III.
4. Знак IV.
5. Знак V.



Разрешено ли Вам подъехать к дому, в котором проживаете, расположенному за знаком?

1. Разрешено только в рабочие дни.
2. Разрешено только в нерабочие дни.
3. Разрешено в любой день.
4. Запрещено.



Разрешается ли Вам остановка на перекрестке в данной ситуации?

1. Разрешается.
2. Разрешается, если расстояние до линии разметки более 3 метров.
3. Запрещается.



Ваши действия в данной ситуации:

1. Проедете первым.
2. Уступите дорогу транспортному средству оперативных служб.



Разрешается ли водителю выполнить разворот в данной ситуации?

1. Разрешается, после проезда знака 3.31 «Конец зоны всех ограничений».
2. Запрещается.
3. Разрешается.



Разрешается ли Вам обгон в данной ситуации?

1. Разрешается.
2. Запрещается.
3. Разрешается, если скорость грузового автомобиля менее 30 км/ч.



В данной ситуации приближаясь к остановившемуся транспортному средству. Вы:

1. Продолжите движение с соблюдением мер предосторожности.
2. Снизите скорость, при необходимости остановитесь и пропустите детей.
3. Продолжите движение, подав звуковой сигнал.



Разрешается ли Вам выполнить обгон, в данной ситуации управляя легковым автомобилем?

1. Разрешается.
2. Запрещается.
3. Разрешается, если скорость грузового автомобиля менее 30 км/ч.
4. Разрешается, если скорость грузового автомобиля 30 км/ч.